

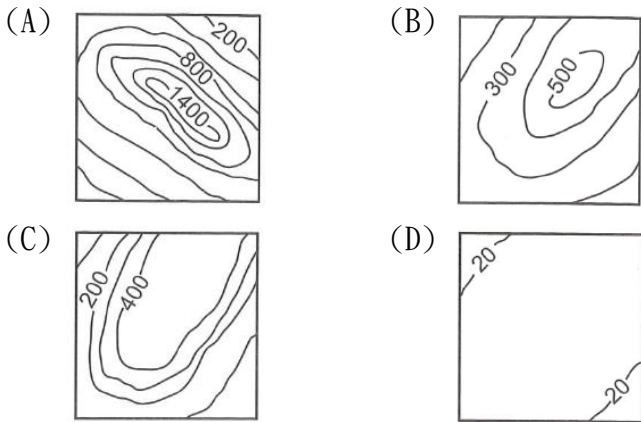
選擇題：每題 2 分(1-16 題為地理；17-33 題為歷史；34-50 題為公民)

◎受到 COVID-19 疫情的影響，多多已經約兩年的時間沒有出外旅遊，到了 2023 年終於如願以償，從 2023 年 1 月開始，進行了一年的旅遊。請回答第 1 題~第 16 題：

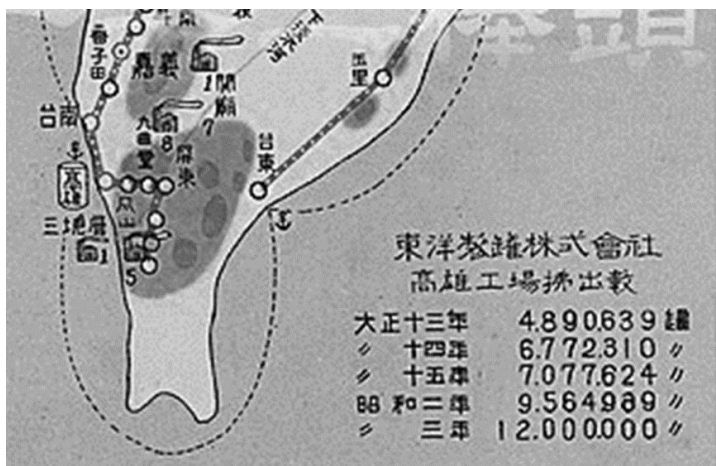
- () 1. 出門旅遊時最怕老天「不賞臉」，遇到下雨影響旅遊的心情。多多在某一天要出門旅遊時，打開手機中的氣象預報 APP，發現目的地正在下雨，只好無奈的帶著傘出門。請問：多多當天旅遊的目的地，最有可能在下列哪個行政區中？
 (A)臺北市 (B)臺中市
 (C)臺南市 (D)高雄市



- () 2. 過了幾天，多多來到了一個地名為「鹽埕」之處，此地名由來與該地早期發展製鹽產業有關。請問：其中的「埕」字與下列何種地形種類最具關連性？

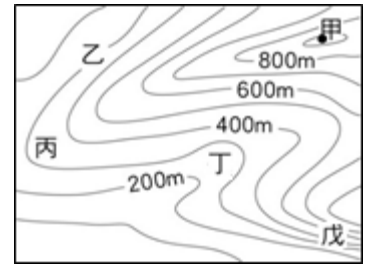


- () 3. 多多同一天也到鳳梨罐頭觀光工廠參觀，在館內臺灣鳳梨與罐頭發展史的資料中，看到一張日治時期「臺灣合同鳳梨株式會社」，在 1930 年代期間主要的工廠與鳳梨種植區地圖(如下圖)，圖中中灰色色塊是鳳梨產地；煙囪冒煙的圖例是工廠；⚓代表港口。根據下圖資訊判斷，你認為日治時期鳳梨工廠區位選擇，考量的主要因素為？ (A)原料 (B)動力 (C)市場 (D)交通

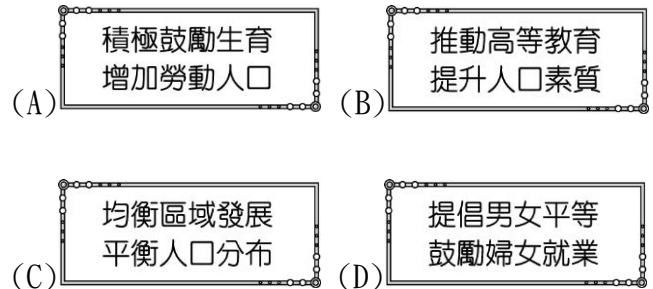


- () 4. 幾天後，多多來到了屏東恆春半島，騎著機車沿著海邊公路南下時，突遇強風被吹倒摔車「犁田」，看完醫生後只好先回家休養。回家一查，自己遇到的強風便是恆春半島的「落山風」，是恆春半島對於東北季風的慣稱，每年從 10 月到次年 4 月，東北季風翻過○○山脈而下，強勁的下坡風直撲恆春半島西岸，有時瞬間強度可達 6、7 級，相當於輕度颱風的威力，也曾有吹翻機車而造成傷亡的紀錄。請問：上述文中提到的「○○山脈」，指的應該是臺灣哪一座山脈？ (A)海岸山脈 (B)玉山山脈 (C)中央山脈 (D)雪山山脈。

- () 5. 經過一段時間的休養後，多多再度出發到了臺東的山區踏青，爬山過程中不慎踩空跌落山谷，隨身攜帶的手機、背包等皆在過程中遺失，幸好跌落處附近有條河川，提供足夠的水源讓多多可以安心在原地等待救援。請問：多多跌落處最有可能位於右圖中的何處？ (A)甲 (B)乙 (C)丙 (D)丁。



- () 6. 經過一天的搜救後，多多順利獲救，但因為所在地區距離具中度以上緊急醫療能力的醫院較遠，車程大約 40 分鐘後，才順利將多多送到醫院救治。事後，多多好奇為何以前在臺北市時急救送醫約 5~10 分鐘的車程就可到達醫院，但在臺東要花半小時以上的車程，經查詢後，發現臺東僅 1 家可收治中度以上緊急醫療能力的醫院。請問：下列哪個政策口號的出現，是希望可以解決前文敘述的社會問題？



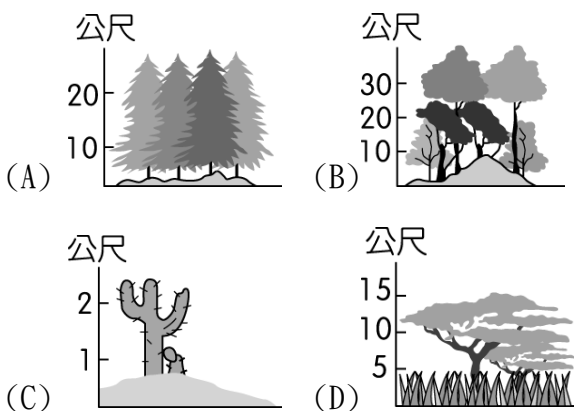
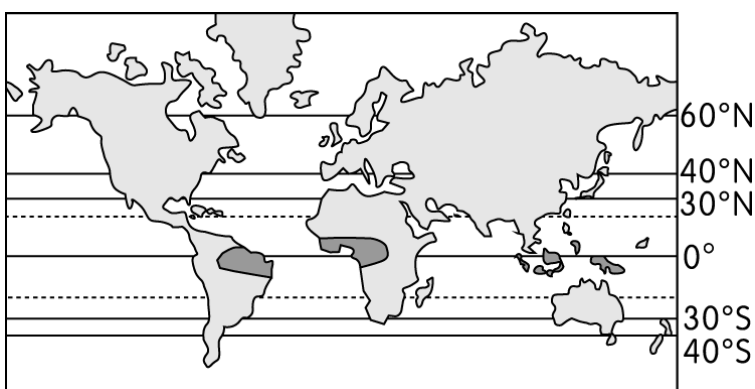
- () 7. 除了在臺灣本島外，多多還有到臺灣的離島旅遊。當多多到了臺灣某離島遊覽時，手機的定位系統測得該地的經緯度座標為(23.56°N, 119.56°E)，多多最可能是在下列臺灣的哪個離島遊覽？ (A)澎湖群島 (B)龜山島 (C)東沙島 (D)蘭嶼。

- () 8. 在經過半年的國內旅遊後，多多開始踏出國門開啟環遊世界之旅，到了機場準備搭機時，發現了穆斯林祈禱室的標示(如下圖)。禮拜是伊斯蘭教最基本的功課，也是穆斯林直接向真主阿拉懺悔的方式，穆斯林一天須朝麥加的方向禮拜五次，所以在世界各地的機場都有可能看到祈禱室的標示，供穆斯林方便進行禮拜。請問：在下列哪一個國家的機場，不會看到類似的標示？ (A)印尼 (B)以色列 (C)馬來西亞 (D)沙烏地阿拉伯。



- () 9. 幾個小時候，多多來到了環遊世界之旅的第一個國家，多多一下飛機，就感受到涼意，趕快將外套穿上避免感冒。原來這個國家的季節與正值夏季的臺灣不同，當地正值冬季，請問這個國家有可能是下列何者？ (A)墨西哥 (B)紐西蘭 (C)俄羅斯 (D)比利時。

- () 10. 在多多環遊世界之旅中，來到了一地，發現這個地方的農業活動特別重視灌溉，糧食作物以小麥、大麥為主，果樹則有橄欖、無花果、柑橘、葡萄、檸檬等。請問：以上敘述的景觀在下列哪一個地方不會看到？
 (A) 南非開普敦 (B) 澳洲雪梨 (C) 美國洛杉磯 (D) 智利聖地牙哥。
- () 11. 多多在旅遊日記寫著：「一路往山上走，翻過了這座世界最高的山頭後，就將到達中國。於是在兩國中間的邊界上，拍下了一張照片，作為這趟旅行的紀念。」請問：多多最可能由哪一個鄰近國家進入中國？
 (A) 北韓 (B) 蒙古 (C) 哈薩克 (D) 尼泊爾。
- () 12. 多多到中國後，到了某一個城市，是中國的直轄市之一，更是貿易、金融、交通的重要樞紐，位於長江黃金水道與中國東部海岸線形成「T」字型發展軸線。請問：文中所提及的城市為何？ (A) 北京 (B) 天津 (C) 上海 (D) 重慶。
- () 13. 多多如果到下圖中灰底區域旅遊的話，會看到下列何種景觀？



- () 14. 在旅途中，多多每日都要喝一杯咖啡提神，於是改變行程，開始造訪世界主要的咖啡生產國。請問：下列哪一個國家不是世界主要的咖啡生產國之一？
 (A) 巴西 (B) 肯亞 (C) 越南 (D) 阿根廷。
- () 15. 多多最後一站到了日本，看到路邊公布欄貼著有關地震的防災宣導海報，想到日本跟臺灣一樣，位於「環太平洋火山地震帶」。「環太平洋火山地震帶」是一個圍繞太平洋經常發生地震和火山爆發的地區，地球上90%的地震以及81%最強烈的地震都在該地帶上發生。請問：下列哪一個地區不是位在「環太平洋火山地震帶」？ (A) 非洲吉力馬札羅火山 (B) 安地斯山脈 (C) 紐西蘭 (D) 俄羅斯東部山地。
- () 16. 要回臺灣的前一日，多多整理好行李後，想著隔一天回臺灣的行程後進入夢鄉，迷迷糊糊之間，感覺到竟發生地震，驚醒後發現原來一年的旅遊只是大夢一場。多多只好以吃各國美食緩解想出國旅遊的渴望。在臺灣，可以吃到美國、日本、巴西...等地的食物，是受到下列哪一因素的影響？ (A) 氣候變遷 (B) 品種改良 (C) 交通革新 (D) 市場需求。

- () 17. 選出最符合戰間期世界局勢的描述？(A) 歐洲經濟起飛 社會安定 (B) 911事件爆發，恐怖攻擊頻傳 (C) 能源危機，推動十大建設 (D) 軍國主義與極權政治興起。
- () 18. 兩次世界大戰的比較，下列何者完全正確？

	第一次世界大戰	第二次世界大戰
(A) 導火線	奧匈帝國皇儲在伊比利半島被殺害	三國軸心國向外侵略
(B) 戰勝國	同盟國	協約國
(C) 美國加入原因	德國實施無限制潛艇政策	德國廢除凡爾賽條約
(D) 影響	新式武器發明：飛機、坦克、毒氣等	共產勢力的擴張

- () 19. 下表呈現某帝國的形勢演變，此帝國是？

時間	形勢演變
13世紀	興起於安納托利亞高原
15世紀	征服君士坦丁堡，結束拜占庭帝國統治
16世紀	入侵匈牙利，掌控巴爾幹半島，邁向全盛時期
19世紀	因俄國、英國、法國的侵略而衰弱
20世紀	第一次世界大戰戰敗，帝國瓦解

- (A) 俄羅斯帝國 (B) 德意志帝國 (C) 鄂圖曼帝國 (D) 奧匈帝國。

- () 20. 根據以下會議過程節錄內容判斷，此會議為？

甲：「我方預估要迫使日本投降，需要付出的傷亡代價太大了，因此我們急需盟友加入對日作戰。」
 乙：「我方在歐洲戰場結束後，可以對日本宣戰，但是在日本投降後，我方除了原本決議的接收東歐地區外，你們必須協助我方取得中國東北地區的控制權。」

- (A) 雅爾達會議 (B) 開羅會議 (C) 巴黎和會 (D) 維也納會議。

- () 21. 右圖是歐洲部分地圖。圖中深灰色的區域曾屬同一國家，但在20世紀某段時間區間內卻依虛線為界，分屬不同政權。與下列何者關係最密切？



- (A) 希臘正教與羅馬公教的衝突對立 (B) 第一次世界大戰時壕溝戰的僵持 (C) 德蘇互不侵犯條約下的勢力畫分 (D) 冷戰時期共產和反共集團的對峙。

- () 22. 這些國家不願意加入冷戰的對抗形勢，在國際事務上互相合作，藉此來影響國際事務的發展，逐漸在國際組織中扮演重要的角色。請問此段文字主要在描述哪個概念？(A) 國際聯盟的成立 (B) 聯合國的成立 (C) 第三世界的形成 (D) 東南亞公約組織的創立。
- () 23. 人民起身推翻獨裁政權，成立臨時政府，但改革的進度太過緩慢，大部分民眾仍然挨餓受凍、受權貴壓迫。忍無可忍的廣大勞工人口決定靠自己的力量，【第二次革命】就此揭竿起義，蘇維埃聯邦即將誕生...。這裡所說的第二次革命指的是？(A) 工業革命 (B) 法國大革命 (C) 十月革命 (D) 戈巴契夫改革運動
- () 24. 整理美國的歷史下列敘述何者錯誤？(A) 18世紀脫離英國殖民獨立建立第一個三權分立的國家 (B) 19世紀門羅總統提出十四點原則，拉丁美洲紛紛獨立建國 (C) 一戰後國內受孤立主義影響未參加國際聯盟 (D) 二戰期間組織同盟國陣營，曾轟炸台灣本島。

- ()25. 右表為一份有關台灣「非武裝政治社會運動」的資料。請問興起的背景，是因哪一選項影響？
 (A)受民族自決影響，統治者實施內地延長政策 (B)受中日戰爭影響，統治者實施皇民化政策 (C)受國共內戰影響，通貨膨脹嚴重人民高聲反抗 (D)受冷戰陣營影響，台灣加入民主陣營的行列。
- | | |
|----|--|
| 訴求 | 1. 要求設立台灣議會
2. 推動各項啟迪民智的工作，改良社會文化
3. 謀求自治機關民選及決議權，採納普選制度 |
| 方式 | 發行台灣民報、集會、演講、請願、夏季學校 |
| 成果 | 1. 成立台灣歷史上第一個合法政黨
2. 台灣舉辦半民選的地方議員選舉 |

- ()26. 日本政府在某時期出版的教科書《初等科國史》，從「大日本是神國」、受神庇佑的觀點，建構以日本為中心的世界史，提出「東亞共榮圈」、「東亞新秩序」的概念，並說盧溝橋事變發生的原因，是日本為了「導正中國之不法，防止其鬧事」，才派出軍隊懲罰中國。課文並強調全國軍民應效忠國家，為天皇而戰死是極大的光榮。根據上述，此一教科書最有可能是何時出版？
 (A)甲午戰爭結束後 (B)日本殖民台灣初期 (C)第一次世界大戰期間 (D)第二次世界大戰期間。
- ()27. 美國國會曾經通過以下決議：「在此授權美國總統得在他認為必要時動用美國武裝部隊，以保護福爾摩沙和澎湖安全，使免遭武裝攻擊，……。」不久後，美國批准了與台灣的雙邊條約。根據史家指出，此條約在當時既保住了台灣，也有助於鞏固美國在西太平洋的支配地位與利益。請問：對於上文的解讀，何者正確？
 (A)美國的目的是為了避免共產勢力的擴張 (B)美國派遣特使來華調停國共衝突 (C)上述雙邊條約是台灣關係法 (D)證明美國與台灣的邦交至今仍相當穩固。

1960年代是一個社會內部衝突與對抗的年代。在此期間，美國的學生運動與社會抗議風潮興起，反戰情緒日益激烈，強烈要求美國退出戰爭；中國則因領導階層的權力爭奪，鼓動青年學生「革命無罪，造反有理」的口號下，展開一連串的破壞行動；捷克領導人提倡改革，放寬經濟與政治的管制，受到廣大民眾的支持，但「老大哥」嚴厲禁止其改革，領導華沙公約組織出兵捷克，加以鎮壓。【改編歷屆會考題】

- ()28. 根據上文對美國的描述，當時美國社會抗議的戰事最可能為？
 (A)第二次世界大戰 (B)韓戰 (C)越戰 (D)古巴危機。
- ()29. 根據上文對中國的描述，當時中國最可能出現下列哪一景象？
 (A)政府鼓勵民眾交出鐵製品，供國家煉鋼 (B)紅衛兵四處鬥爭，毀損歷史文物和書籍 (C)國家推動改革開放，在深圳設經濟特區 (D)派遣軍隊前往朝鮮半島，援助北韓作戰。
- ()30. 上文所述的「老大哥」，最可能是下列何國？
 (A)蘇聯 (B)美國 (C)中國 (D)英國。

張伯倫是英國保守黨的政治家，西元1937年5月出任首相，西元1938年9月，他在主觀意識的作用下，自以為洞悉德國政府的野心，誤判一塊小小的蘇台德區就能滿足之，實際上反而養大其胃口。雖然他後來放棄舊政策，但為時已晚。由於其他政黨反對他繼續擔任首相，第二次世界大戰爆發後八個月，他便自動辭職下台。

- ()31. 文中提到的「德國政府」，主要是由何人領導？
 (A)俾斯麥 (B)希特勒 (C)史達林 (D)墨索里尼。

- ()32. 張伯倫的舊政策，反映了以下哪一種心態？
 (A)英國應在世界各地建立殖民地 (B)以閉關自守作為外交政策原則 (C)英國無意介入世界各地的事務 (D)犧牲小國利益以換取歐洲和平。
- ()33. 下列哪一史實發生後，正式揭開第二次世界大戰歐洲戰場的序幕？
 (A)諾曼第登陸戰的發生 (B)波蘭遭納粹軍隊入侵 (C)納粹軍隊攻進了蘇聯 (D)法國向柏林政府投降。
- ()34. 請問在下列情境中，何者最為適用《性別平等教育法》？
 (A)阿誠在校上游泳課時因身材健美，遭同學指指點點 (B)小晏在圖書館念書準備會考時，被男館員觸碰身體 (C)小頤在工作場所常常聽到同事們之間討論黃色笑話 (D)阿瑋某晚因無聊，在網路上公開散播明星不雅照片
- ()35. 老師請班上同學回家調查過去祖父母那一代的家庭成員數，以及自己現今的家庭成員數，統計之後，將兩代的結果換算成比率，如附表所示。根據表中數據，下列何者分析正確？

家庭成員數	自己這代	(外)祖父母輩
2~4人	67%	8%
5~8人	29%	35%
超過8人	4%	57%

- (A)現代家庭型態以隔代教養家庭為主
 (B)三代同堂的型態成為社會普遍現象
 (C)經濟環境改善使得生育率逐漸上升
 (D)現今多數家庭的成員數較過去減少
- ()36. 小蓁為解說公共意見的特性，蒐集去年公投第17案的資料作成下表，並與同學互相討論。根據表中資料判斷，請問哪位同學的論述最為正確？

公投第17案 重啟核四	
選項	人數百分比
同意	47.16%
不同意	52.84%

- (A)小瑤：此項議題總共存在著兩種不同的意見
 (B)阿佑：公共意見的不穩定性使民意毫無價值
 (C)小瑩：投票結果已影響民眾對政府的信任度
 (D)阿翔：公開民眾的意見已造成社會嚴重分裂
- ()37. 前一陣子華視新聞連連出錯，先有「共軍襲台」「大屯山火山爆發」之離奇訊息，後又把行政蘇院長職稱誤植為「總統」，致使監察院申請主動調查。若監察院對「甲」提出糾正案，針對「甲」最可能是何者，請問下列哪位同學的回答最為正確？
 (A)小涵：新北市政府 (B)阿文：文化部部長
 (C)小彤：國家通訊傳播委員會 (D)阿耀：立法委員
- ()38. 以下為阿俊整理總統與立法院間制衡關係的資料，其中哪一項錯誤？

甲、立法院對總統提名的官員行使人事同意權。
乙、總統對立法院院長提出覆議案。
丙、立法院提出對正副總統的罷免案。
丁、總統任命大法官須經立法院同意。

- (A)甲 (B)乙 (C)丙 (D)丁

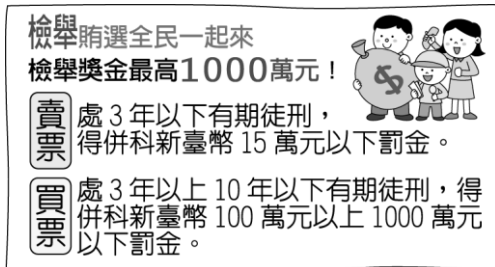
- () 39. 我國將於今年11月26日舉行地方選舉。請就下表四位候選人所提出的參選政見判斷，哪一位的政見屬於新北市長的職權範圍？

姓名	主要參選政見
小璇	加入世界衛生大會，拓展國際參與空間
阿鈺	修改相關稅法，平衡中央與地方財政
小欣	購買 F-35 戰鬥機，以充實我國防安全
阿融	進行溝渠的疏濬，以防雨季淹水災害

- (A)小璇 (B)阿鈺 (C)小欣 (D)阿融
- () 40. 某新聞報導：「消費者保護團體主張，不肖廠商為謀利而製造問題商品，且以不實的廣告行銷宣傳，政府應加重對企業經營者的行政罰責。」上述說法，應是指提高何種處罰標準，下列哪位同學的回答最為正確？
- (A)小璇：罰金額度 (B)阿霆：罰鍰額度
(C)小婷：徒刑期限 (D)阿宇：賠償金額
- () 41. 根據以下的對話判斷，請問小筑的法律行為效力如何？

小筑：我要買一台機車送給我先生阿凱。
店員阿銜：請問妳要自己騎回去嗎？
小筑：因為我未滿 18 歲，不能考駕照，所以由我先生阿凱騎回去。

- (A)小筑購買機車的行為須經法定代理人同意方為有效
(B)必須由法定代理人代替小筑完成購買機車的動作
(C)小筑向店家購買機車的行為具有完全的法律效力
(D)小筑購買機車的行為須由先生阿凱代為行使才有效
- () 42. 年底適逢地方選舉，下圖是宣導反賄選的海報，根據圖中內容判斷，關於賄選行為的處罰，與以下哪個選項敘述中所應負起的法律責任類型相同？



- (A)拒絕償還積欠友人債務
(B)打球不慎打破同學文具
(C)穿越馬路違反交通法規
(D)破壞學校導致公共危險
- () 43. 公民課時，同學們正在討論犯罪的追訴過程，下表中哪位同學的說法正確？

小好	檢察官在犯罪嫌疑人主動自首後應提起自訴
小琪	法院不能審判未經起訴的犯罪行為
小蓉	法官審理刑事案件後，由大法官進行判決
小如	法院判決確定後，交由警察指揮執行該項判決

- (A)小好 (B)小琪 (C)小蓉 (D)小如
- () 44. 阿愷因被拍到穿著校服踩熄煙蒂的畫面，遭相關單位以違反《菸害防制法》規定開罰。若阿駿覺得不服，他依法所能進行的權利救濟方式，其性質與下列何者相同？
- (A)遭勒令歇業的老闆 (B)遭鄰居偷竊的住戶
(C)遭歹徒槍擊的店員 (D)遭欠債不還的債主

- () 45. 阿崑某天晚上有 4 小時空閒時段，他決定從下表中選擇一項來打發時間，若他選擇某一項的機會成本是上籃球課，請判斷下列何項敘述正確？

選擇項目	喜愛程度	附註
慢跑	☆☆	耗費體力
打工	☆	時薪 230 元
整理花圃	☆☆☆	耗費體力
上籃球課	☆☆☆☆	1 小時費用 300 元

- (A)阿崑是以金錢來衡量機會成本
(B)整理花圃會是阿崑的最佳選擇
(C)選擇上籃球課的機會成本最低
(D)打工的時薪是隱藏的生產成本
- () 46. 阿毓運動完後因為口渴，因此到便利商店購買飲料。為了省錢，他選擇了「同款商品第二件六折」的飲料。請問：便利商店的促銷活動採取了下列哪一種策略？
- (A)提升商品功能 (B)降低商品價格
(C)增加商品利潤 (D)改變消費型態
- () 47. 阿駿請小組成員將現代社會生產模式的內容上傳到作業資料夾之中，根據下列他們提供的資料，哪一位的認知不符合現狀？
- (A)阿誠：日常生活裡，每個人負責不同工作
(B)阿安：用工作賺到的錢，購買需要的物品
(C)阿維：經由理性考量，在市場中進行交易
(D)阿諺：不依賴其他人，在生活上自給自足
- () 48. 外匯作為國際支付工具，因此匯率的變動會對國際貿易造成影響。根據附圖對話，下列說明何者正確？



- (A)新臺幣升值，不利於阿文的生意
(B)新臺幣貶值，有利於阿文的生意
(C)美金升值，不利於阿文的生意
(D)美金升值，有利於阿文的生意
- () 49. 風靡全球的韓國團體BLACKPINK，其中一位泰國籍成員LISA推出個人單曲，在MV中她身穿泰國傳統服飾，融合泰國傳統舞步等元素，時尚傳統完美結合。各國支持她的粉絲也紛紛購入類似配件，感受到同樣的風情。請問：上述內容與以下哪位同學所說的全球化面向，最為相關？
- (A)阿修：教育上的全球化 (B)阿峰：政治上的全球化
(C)阿堯：經濟上的全球化 (D)阿鉸：文化上的全球化
- () 50. 四年一度的世界盃足球賽，今年將在11月21日至12月18日於卡達舉辦。上一屆共有16個參賽國穿著臺灣製造的球衣，是由回收寶特瓶製成的纖維和布料所生產出來的環保產品。平均每8個寶特瓶可製成1件，不僅顯示臺灣紡織技術的優勢，也見證我國對環境保護、節能減碳的承諾，獲得國際肯定。請問上述內容說明臺灣透過何種方式與世界接軌，以下哪位同學的說法最為正確？
- (A)阿璋：善盡國際責任 (B)阿昕：簽署國際公約
(C)阿毅：提供國際協助 (D)阿績：加入國際組織