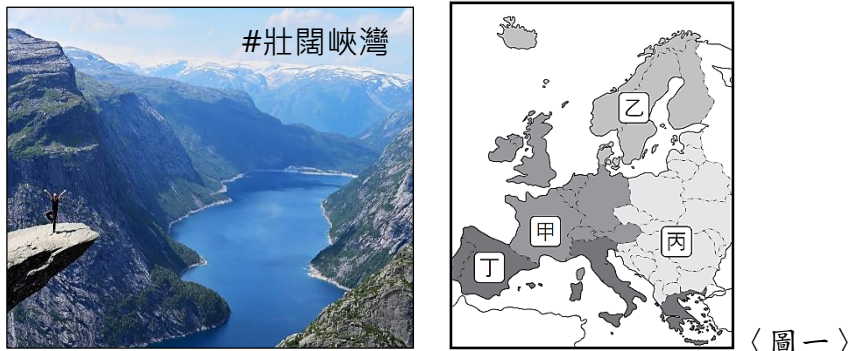


# 新北市立三多國民中學 112 學年度第 1 學期第 1 次定期評量 九年級社會科試題

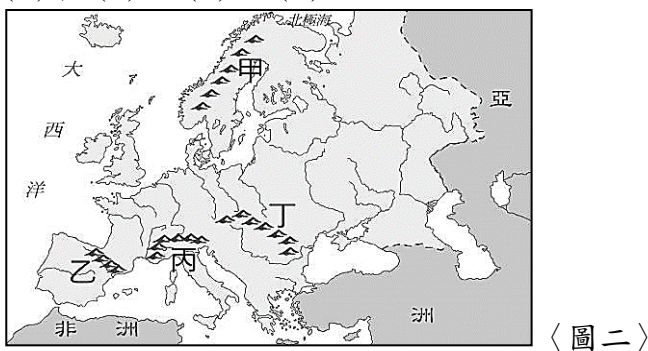
【請依規定以 2B 鉛筆在答案卡劃記作答】

選擇題：每題 2 分(1-16 題為地理；17-33 題為歷史；34 至 50 題為公民)

- ( ) 1. 子龍到歐洲旅遊時因為見識到了絕美景色，所以拍了一張照片，如下所示，請問：子龍可能是到了〈圖一〉中的哪個區域旅遊？(A)甲 (B)乙 (C)丙 (D)丁。

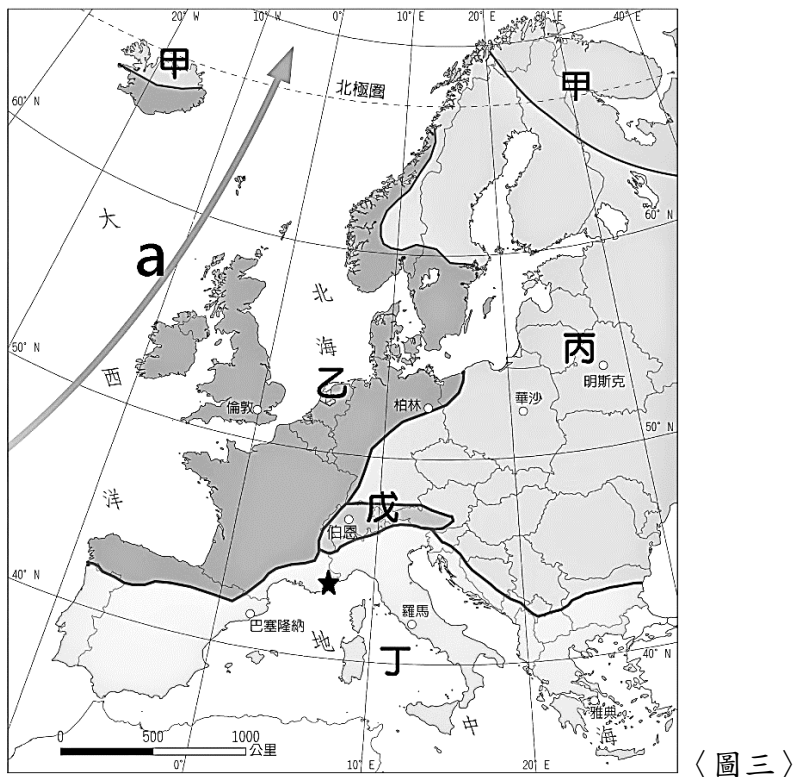


- ( ) 2. 〈圖二〉為歐洲地區四座主要的山脈。請問：哪一座山脈是有「歐洲的屋脊」之稱的阿爾卑斯山脈？(A)甲 (B)乙 (C)丙 (D)丁。



- ( ) 3. 接續上題，阿爾卑斯山脈間有許多谷地，可說是有利陸路運輸的天然孔道，請問：這些谷地是由下列何種作用所造成？(A)冰河侵蝕 (B)斷層陷落 (C)雨水溶蝕 (D)河川侵蝕。

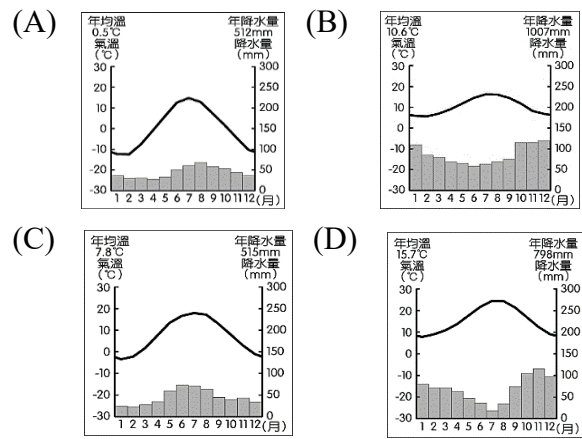
◎ 〈圖三〉為歐洲氣候類型分布圖，「甲~戊」為五種不同的氣候類型，「a」則為洋流，請回答第 4 題~第 7 題。



- ( ) 4. 位於乙氣候區的荷蘭是舉世聞名的「風車之國」，早期居民搭建風車用來碾磨穀物，為了讓風車能順應當地盛行風向，更有效率的運轉，應將風車葉片朝向哪個方向較為適當？(A)東方 (B)西方 (C)南方 (D)北方。
- ( ) 5. 哈利若從乙氣候區的英國首都倫敦，移居到丙氣候區的波蘭首都華沙，他將會感受到下列哪一種氣候特徵的變化？(A)年溫差增大 (B)年降水量增多 (C)冬季氣溫較暖 (D)各月份降水量漸趨平均。

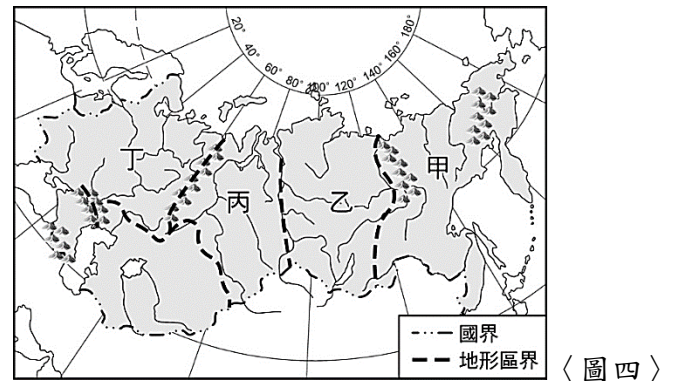
班級： 座號： 姓名：

- ( ) 6. 〈圖三〉中丁氣候區標示★符號處，為法國南部城市尼斯的位置，當地因氣候宜人，夏季晴朗為觀光旺季。請問：尼斯的氣候圖可能與下列何者較相似？

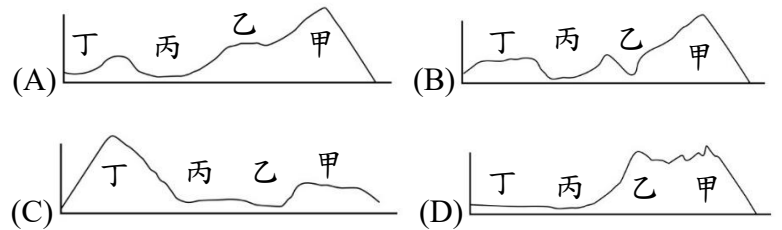


- ( ) 7. 下列為「a」洋流特徵的敘述：(甲)屬於寒流性質 (乙)洋流經過的海港，冬季海面不易結凍 (丙)洋流經過的沿岸地區全年有雨 (丁)洋流經過的沿岸地區較不易降雨。請問：正確的敘述有哪些？(A)甲乙 (B)乙丁 (C)乙丙 (D)甲丁。

◎ 〈圖四〉為俄羅斯國土分布圖，請回答第 8 題~第 10 題。



- ( ) 8. 俄羅斯的領土橫跨歐、亞兩洲，但是人口的分布卻極度不均勻。請問：俄羅斯的多數人口主要集中在哪一區？(A)甲 (B)乙 (C)丙 (D)丁。
- ( ) 9. 永智計畫來個橫跨俄羅斯的旅行，若由甲~丁依序前行，則永智經過的地形區可用下列哪一張地形剖面圖表示？



- ( ) 10. 請問：在甲~丁的四個分區中，未包含下列哪一種氣候類型？(A)溫帶大陸性氣候 (B)寒帶氣候 (C)溫帶海洋性氣候 (D)溫帶季風氣候。
- ( ) 11. 下列為歐洲東、西半部的比較表，何者敘述錯誤？(A)甲 (B)乙 (C)丙 (D)丁。

	甲	乙	丙	丁
歐洲東半部	教育水準較低	國民所得較低	經濟發展較慢	推行市場經濟
歐洲西半部	教育水準較高	國民所得較高	經濟發展較早	早期實施計畫經濟

- ( ) 12. 歐洲聯盟是由歐洲國家組成的區域性經濟體，其目的在於促進歐洲的和平並藉此提升歐洲國際競爭力與影響力。請問：下列關於歐盟的敘述何者最正確？(A)全體會員國組成申根區，取消邊境管制 (B)建立共同市場，會員國之間的貿易免除關稅 (C)會員國全面使用歐元為單一貨幣 (D)法國因對貿易及國際議題等立場不同，目前已脫離歐盟。

- ( )13.北歐各國引以為傲的社會福利政策目前備受考驗，請問：是受到哪一人口問題的影響？(A)幼兒出生率居高不下 (B)社會增加率大幅上升 (C)人口高齡化比例高 (D)人口性別比不平均。
- ( )14.位於南歐的希臘為世界文明古國之一，約在西元前 2700 年即有人類居住，被稱作西方文明的搖籃。下列關於希臘的敘述，何者正確？(A)位在伊比利半島上 (B)為奧林匹克運動會發源地 (C)海岸線曲折，多岬灣 (D)積極開採地中海的石油資源。
- ( )15.鴻海集團於2000年即前往東歐的捷克投資設廠，成為歐洲市場的電子產品生產基地。請問：鴻海集團前往捷克設廠的主要原因為下列何者？(A)勞力低廉及關稅優惠 (B)高科技技術先進 (C)礦產資源豐富 (D)高知識人才充足。
- ( )16.德國、英國、法國皆是歐洲工業產值名列前茅的國家，下列關於這三個國家的產業發展特色，何者敘述**錯誤**？(A)德國的工業產品以創新、高品質著稱 (B)英國在北海發現石油，使其工業優勢得以延續 (C)法國的時尚產業引領世界風潮 (D)德國因為有萊茵河出海口的優勢，因而發展轉口貿易。
- ( )17.下圖是某一古文明的文字，下列相關說明何者正確？(A)此一文字最早使用的地區是在埃及 (B)此文字主要書寫於泥板上 (C)此文字並未被該地區其他民族所沿用 (D)此文字經由腓尼基人改良後傳至歐洲。



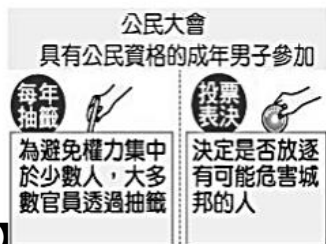
- ( )18.隨著各國逐漸開放旅遊限制，全球各地出現「報復式旅遊」的人潮，阿慶一家人也在籌備著寒假的家族旅行，從他們的對話中可以推測，他們寒假的家族旅行最有可能前往何處？(A)希臘 (B)埃及 (C)土耳其 (D)羅馬。



- ( )19.西元 2018 年，韓國推出一部影視作品名為《漢摩拉比小姐》，請問由其命名可推知此韓劇應該與哪一個主題有關？(A)醫療職場 (B)法庭審判 (C)警匪對峙 (D)飲食烹飪。
- ( )20.【圖一】、【圖二】是上古時期不同區域政治運作的特色，有關兩者的說明，何者**錯誤**？(A)圖一的政治運作是在羅馬的共和時期 (B)圖二的政治運作是在雅典城邦 (C)圖一的政治運作是由國王決議後交由執政官執行 (D)圖二的政治運作被視為民主政治的起源。



【圖一】



【圖二】

- ( )21.對於西方世界而言，一般認為兩本書影響最大，一本是《聖經》，另一本則是世界上使用最久的教科書，從希臘化時代一直使用到現在。這本書也顯示出歐洲與中國科學成就的不同。請問：這本書是？(A)《幾何原本》(B)《漢摩拉比法典》(C)《荷馬史詩》(D)《十二銅表法》。
- ( )22.大國正在觀看一部電影，電影中的對話如下，甲：「恭喜您，元老院尊封您為奧古斯都，您已成為羅馬的第一位皇帝。」乙：「我是羅馬的第一公民，誓死捍衛羅馬共和體制」請問：對話中的乙應該是扮演哪位歷史人物？(A)凱撒 (B)屋大維 (C)亞歷山大 (D)君士坦丁。

◎【請回答23-27題】

下面有關四個宗教的描述，試回答下列問題：

選項	內容描述
ㄅ	我們是上帝唯一的選民，上帝賜給我們「奶與蜜之地」
ㄆ	宇宙間存在著善、惡兩種互相對立的勢力，最後善神必戰勝惡神。
ㄇ	原始巨人普魯沙被諸神分割，他的嘴變成祭司，雙臂變成貴族，雙腿變成平民，雙腳生成奴隸，所以階級各有其高低卑下。
ㄏ	祂們將死者的心臟拿出來秤，和天平那端的羽毛無法平衡，代表死者生前罪惡深重，心臟就會被怪獸吞噬。

- ( )23.信仰(ㄏ)宗教的人們之所以要接受死後審判，是因為他們抱持何種觀念？(A)相信宇宙由善神主導，人們必須行善才能進入天堂 (B)相信善有善報，惡有惡報，人的行為會反映在來世投胎 (C)對於來世抱持樂觀看法，相信通過審判便能復活 (D)相信上帝耶和華主導一切，唯有信仰上帝的人才能獲得永生。
- ( )24.宗教(ㄇ)與當地的政治制度相結合，其特色為：(A)波斯人征服了當地，為維持統治者的地位而制定 (B)曾為王子出身的釋迦牟尼屬於最高的祭司階層 (C)平民出身的阿山，他的妻子也只能是平民階層 (D)阿山對經商沒有興趣，可以不用繼承他父親職業。
- ( )25.「緣分」、「覺悟」、「菩薩心腸」、「普渡眾生」等詞彙，主要源於佛教。有關佛教的歷史發展，下列哪個選項敘述**錯誤**？(A)佛教主張眾生平等，是改革婆羅門教階級森嚴的觀念 (B)佛教能在東亞和東南亞地區廣為流傳和釋迦牟尼的提倡有關 (C)佛教傳入中國和張騫通西域後開通絲路有極大的關聯 (D)佛教在印度的黃金時期是阿育王在位時，他死之後佛教在印度本地的影響力減弱。
- ( )26.請將表格中的四個宗教所創立的位置與【圖三】地圖相對應，選出「正確」的配對？(A)ㄅ→丙 (B)ㄆ→丁 (C)ㄇ→戊 (D)ㄏ→庚。



【圖三】

- ( )27.古代這個地區形成許多城邦，城邦各自為政，彼此之間戰爭不斷。戰爭需要士兵，體育活動是培養強壯士兵的重要關鍵。之後，軍事訓練和體育競技，和宗教慶典結

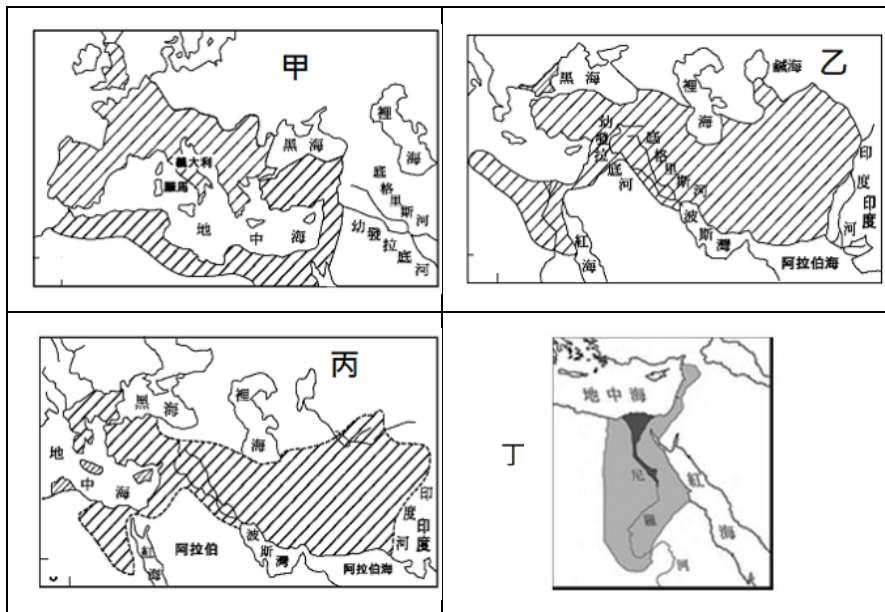
合，逐漸變成象徵和平與友誼的奧林匹克運動會。

請問：文章中的「這個地區」指的是上圖的何處？

(A)甲 (B)乙 (C)己 (D)丁。

- ( )28.法學家耶林曾說：「羅馬三次征服世界，第一次是以武力，第二次是以宗教，第三次是以法律。」請問：下列何者不是耶林說出這句話的基礎？ (A)成為橫跨歐、亞、非三洲的大帝國 (B)拉丁文成為中世紀西歐的通用文字 (C)十二銅表法成為歐洲各國制定法律參考的來源 (D)均衡對稱和諧的人生觀展現在他們的建築特色上。
- ( )29.某日，阿國在考卷上看到一段文字：「……，西元476年這個年代，對於羅馬歷史具有關鍵性的影響……。」請問：這個關鍵性的影響為何？ (A)奧古斯都取代元老院實施專制統治 (B)羅馬帝國正式分裂為二 (C)西羅馬帝國被日耳曼人滅亡 (D)東羅馬帝國遭土耳其人滅亡。
- ( )30.同學們在段考前的複習討論羅馬帝國的歷史，根據史實判斷，下列哪位同學說的才是正確的？  
(A)阿國：男性公民從小就要接受嚴格的軍事訓練。  
(B)小慶：羅馬人的文化成就以科學最為突出。  
(C)快快：羅馬人務實，興建許多大型公共設施，城市規畫良好。  
(D)小樂：凱撒積極向外遠征，開啟了長達二百年的羅馬和平。
- ( )31.西元1798年，拿破崙軍隊在尼羅河三角洲的村莊發現一塊刻有三種文字的官方公告石碑：最上面為古埃及象形文字，中間是埃及草書通俗體，最下面為古希臘文。以三種字體書寫的目的是為了讓各族人都能看懂此石碑的意涵。請問：石碑中由三種文字書寫與下列何者有關？ (A)波斯征服兩河流域、滅了埃及，建立帝國 (B)擅長航海與經商的腓尼基人將希臘文字向外傳播 (C)雅典領導希臘城邦在波希戰爭中擊敗波斯 (D)亞歷山大建立了橫跨歐亞非三洲的大帝國。

◎下列各圖為世界歷史上曾出現的四個政權疆域圖。請依據下圖回答第32-33題：



- ( )32.若就歷史時間判斷，圖中哪一個政權曾與中國的漢朝相輝映？ (A)甲 (B)乙 (C)丙 (D)丁。
- ( )33.至今仍可以在印度河流域見到的希臘式城市痕跡，應與哪一個帝國的統治有關？ (A)甲 (B)乙 (C)丙 (D)丁。
- ( )34.公民老師請同學利用下圖說明某個經濟學概念，請問：何人的舉例是正確的？ (A)小專：店家透過明星代言的方式來進行促銷 (B)小又：店家用價格為誘因而吸引消費者購買 (C)小莉：藉由推出特色商品以增加店家的獲利 (D)小霏：店家作法是兼顧資源分配與公平正義。



- ( )35.中秋節又被戲稱為「烤肉節」，除了烤肉架與食材引人搶購，就連燒肉店也都有滿滿人潮，沒有提早訂位可是吃不到的。請問：即使價格飆漲，民眾依然要吃烤肉，最可能是因為下列哪一項影響需求的因素所造成？ (A)商品價格 (B)所得水準 (C)預期心理 (D)個人偏好。
- ( )36.寶貴的下課十分鐘，小愛卻還坐在位子上趕工回家作業，但他實在太餓了，只好拜託好友幫他到合作社買麵包，請問：針對此行為，下列何人的描述有明顯的經濟學概念錯誤？ (A)阿偉：沒寫完作業不能下課，隱含機會成本的概念在裡面 (B)阿浚：反正本來就閒閒，幫忙跑腿到合作社沒有任何損失 (C)小涵：幫忙跑腿可以交換中午幫我抬餐的話，很划算哦 (D)小薰：都九年級了，下課時間留在教室算數學，說不定我可以考高分。
- ( )37.新聞報導：由於某些路邊停車格被有心人士長期占用，為了解決此亂象，政府決定不再提供免費停車服務，未來將訂立合理的停車費，希望以此建立停車位的資源分配制度。請問：政府的理念比較可能是下列何者？ (A)期望以「相互協調」改善「輪流使用」的現況 (B)期望以「輪流使用」改善「先佔先贏」的現況 (C)期望以「使用者付費」改善「先佔先贏」的現況 (D)期望以「使用者付費」改善「輪流使用」的現況。
- ( )38.老王從事外送工作時，月薪有35000元，若自己開雞排店，則月利潤有32000元，請問：若單純以收入為考量，則老王應該如何選擇？ (A)從事外送的機會成本較低 (B)開雞排店的機會成本是32000元 (C)最佳選擇應該是自己開店，比較自由 (D)自己當老闆，就沒有薪資的成本存在。
- ( )39.公民老師為了鼓勵同學，推出「段考500分送烤雞腿」的計畫，雖然不少同學都精神振奮、躍躍欲試，但也有少部分吃素或不愛吃烤雞腿的同學表示，這個獎勵實在不太吸引人。請問：從上述內容來推論，何者正確？ (A)烤雞腿誘因適用每一個學生 (B)對多數同學來說，烤雞腿可能是正向誘因 (C)誘因就是提高利益的意思 (D)此誘因性質與「遲到要到學務處罰站」一樣。
- ( )40.以消費者來說，價格是影響消費者是否購買商品的重要因素，請問：下列哪一個日常狀況符合這個概念？ (A)偶像歌手演唱會一票難求，不少粉絲忍痛跪求代購幫忙 (B)業者推出海陸套餐買一送一，物超所值引發大眾搶購 (C)研究發現大蒜營養價值高，消費者搶購導致價格上漲 (D)某地區有地層下陷的危機，導致新屋成交量創新低。
- ( )41.知名手機品牌推出最新款預購，根據報導官網開賣30分鐘後已「預購一空」，接下來的訂購則至少要等到數周或數月後才能取貨，讓不少民眾扼腕。請問：此廠商應是採取何種方式來進行資源分配？ (A)輪流使用 (B)互相協調 (C)先佔先贏 (D)抽籤。

※請翻至第4頁繼續作答※

- ( )42.小澄在人力銀行搜尋求職訊息，若不考慮其他條件，只考慮薪水，則有了以下的分析表，請問：甲和乙應該分別為多少？(A)32000元、35000元 (B)32000元、28000元 (C)35000元、32000元 (D)28000元、35000元。

工作名稱	月薪	機會成本
工程師	甲	乙元
企劃專員	35000元	32000元
保險業務	28000元	35000元

- ( )43.小莉糕餅店正在評估三種商品的收支情況，相關資訊如下表所示。如果只考慮利潤，最佳的選擇是「草莓餅乾」，但此選擇的機會成本是「香蕉蛋糕」。請問：根據上述內容判斷，表中的★的數值，最可能是下列何者？(A)30 (B)40 (C)50 (D)60。

商品評估	銷貨收入	生產成本
香蕉蛋糕	80	★
草莓餅乾	120	85
芒果布丁	95	75

- ( )44.經濟不景氣，小綺所開的寵物美容店也受到影響，店裡的生意愈來愈差，他決定要採取對策，以降低生產成本。請問：下列哪一項策略可以降低生產成本？(A)打卡給好評就贈送一次美容服務 (B)洗澡+綁髮只要999元 (C)消費滿1500元贈送狗飼料 (D)減少工讀生人數。
- ( )45.你有聽過「無人商店」嗎？其實臺灣的超商龍頭已推出五間無人商店，最大特色就是導入感應與監控設備，將店內購物和結帳流程，都能透過一支手機完成，甚至不用走到自助結帳櫃檯，就能完成所有購物和結帳。請問：無人商店最可能可以降低商家的何種成本，但也最可能增加何種成本？(A)薪資↓、租金↑ (B)利息↓、租金↑ (C)薪資↓、利息↑ (D)租金↓、薪資↑。
- ( )46.小亨在夜市賣炸雞排和炸薯條，如附表所示是兩種食物的基本資料。如果小亨希望每天的利潤至少達到3000元，則炸薯條的售價應該訂為多少元？(A)20元 (B)25元 (C)28元 (D)32元。

產品	成本(元/份)	售價(元/份)	數量(份/日)
炸雞排	30元	45元	100份
炸薯條	20元	?	150份

- ( )47.段考結束的傍晚，小芹和小芸正在閒聊，請問：根據對話判斷，小芸如果晚上選擇看偶像唱歌的影片，那他的機會成本是？(A)逛街 (B)看小說 (C)逛街+看小說 (D)看影片+逛街+看小說。

小芹：你今晚最想做什麼呢？

小芸：當然是看偶像唱歌的影片。不過我也想.....，然後.....好像也不錯。

小芹：我以為你喜歡看小說，原來逛街還排在看小說前面阿，今晚的時光真是好寶貴呢。

- ( )48.因應校慶園遊會的來臨，各班都摩拳擦掌想要擺攤賺班費，甲班想要賣大腸包小腸，乙班則想要賣冰淇淋，丙班更提出擺一台夾娃娃機在攤位上好了！請問：這些班級正面臨什麼生產課題？(A)如何生產 (B)生產什麼 (C)為誰生產 (D)生產成本。
- ( )49.多多國中園遊會熱鬧展開，請問：以下四個攤位所生產的商品，哪一個屬於財貨？

(A)現場解題數學考卷，一題5元
(B)幫你唱歌給對方聽，一首25元
(C)協助彩繪你的指甲，只要50元
(D)美味雞排與手搖飲，特價65元

- ( )50.以下是甜甜圈店的生產成本與銷貨收入折線圖，請問：在不考慮其他因素的條件下，以哪一天的單日利潤最高？(A)星期一 (B)星期三 (C)星期五 (D)星期日。

