

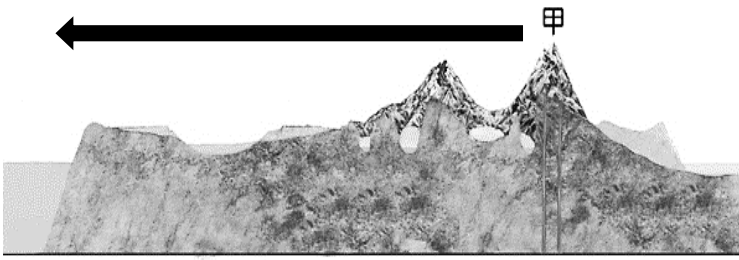
新北市立三多國民中學 111 學年度第 2 學期第 3 次定期評量 八年級社會科試題

【請依規定以 2B 鉛筆在答案卡劃記作答】

班級： 座號： 姓名：

選擇題：每題 2 分(1-17 題為地理；18-34 題為歷史；35-50 題為公民)

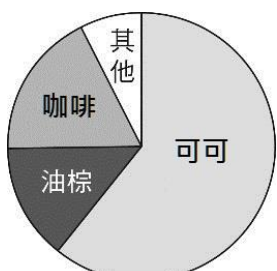
- () 1. 「非洲境內主要以(甲)盆地地形為主體，且為(乙)古老陸塊因而蘊藏豐富的礦產，但因為大部分的(丙)海岸線陡峭平直，較少天然港灣，再加上北方有(丁)喀拉哈里沙漠阻隔，使得外來者不易進入，所以開發較晚」。請問：上述畫線處正確的敘述為何者？
 (A)甲乙 (B)乙丙 (C)甲丙 (D)乙丁。
- () 2. 附圖為依照南緯 3 度緯線所繪製的非洲地形剖面圖，圖中「甲」是非洲的最高峰吉力馬札羅山，若由甲處沿箭頭指向的方向直線飛行，最終會看見一片廣大的海域，請問：這處海域應為下列何者？
 (A)印度洋 (B)地中海 (C)大西洋 (D)紅海。



- () 3. 從衛星上俯看非洲東部，可發現地表上有一條綿延數千公里的大裂谷，它就像是地球表面一道很深的傷疤。根據研究，大裂谷每年以幾毫米的速度不斷擴張，預計在數百萬年之後，被大裂谷分隔開的區域將徹底與非洲大陸分開，形成一個新的大陸。請問：造成大裂谷的成因可能為下列何者？
 (A)風力侵蝕 (B)河流侵蝕 (C)雨水侵蝕 (D)斷層陷落。
- () 4. 有關漠南非洲的族群與文化特色，下列敘述中何者**錯誤**？
 (A)大多信仰伊斯蘭教 (B)居民多為黑膚色人種 (C)傳統上多為部落社會 (D)殖民時期傳入歐洲文化。
- () 5. 非洲多數國家的國界劃分未考慮不同族群的界線，使不同族群處在同一國家，或同一族群跨越不同國家，造成族群間的衝突不斷，甚至引發戰爭。請問：造成此一現象的背景原因為何？
 (A)早期殖民者以天然地形屏障當作勢力範圍界線 (B)早期殖民者以經緯線畫分勢力範圍 (C)早期殖民者依宗教信仰劃分勢力範圍 (D)非洲各國獨立後透過協議決定國界。
- () 6. 漠南非洲由於發展時間較晚，所以昔日經濟成長也相對緩慢，但進入 21 世紀後漠南非洲的經濟成長快速，因此成為外資投資新興市場的首選。請問：吸引外資前往投資的主要因素可能為何者？
 (A)當地擁有先進的研發技術 (B)當地擁有充裕的資金來源 (C)當地擁有充足的動力能源 (D)當地擁有大量且廉價的勞力。

【請回答第 7-9 題】

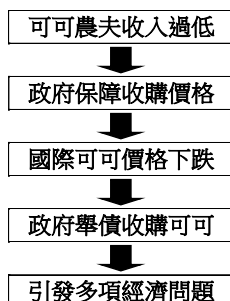
圖一為非洲甲國的主要農作物出口比例圓餅圖，圖二為非洲的可可產區分布圖，圖三為甲國生產可可所面臨的困境。請依此回答第 7-9 題。



〈圖一〉

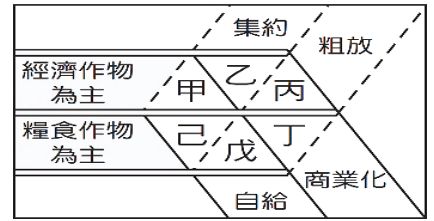


〈圖二〉



〈圖三〉

- () 7. 請由圖中呈現的資訊判斷，此類農業型態應屬於下列哪一種類型？
 (A)糧食作物栽培業 (B)精緻農業 (C)熱帶栽培業 (D)傳統自給性農業。
- () 8. 若要利用圖示來呈現此類農業型態的特徵，則右圖哪一代號所呈現的特徵最符合？
 (A)甲 (B)乙 (C)丙 (D)己。
- () 9. 由圖三可看出種植可可對甲國最大的影響可能為下列何者？
 (A)造成勞工供應短缺 (B)生產成本大幅提升 (C)無法提升可可產量 (D)國際市場價格波動影響經濟
- () 10. 根據 2019 年聯合國糧農組織報告，全球約有 41 個國家需要外部糧食援助，其中非洲國家就佔了 31 個。請問：非洲國家缺糧的原因和下列哪項因素有關？
 (A)經濟作物擠壓糧食作物種植面積 (B)重視生態維護 (C)農業人口不足，作物收成少 (D)採粗放式耕作。
- () 11. 近年來，肯亞變身為非洲「草原砂谷」，全國有 80% 的國民持有手機，且行動支付也蓬勃發展。根據統計 99% 的上網用戶都是用手機上網，因為當地有線電話普及程度不高，肯亞直接跳過固網(有線網路)而進入行動網路，並由電信公司發展 M-Pesa 行動支付服務。請問：肯亞直接跳過固網而發展行動網路，主要的原因為何？
 (A)金融機構的設立相當普遍 (B)國民普遍貧窮 (C)基礎設施不足 (D)國民教育程度不高。

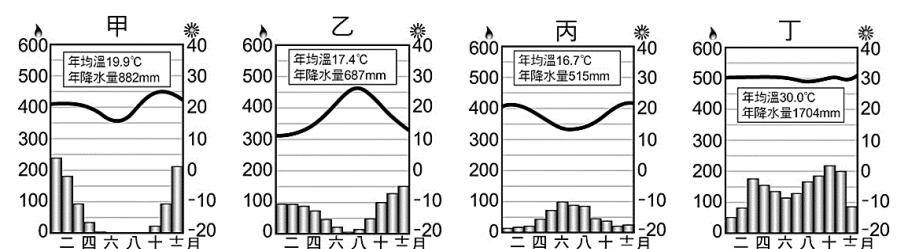


【請回答第 12-14 題】

附圖為非洲的氣候類型分布圖，請依此回答第 12-14 題。

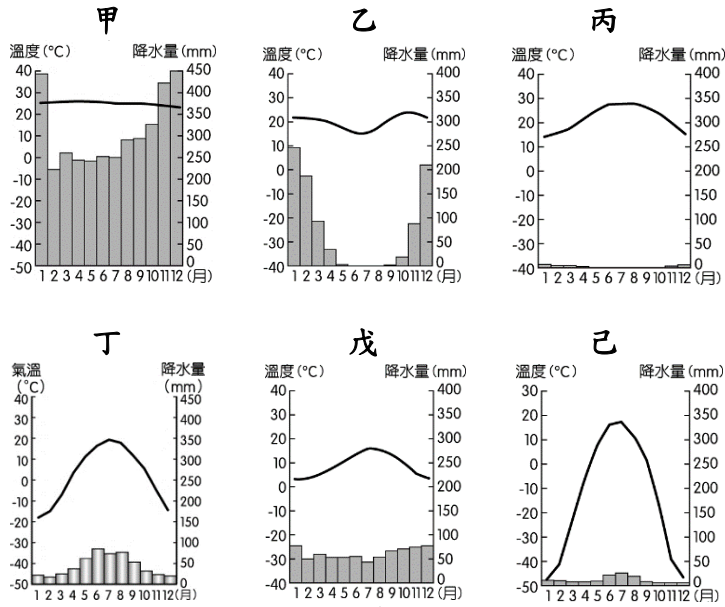


- () 12. 非洲的氣候類型大致呈南北對稱分布，請問：這種分布情形主要與下列哪一地理現象密切相關？
 (A)回歸線橫貫非洲中部 (B)赤道橫貫非洲中部 (C)地勢呈現東高西低 (D)北部較寬，南部較窄。
- () 13. 小華到非洲旅遊，並在上圖星號處拍下了右邊所示的照片。請問：此處應為何種氣候類型？
 (A)熱帶莽原氣候 (B)熱帶雨林氣候 (C)高地氣候 (D)溫帶地中海型氣候
- () 14. 小華接著到非洲南部的丁區旅遊，請問：此處的氣候特色與下列哪一個氣候圖較類似？
 (A)甲 (B)乙 (C)丙 (D)丁。



【請回答第15-17題】

甲~己為六種不同氣候類型的氣候圖，請依此回答第15-17題。




- () 15. 右側附圖所示的深色區域應以哪一氣候圖代表？
 (A)甲 (B)乙 (C)丁 (D)戊
- () 16. 關於丙氣候圖所在地點的特徵，下列敘述何者正確？
 (A)位於南半球 (B)年溫差較大 (C)位於緯度30~40度之間 (D)全年受到高壓帶的籠罩。
- () 17. 若想觀賞高緯度寒帶地區才會出現的「極光」，應到哪一氣候圖所代表的地區？ (A)乙 (B)丁 (C)戊 (D)己。
- () 18. TIME(時代雜誌)是本創於1923年的美國雜誌，每期的封面都會以當時世界著名人物為封面人物，20世紀前期也報導過不少當時中國政壇的風雲人物。1949年10月1日，「某人」在北京正式宣布中華人民共和國建國，也因此登上TIME雜誌封面。請問：「某人」應該是下列哪一位歷史人物？(A)蔣中正 (B)毛澤東 (C)袁世凱 (D)鄧小平。
- () 19. 附圖是中共在某時期號召人民放下手邊的工作，在空地造出土製煉鐵爐，企圖超英趕美。請問：關於這件事情下列敘述何者正確？ (A)同一時期的人民公社實施的非常成功，帶動了中國在農業方面的發展 (B)土製煉鐵爐煉出一堆廢鐵，導致學生上街頭抗議政府的無能 (C)這件事情也導致中國傳統文物遭到大量破壞 (D)這是毛澤東想要快速求取進步所造成的惡果。



- () 20. 毛澤東曾經為了奪回政權，組織利用某群眾進行鬥爭革命，在各大街上高喊「破四舊、立四新」的口號，革命運動隨處可見，對毛澤東的崇拜達到顛峰。請問：毛澤東利用的群眾主要是下列何者？ (A)學生組成的紅衛兵 (B)農民組成的土改隊 (C)軍人組成的解放軍 (D)知識分子組成的黑五類。
- () 21. 有史學家評論現代中國某位人物時，說道：「他能夠在歷史上占一席之地，最重要的一點就是1979年勇敢徹底地改變了毛澤東的路線.....。在這個時代，『經濟掛帥』取代毛澤東的『政治掛帥』。」請問：上述這個現代中國人物指的是誰？ (A)蔣中正 (B)胡錦濤 (C)江澤民 (D)鄧小平。

- () 22. 中國的經濟不再堅持共產主義後，經濟開始大幅成長，2017年之後一直都是全世界的國際貿易總額第一名的國家，歷任領導人均對國家發展抱持美好的「中國夢」，民間也有高度期待。請問：這個現象與下列何者最有相關？ (A)大躍進 (B)民主開放 (C)改革開放 (D)文化大革命。
- () 23. 法國巴黎政治學院的世界知名漢學家白夏教授，在一則專訪中提到：「西元1968年.....，學生抗議政府的教學體制改革，100多名學生佔領了校長的辦公室，當時，誰也沒有預想到這一事件會引發如此巨大的社會風暴。.....我當時18歲，我也認為造反有理，當時我們根本不了解中國正在發生的事是怎麼回事。我們又年輕，又不懂中文，對中國與他的領導人一點兒也不了解。.....只是知道造反有理，年輕人站起來了，等等類似的標語，覺得非常有吸引力。」請問：上述法國的學運現象正是受中國哪一事件的影響？ (A)大躍進 (B)文化大革命 (C)六四天安門事件 (D)改革開放
- () 24. 歷史老師在課堂上提到某段時間的中國，到處都可以看到標語：「人有多大膽，地有多大產。」各地都有糧食產量大增的報導。像是右圖壁畫上的打油詩「肥豬賽大象，就是鼻子短。全社殺一口，足夠吃半年。」後來才證實是原來各地幹部捏造出的成果；請問下面哪位同學關於這段時間的說法是正確的？ (A)小智：建黨後的早期發展 (B)小萱：國民政府的十年建設 (C)大志：建國後的土地改革 (D)阿進：1958年開始的大躍進。
- () 25. 19世紀的英國首相帕默斯頓：「在國際關係中，沒有永遠的盟友，也沒有永遠的敵人，只有永遠的利益。」以此觀察中共和美國、蘇聯的關係，似乎頗有道理，請依時序排列以下中美蘇關係的發展階段：
 (甲)中美聯合抗蘇 (乙)中蘇友好 (丙)中美、中蘇關係正常 (丁)中蘇交惡
 (A)丁甲乙丙 (B)乙丁甲丙 (C)乙甲丁丙 (D)丁乙甲丙
- () 26. 承上題，也請按時間發生順序，將下列近代國際間發生的戰爭選出正確的排列組合：(甲)韓戰 (乙)冷戰 (丙)越戰 (丁)二戰
 (A)丁甲乙丙 (B)乙甲丙丁 (C)丁乙甲丙 (D)乙丁丙甲
- () 27. 西元1989年，一名男子隻身站在大街上阻止坦克車前進，多位國際記者拍下這個畫面，如右圖所示，為了躲避中國軍警的搜查，記者們把底片藏在茶葉罐、馬桶水箱，最後成功將這些照片、影片公諸西方媒體，震撼全世界，坦克人從此成為了反抗威權的象徵。請問：關於六四天安門事件發生的原因，下列何者正確？ (A)農村生產力不足，饑荒四起 (B)經歷文化大革命的十年浩劫，使得國內經濟衰退 (C)傳統儒家文化受到破壞，造成社會動盪不安 (D)積極推動經濟改革開放，但政治仍嚴格控管。
- () 28. 承上題，此事件造成的影響，最終導致下列何種結果？ (A)毛澤東因政策失當，被迫下台，鄧小平成為領導人 (B)在國際輿論的批評下，西方國家對中國實施經濟制裁 (C)各階層紛紛響應，促成鄧小平著手推動改革開放 (D)中國政府最後被迫接受改革的訴求，帶動中國快速成長。



- ()29. 1972年， 戰已發生10多年了。6月8日當天，南 的戰機誤將凝固汽油彈擲往自己部隊及平民，當時年僅9歲的女童潘金淑全身著火，只能剝去燃燒的衣物，與家中小朋友逃生求援的情景被當時美國的記者給拍下。這張照片再度觸動美國人民對 戰的同情心，也加速了 戰的終結。請問關於潘金淑的遭遇，何者有誤？(A)她遭遇的是越戰 (B)美國參戰後對抗的是胡志明的軍隊 (C)南 的合作夥伴是中共 (D)最後越南被北越統一。
- ()30. 以下為某外電報導：「北韓於6月16日炸毀設立在開城的南北韓聯絡辦公室，讓朝鮮半島的緊張態勢急遽升高，朝鮮人民軍當天上午甚至宣稱要進駐邊境，將「前線要塞化」，南韓、北韓動武的機率也來到2018川金會以來的最高點，朝鮮半島兩年來的和平氛圍已一掃而空。」請問關於南北韓的敘述，何者是完全正確的？(A)二戰後朝鮮半島分裂為南韓、北韓 (B)蘇聯支持南韓；美國支持北韓 (C)南北韓的衝突可謂是越戰的延伸 (D)在聯合國勢力援助南韓下，成功打敗北韓收復朝鮮半島。
- ()31. 近年來，美國以「印太戰略」防堵中共勢力在亞太地區的擴張，回首過往，美國亦在冷戰時期也圍堵過共產集團的發展，在亞太地區建構防禦體系，請問美國當時與中華民國合作方式為何？(A)簽署〈中美共同防禦條約〉 (B)制定〈台灣關係法〉 (C)簽署停戰協定 (D)共同加入東南亞公約組織。
- ()32. 東南亞國家協會(ASEAN)是目前亞洲的重要組織，想與東南亞國家打交道的其他國家，幾乎都會想辦法與此協會搭上邊。請問：下列有關於「東南亞國家協會」的敘述，何者正確？(A)此組織由美國帶領成立 (B)希望透過軍事聯盟共同反共 (C)希望自主發展，推展會員國間的經濟貿易合作 (D)台灣和大多數亞洲國家都已加入東南亞國協，成為區域統合的一份子。
- ()33. 美國號召部分國家於西元1955年，在泰國成立東南亞公約組織，簡稱東約，除了有亞洲國家，還包含英、法等國。請問：美國成立東約組織的目的為何？(A)抵抗日本帝國的侵略 (B)促進東南亞的經濟合作 (C)防堵亞洲的共產主義勢力擴張 (D)便於掠奪南洋群島資源而形成的軍事殖民結盟。
- ()34. 承上題，雖然有了英美法等強國的參加，不過東南亞國家只有菲律賓和泰國加入該組織，其他像是作為「不結盟運動」的緬甸和印尼認為保持國內社會安定更為重要，因而拒絕加入。所以他們不願加入此組織的原因應該是？(A)不願依附美國或蘇聯 (B)不願與他國經濟合作 (C)不願干預東南亞事務 (D)其他國家拒絕他們的加入。
- ()35. 以下是彥彥在網路上看到的資訊，請問：以此公告來看，文中的女士負擔了何種責任？(A)政治責任 (B)民事責任 (C)行政責任 (D)刑事責任

● 公告日期：2023-06-01

● 主辦單位：兒童少年福利科

● 依據： 女士違反兒童及少年福利與權益保障法第49條第1項第15款，在教室內脫掉學童內、外褲，並責打屁股，依同法第97條規定，公布姓名。

● 公告內容：

主旨：公告 女士違反兒童及少年福利與權益保障法。
發文字號：新北府社兒字第1121004133號。

- ()36. 豪豪因為多日未到校，由政府的強迫入學委員會介入，要求家長必須強制孩子到校，否則依《強迫入學條例》的規定，予以處罰。請問：上述情況的父母最可能受到何種處罰？(A)罰鍰 (B)拘役 (C)訓誡 (D)罰金。
- ()37. 近年來，餐廳外送平台崛起，許多人沒時間或懶得出門，就會使用外送服務，但假設外送員因為貪快搶時間而闖紅燈，則會被開罰，累犯更可能被吊銷駕照。請問：下列敘述何者正確？(A)外送員闖紅燈要負起民事責任 (B)罰單是由法官宣判的 (C)被開罰最可能是罰鍰 (D)若不服開罰可直接告政府。
- ()38. 阿詹是一位便利超商的店長，日前因為酒駕遭警方攔檢，但他拒絕酒測，還朝警員罵了一句三字經，因此(甲)遭開罰單，再被依妨害公務現行犯逮捕，(乙)遭判處★★三十天。另外，員警不甘心自己被辱罵，再向阿詹要求(丙)精神賠償，(丁)法院宣判需賠償員警3萬元。請問：★★最可能的答案是？(A)勒令歇業 (B)拘留 (C)拘役 (D)停止營業。
- ()39. 接續上題，請問：下列敘述何者正確？(A)甲屬於刑事責任 (B)乙屬於行政責任 (C)丙屬於刑事責任 (D)丁屬於民事責任。
- ()40. 林大尾在社交軟體上發文表示：「我因為犯罪，被判保護管束三年，要定期與少年保護官見面，接受輔導，真是悔不當初啊！」請問：林大尾最可能的年紀與行為是？(A)14歲涉嫌竊盜 (B)15歲欠錢不還 (C)16歲無照駕駛 (D)17歲持刀砍人。
- ()41. 阿偉和阿華在校園內組織「隨機耍蠢砍砍社」，並且攜帶西瓜刀到校，雖然尚未實際做出犯罪行為，但已造成師生恐慌，依法規定有犯罪之疑慮，將給予適當的輔導與處置。請問：這個法律是？(A)《刑法》 (B)《少年事件處理法》 (C)《兒童及少年福利與權益保障法》 (D)《槍砲彈藥刀械管制條例》。
- ()42. 接續上題，請問：阿偉和阿華可能受到的後續處理中，何者錯誤？(A)以保護教化為主 (B)由少年法庭審理 (C)由少年保護官協助輔導 (D)由檢察官偵查起訴
- ()43. 小娟：「我遇到了一件麻煩事，不知道該如何處理？」小佩：「你可以向該單位的上級機關提起訴願，保障自身權益」。請問：下列何者最可能是小娟遇到的問題？(A)勸架不成卻反而被砍傷 (B)被國稅局要求補繳稅金 (C)裝潢房子造成鄰居漏水 (D)已付款卻遲未收到商品
- ()44. 請問：下列哪一則新聞報導，最可能依據《兒童及少年福利與權益保障法》開罰？(A)父親直播，餵兩歲小孩抽菸、吃檳榔 (B)16歲少年被詐騙集團吸收，淪為取款小弟 (C)14歲的國中生非法打工，日薪800元 (D)13歲少年花萬元買手機，母親要求商家退貨。
- ()45. 接續上題，請問：當事人最可能受到的處罰方式是？(A)刑事責任—拘役 (B)行政責任—罰鍰 (C)民事責任—損害賠償 (D)刑事責任—保護管束。
- ()46. 小莉正在認真製作公民課堂筆記，請問：哪一個項目內容有誤？

| 性質 | 目的 | 機關 | 舉例 |
|------|------------|-----------|-------|
| 刑事責任 | (A)處罰犯罪 | 法院宣判 | (B)罰金 |
| 民事責任 | (C)維護當事人利益 | 自行調解或法院宣判 | 賠償 |
| 行政責任 | 違反行政法規 | 行政機關依法執行 | (D)拘役 |

請翻至第4頁繼續作答

- ()47. 少年事件處理法強調為了保障少年健全的自我成長，應該調整其成長環境，由相關的機構進行輔導，請問：下列哪一個情境與處置，最可能有誤？(A)17歲的勳哥因為持刀砍人，被判有期徒刑 (B)15歲的小妮因為公然侮辱，被法官要求書寫悔過書 (C)11歲的小恩涉及擄人勒索，由檢察官協助輔導 (D)16歲的娜娜被父母要求性交易賺錢，判處安置輔導。
- ()48. 輔導老師正在利用下圖進行宣導，提醒同學們保護自己與他人的重要性。請問：散布或持有兒少的猥褻影像，將受到何種處罰？(A)公布姓名 (B)安置輔導 (C)親職教育 (D)刑罰。



【根據下文，回答 49-50 題】

在過去，酒駕只能依照《道路交通管理處罰條例》處罰，後來因應酒駕問題，在西元 1999 年，我國將酒後駕車正式入罪化，法務部將酒後不能安全駕駛動力交通工具納入公共危險罪，而後更多次修法提高刑責，且增訂累犯條款 最高可處無期徒刑。

自 2022 年的最新修法規定，公路主管機關得公布 10 年內第 2 次酒駕累犯者姓名、照片及違法事實。此外，同行者也要連坐處分，處最高新臺幣 1.5 萬元。

- ()49. 請問：文中第二段所述的處罰與方式，下列哪一項屬於同等性質？(A)罰金 (B)拘役 (C)停止營業 (D)褫奪公權。
- ()50. 請問：酒駕的處罰在西元 1999 年的修法後，有何最主要的轉變？
 (A)修正前：罰鍰，修正後：徒刑
 (B)修正前：拘役，修正後：拘留
 (C)修正前：罰金，修正後：罰鍰
 (D)修正前：拘役，修正後：徒刑。