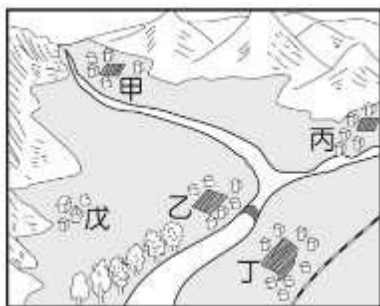


注意，請將各題答案以 2B 鉛筆畫於答案卡！

班級： 座號： 姓名：

選擇題：每題 2 分(1-17 題為地理；18-34 題為歷史；35 至 50 題為公民)

- ()01.右圖為某地區甲~戊五個聚落的分布示意圖，請依各聚落所在位置判斷，何者較可能先發展成都市？
(A)甲乙 (B)乙丙
(C)乙丁 (D)丁戊。



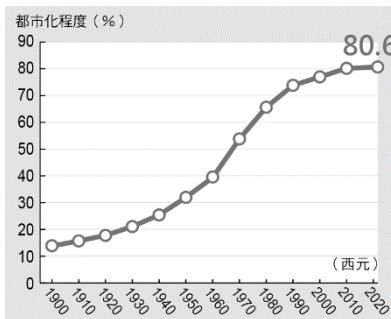
- ()02.現今愈來愈多消費者已養成使用外送服務的習慣，尤其近年來 COVID-19 疫情延燒，更加速推動外送服務的浪潮。請問：想吃到熱騰騰的餐點且宅配到府的服務，應選擇何種運輸方式呢？
(A)公路 (B)鐵路 (C)水運 (D)空運。

- ()03.承上題，目前 COVID-19 疫情已進入了尾聲，自臺灣開放邊境以來，出國旅遊的人數大增，連帶也影響交通運輸產業的發展，當出國人數持續增加，對下列哪個企業產值成長的影響最明顯？ (A)國光客運 (B)臺灣鐵路局 (C)陽明海運 (D)長榮航空。

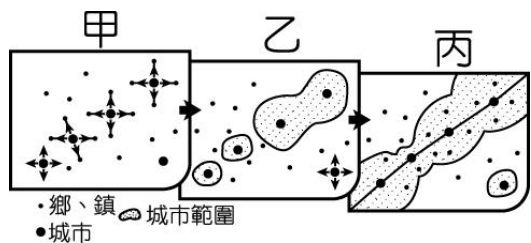
- ()04.下表有關公路和鐵路的運輸特色比較，何者正確？
(A)甲 (B)乙 (C)丙 (D)丁。

	甲	乙	丙	丁
公路	運量較小	維修費用較高	路線密集度較低	適合長程運輸
鐵路	運量較大	維修費用較低	路面密集度較高	適合長程運輸

- ()05.右圖為臺灣自 1900 年以來的都市化程度統計圖。根據圖中資料判斷，最可能得出下列哪項結論？



- (A)人口密度越來越高
(B)貧富差距日趨嚴重
(C)鄉村人口數越來越少
(D)都市人口移入率高。
- ()06.臺灣高鐵自 2007 年開始通車營運至今已十五年，加快臺灣西部走廊各地人、物的流動，現在已成為民眾心目中重要的交通工具。關於臺灣高鐵的敘述，何者正確？
(A)載客量大且速度快，可紓解都市壅塞的交通
(B)從臺北市南港站可一路直達臺灣最南端的屏東縣
(C)促進島內觀光，同步帶動國內空運航線載客人數增加
(D)大幅縮短交通時間，促使臺灣南北一日生活圈成形。
- ()07.下圖為某地區聚落發展的示意圖，圖中幾個城市在擴張的過程中，逐漸與其它城市結合，生活圈緊緊連結在一起，形成一個更大的城市範圍。下列關於這種現象的敘述，何者正確？



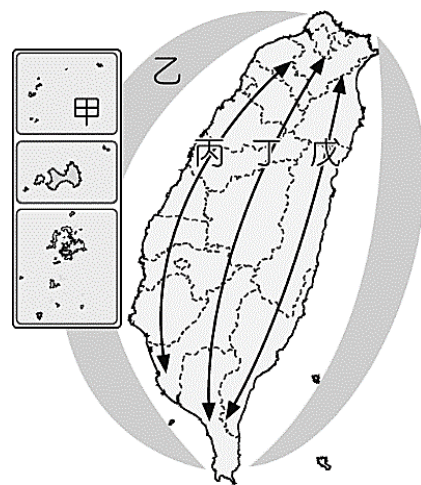
- (A)指鄉村人口往都市集中的過程
(B)指兩個都市合併為一個都市的過程
(C)區域內交通發展促使都市範圍擴大
(D)出生率明顯增加促使都市擴張範圍。

- ()08.臺灣國際貿易依賴度高，許多貨物以海運方式進出口。請問：臺灣哪一個港口因位於平原地形有利內陸運輸，腹地廣大，成為臺灣第一大港口？ (A)基隆港 (B)高雄港 (C)花蓮港 (D)臺中港。

- ()09.右圖為臺灣鐵路分布圖，臺灣興建鐵路的範圍主要受到下列哪項限制？
(A)山地位置
(B)降水多寡
(C)河川流向
(D)人口分布。



- ◎下圖是臺灣國土空間規畫架構圖，依據臺灣地形和社會經濟條件，將國土空間規畫為「三軸、海環、離島」等軸帶，請回答第 10~12 題：



- ()10.根據 2023 年 6 月 2 日 [NOWnews 今日新聞] 報導，全球先進半導體約有 92% 由台積電生產，臺灣在全球科技供應鏈的地位不可或缺。請問：在臺灣國土空間規畫裡，臺灣的科技鏈屬於哪一區域的發展重點？
(A)甲 (B)丙 (C)丁 (D)戊。

- ()11.臺灣雲豹原始的棲息環境主要在海拔 1,500 公尺以下的暖溫帶原始森林，在土地被大量開發之後，近幾十年來，牠們似乎已經不見蹤跡，僅能從年長或有狩獵經驗的原住民口中，蒐集到有關曾經捕獲或目擊到雲豹的資訊，而大多數受訪者所指稱的地點多位於山區。有一群研究人員為了尋找牠們，歷經三年多的調查雖一無所獲，但還是以目前對雲豹的了解，嘗試繪製臺灣島上雲豹族群可能棲地的分布圖，其繪製的原則與流程如下：

- 【步驟一】首先把全臺灣海拔在 300 到 2,000 公尺之間、面積超過 40 平方公里的森林篩選出來，定義為雲豹的主要棲地。
【步驟二】假設雲豹可以在距離 1 公里之內的破碎棲地間順利移動，因此把距離主要棲地 1 公里以內面積不足 40 平方公里，但大於 4 平方公里的森林，一併納入最近的主要棲地範疇。
【步驟三】距離村莊、部落 5 公里以內，或距離主要道路 3 公里以內的主要棲地不適合雲豹棲息，因而刪除這些區域。

根據文中研究員繪製雲豹可能棲地的原則與流程，其分布圖的範圍最有可能位於臺灣國土空間規畫裡的哪一個區域？ (A)乙 (B)丙 (C)丁 (D)戊。

- ()12.臺灣實施國土空間發展策略計畫，主要目的為下列何項？
(A)發展高科技產業 (B)減少區域間的發展差距
(C)加快經濟發展速度 (D)促進交通建設發展。

◎民國 68 年政府制定了「臺灣地區綜合開發計畫」，依據該計畫，將臺灣本島劃分為右圖中的四大區域，做為區域發展的依據。請回答第 13~15 題：




- () 13. 此畫分法是以行政區作為分區，利於統計分析。請問下列行政區與分區的配對，何者正確？
 (A) 苗栗縣屬於北部
 (B) 澎湖縣屬於南部
 (C) 雲林縣屬於南部
 (D) 宜蘭縣屬於東部。
- () 14. 下表為 2022 經濟日報縣市幸福指數大調查報告，表中呈現某個縣市在各項指標的原始數據，以及各項指標在全臺 22 個縣市的排名。請問，該縣市最有可能位於臺灣四大區域中的哪一個區域？ (A) 甲 (B) 乙 (C) 丙 (D) 丁。

政府統計數據

指標	原始數據	排名
每人可支配所得(千元)	322	17
15-64歲就業者占該年齡層人口比率(%)	64.90	16
平均每人居住面積(坪/人)	20.56	1
零歲平均餘命(歲)	76.64	20
15歲以上大專及以上學歷人口比率(%)	29.53	20
空氣品質指標(AQI)	34	1
暴力犯罪發生率(件/10萬人)	3.73	15
家戶連網比率(%)	87.95	15

- () 15. 下圖為民國 105 年臺灣四大區域各級產業就業人口比例圖，請從圖中資訊判斷，甲~丁中哪一個區域為北部區域？ (A) 甲 (B) 乙 (C) 丙 (D) 丁。



- () 16. 右圖為臺灣國家公園分布圖。請問：下圖為哪一座國家公園管理處的標誌呢？
 (A) 己 (B) 庚
 (C) 辛 (D) 壬。

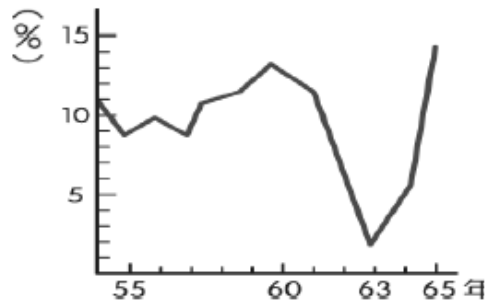


- () 17. 承上題，臺灣本島上有哪座國家公園，可以看到豐富的珊瑚礁地形？ (A) 甲 (B) 丙 (C) 戊 (D) 辛。

- () 18. 美國發表「台灣海峽中立化」聲明，派遣海軍巡防台灣海峽，阻止中華人民共和國趁隙對台攻擊，同時也禁止中華民國「反攻大陸」。請問：美國發表聲明的背景是因為？(A) 國共內戰 (B) 台美斷交 (C) 韓戰 (D) 三通。
- () 19. 美國總統艾森豪於民 49 年拜訪台灣時，受到熱情群眾夾道歡迎。艾森豪總統為了防止共產勢力擴張，曾與我國簽訂相關反共條約，使台灣在軍事、經濟及外交上得到美國支持。有關當時台灣的局勢，下列敘述何者正確？
 (A) 文中的反共條約為《台灣關係法》
 (B) 此時台灣的外交政策為務實外交
 (C) 台灣運用美援推動多項經濟建設
 (D) 台灣為爭取美國支持而宣布解嚴。
- () 20. 民國 76 年，多多走在路上無意中拿到傳單寫著：「想回家，怎麼辦？」，幾個月後又看到有傳單寫著：「抓我來當兵，送我回家去」，這些傳單由同一組織發佈。請問他們的主要訴求為何？
 (A) 開放小三通 (B) 開放兩岸直航
 (C) 堅持三不政策 (D) 開放兩岸探親。
- () 21. 民 38 年 10 月，共軍集中船隻對金門發動攻擊，遭守軍擊退。民 39 年年 3 月，共軍又集結大批兵力，用類似「萬船齊放戰術」進攻海南島，迫使當地國軍撤守；5 月底更攻占廣東萬山群島。共軍原本預定隨後再度對金門發動攻擊，但沒有多久因為韓戰爆發就取消這項計畫。請問：文章守軍成功擊退共軍的戰役應該是？
 (A) 古寧頭戰役 (B) 八二三炮戰 (C) 中日戰爭 (D) 韓戰
- () 22. 隨著歷史的演變，台灣每個時期的主流文化以驚人的速度衝擊或取代原住民族的傳統文化。《聯合國教科文組織文化多樣性宣言》曾指出：世界上文化物品的流通和交換所存在的失衡現象是對文化多樣性的一種威脅。請問：台灣在何時原住民及多樣性文化才開始被重視？
 (A) 民國 40 年代 (B) 民國 50 年代
 (C) 民國 60 年代 (D) 民國 70 年代。
- () 23. 台灣某時期政府發函給地方：「據報台南縣善化鄉耶穌基督教會以羅馬字拼音傳教，不用漢文，尤其不識漢字的兒童反崇尚羅馬字，影響國民教育至大，政府對此影響，應加限制……該善化鄉耶穌基督教會，仍以羅馬字拼音傳教，不符合規定，仰即查明，嚴予取締具報。」政府發函的原因最可能與下列何者有關？
 (A) 日本開始推動皇民化運動
 (B) 戰後台灣推動中華文化
 (C) 與美國簽訂《中美共同防禦條約》
 (D) 鄉土文學的流行。
- () 24. 台灣的鄉土文化蓬勃發展，出現了以寫實手法描繪台灣人民小人物生活面貌的文學作品，反映出當時的社會經濟與價值觀。當時的台灣正處於何種時代氛圍，促使其發展？
 (A) 面臨外交窘境，孤立無援
 (B) 解嚴開放，社會兼容並蓄
 (C) 戒嚴初期，瀰漫白色恐怖
 (D) 戰後初期，兩岸軍事對峙。
- () 25. 習作題：原住民的八部合音、抒情的英文老歌、強調鄉土情感的校園民歌、以及澎湃的反共歌曲。請將上述的音樂依據流行的時代進行排列。甲、八部合音；乙、反共歌曲；丙、校園民歌；丁、英文老歌
 (A) 乙甲丙丁 (B) 丁乙丙甲
 (C) 丙丁甲乙 (D) 乙丁丙甲。

請接續第 3 頁試題

- () 26.戰後台灣某個時期的經濟發展政策是以「拓展對外貿易、吸引工業投資、引進最新技術、增加就業機會」為四大目標，因而政府在高雄成立了第一個加工出口區，進而帶動台灣中小企業蓬勃發展。此政策為？
 (A)進口替代 (B)出口導向
 (C)十大建設 (D)產業升級。
- () 27.政府遷台之後持續推出各項土地改革，對台灣後來的歷史產生很大的影響，何者是土地改革所帶來的影響？
 (A)失敗，貧富差距更為嚴重 (B)失敗，農村人口流失
 (C)成功，多數佃農轉型為自耕農 (D)成功，台灣轉型為高科技產業。
- () 28.右圖為民國 54~65 年台灣經濟成長率曲線圖。圖中某段時間曲線大幅陡降，請問下列有關敘述何者最不符合史實？
 (A)曲線大幅下降，主因是當時爆發世界性能源危機
 (B)當時台灣推動十大建設因應此等經濟困境
 (C)推動政策後台灣經濟起飛，度過難關
 (D)其中包含蔣渭水高速公路、西部縱貫鐵路等建設。
- () 29.下列為各時期臺灣工業發展的特色，請依照時間先後，按照順序排列：
 甲、限制進口，扶植輕工業；
 乙、產業升級，發展高科技產業；
 丙、積極加工出口，發展勞力密集產業；
 丁、發展基礎建設與重工業為主，如北迴鐵路。
 (A)甲乙丙丁 (B)甲丙丁乙
 (C)乙甲丙丁 (D)乙丙甲丁。



◎題組：以下為某法律文件的擷取內容，回答 30~31 題

1. 由於美國總統已終止美國和臺灣統治當局（在□年1月1日前美國承認其為中華民國）間的政府關係，美國國會認為有必要制訂本法：
- (1)有助於維持西太平洋地區的和平、安全及穩定；
 (2)授權繼續維持美國人民及臺灣人民間的商務、文化及其他各種關係，以促進美國外交政策的推行。
2. 美國的政策如下：
- (1)維持及促進美國人民與臺灣之人民間廣泛、密切及友好的商務、文化及其他各種關係；並且維持及促進美國人民與中國大陸人民及其他西太平洋地區人民間的同種關係
 (2)表明西太平洋地區的和平及安定符合美國的政治、安全及經濟利益，而且是國際關切的事務
 (3)表明美國決定和「中華人民共和國」建立外交關係之舉，是基於臺灣的前途將以和平方式決定這一期望
 (4)任何企圖以非和平方式來決定臺灣的前途之舉 -- 包括使用經濟抵制及禁運手段在內，將被視為對西太平洋地區和平及安定的威脅，而為美國所嚴重關切
 (5)提供防禦性武器給臺灣人民
 (6)維持美國的能力，以抵抗任何訴諸武力、或使用其他方式高壓手段，而危及臺灣人民安全及社會經濟制度的行動。

- () 30.文中□年應填入？
 (A)1945年 (B)1954年 (C)1970年 (D)1979年。
- () 31.根據文章的內容，此文件和下列哪件史實最有關係？
 (A)國共內戰爆發 (B)中華民國與美國斷交
 (C)八二三炮戰爆發 (D)中華人民共和國加入聯合國。


◎題組：閱讀資料，回答 32~34 題

資料(一)「一個國家」是指中國的主權和領土必須完整，不容分割，中國是一個統一的國家，在國際上，代表中國的只能是中華人民共和國。「兩種制度」是在統一的中華人民共和國內部，大陸實行社會主義制度，臺灣、香港、澳門保留原有的資本主義制度。

資料(二)8月23日下午6點30分，士官長剛吃完晚飯，對岸的匪炮突然向金門發出了瘋狂的炮擊，一時彈如雨下，硝煙密布，於是早已有了作戰準備的弟兄們，立刻跑向陣地，將砲彈上膛，瞄準目標，只待命令下達，立即予匪以致命的打擊。

資料(三)6月13日兩岸兩會簽署「海峽兩岸關於大陸居民赴臺灣旅遊協議」，政府於同年7月起開放大陸人民直接來臺從事團體旅遊活動。

- () 32.請問三段資料在兩岸外交史上最早發生時間依序是？
 (A)一、二、三 (B)三、一、二
 (C)二、一、三 (D)一、三、二。
- () 33.資料(一)時期，我國提出何種因應的方針？
 (A)三民主義統一中國 (B)和平統戰
 (C)與美國簽訂中美共同防禦條約 (D)開放兩岸三通。
- () 34.資料(三)時期，此時台灣的民間交流機構為？
 (A)海基會 (B)海協會 (C)國台辦 (D)陸委會。
- () 35.我們所處的社會，常會以一個人擁有的財富、權力及聲望等，決定其社會地位。而不同的社會地位，也會影響個人取得資源的能力與機會。請問：下列哪一個身分是可以靠「個人努力」達成的？(A)家庭排行 (B)家世背景 (C)學業成就 (D)種族。
- () 36.老師利用右圖說明某項社會安全政策，請問：這項政策與下列哪項措施屬於同一類型？(A)申請勞保給付 (B)申請育兒津貼 (C)施打流感疫苗 (D)申請急難救助金。



- () 37.接續上題，此制度是政府整合所有機構、團體與個人的力量，所發展出與醫療有關的社會福利政策，請問：主要是希望保障何者的權益？(A)身心障礙者 (B)全體國民 (C)弱勢群體 (D)重病患者。
- () 38.老師請同學用「利益分配」的角度來分析社會中的不公平現象，請問：何人的觀點錯誤了？(A)小銓：低所得家庭的收入無法追趕上高薪資者 (B)小安：貧窮在世代間循環，阻礙社會流動的機會 (C)小家：經濟弱勢者對於分配的不均，容易有相對剝奪感 (D)小芊：偏鄉地區的教育資源與衛生醫療都不足夠。
- () 39.兒童福利聯盟公布調查報告，指出偏鄉孩子有三大閱讀困境，分別是「缺少紙本閱讀資源與數位設備」、「缺少家人的陪伴學習」、以及「閱讀資源低於全臺平均」。請問：此文章顯示出臺灣社會哪一項議題上的不公平？(A)個人的財富沒有得到合理的分配 (B)偏鄉地區的家務分工明顯不平均 (C)城鄉差距使得教育資源分配不均 (D)偏鄉地區的孩子付出沒有得到相同認可。

背面尚有試題

- ()40.下圖是阿傑在網路上看到的資訊，請問：根據圖中內容判斷，此項服務與下列哪一社會福利政策最為相關？(A)社會救助 (B)居住正義 (C)就業安全 (D)社會保險。



- ()41.小花在公所網站看到下列資訊，請問：以下何者與圖中政策屬於同一類型的社會福利政策？(A)低收入戶補助 (B)低利率青年創業貸款 (C)育兒津貼補助 (D)青年安心成家優惠房貸。

Q：生活遭遇變故，地震把我家震倒了，怎麼辦？

A：快來申請馬上關懷急難救助金，最高可補助三萬元。

- ()42.社會是一個分工與互助的體系，追求公平正義應該是每一個人的責任。請問：下列何項政策**不符合**公平正義原則？(A)身心障礙者專用停車位 (B)立委當選制度有婦女保障名額 (C)視障生可在特殊考場考試 (D)家務勞動被視為女性的天職。

- ()43.每個人都有公平的機會，可以取得地位或資源，又稱為「機會均等原則」，請問：下列哪一個同學的舉例**不符合**此概念？(A)小媛：不論成績好壞都可以參加教育會考 (B)小芸：不論男女都可以公平參加就業面試 (C)小澄：不論家世背景都可以接受國民教育 (D)小勳：不論職業型態，都給予相同的升遷標準與薪資。

- ()44.小詹因為做報告需求，正在蒐集與身心障礙者福利的相關資訊。請問：「身心障礙者康復巴士」與下表中何者屬於同一類型的社會福利？

★身心障礙者—社會福利 報你知道★

- (A)身心障礙者津貼
(B)推動無障礙空間
(C)身心障礙者職業訓練
(D)身心障礙者購屋貸款補助

- ()45.公民老師上課正在進行快問快答，請問：何人的答案與右圖屬於同一類型的社會福利政策？(A)小鈞：農民保險 (B)小辰：身心障礙津貼 (C)小皓：脫貧自立生活扶助 (D)小歲：廣設老人安養機構。



- ()46.由於「人生而自由平等」，因此社會安全的思維與政策顯得重要，請問：下列哪一個**不是**社會安全應該存在的主要原因？(A)對弱勢的人給予較多的照顧 (B)對不同方面的弱勢群體提供一樣的照顧 (C)每個人都有權利與他人享受同等自由 (D)確保每個人都有公平的機會取得資源。

- ()47.臺灣的少子化現象已存在多年，使得政府喊出「0-6歲國家一起養」口號，也積極推動許多相關政策，希望可以

鼓勵大家生育。請問：下列哪一個做法符合「對弱勢群體提供更多的照顧」？(A)幼兒園一律統一的收費標準 (B)低收入戶家庭子女優先入學 (C)名額有限，公正公開抽籤入學 (D)身心健全的小孩才可以就讀。

- ()48.行政院最近積極推動「強化偏鄉醫療照護—讓距離不再是藩籬」，請問：此政策主要是想解決下列何種社會不公平的現象？(A)利益分配，阻礙社會流動 (B)責任負擔，偏鄉經濟壓力大 (C)貢獻程度，移工補足勞動力 (D)需求滿足，基本生存資源缺乏。



- ()49.《我的兒子是死刑犯》是一部紀錄片，導演表示希望從父母的角度出發，讓大家理解「死刑犯也是人生父母養」，試圖撕下標籤，不要只看斷面，而是用生命的整體來看待這個議題。請問：導演想為死刑犯傳達的理念是？(A)享有基本人權 (B)提供弱勢更多的福利 (C)公平取得資源的機會 (D)滿足受教的基本權利。

- ()50.請問：下述段落中，哪一項有**錯誤**？

各種社會福利措施應該善盡其各自的功能，例如：以(A)社會津貼提升家庭生活品質，以(B)健康照護維持國民健康與人力品質，以(C)就業安全穩定國民之所得來源，以(D)居住正義協助國民在地安居樂業。

試題到此結束！