

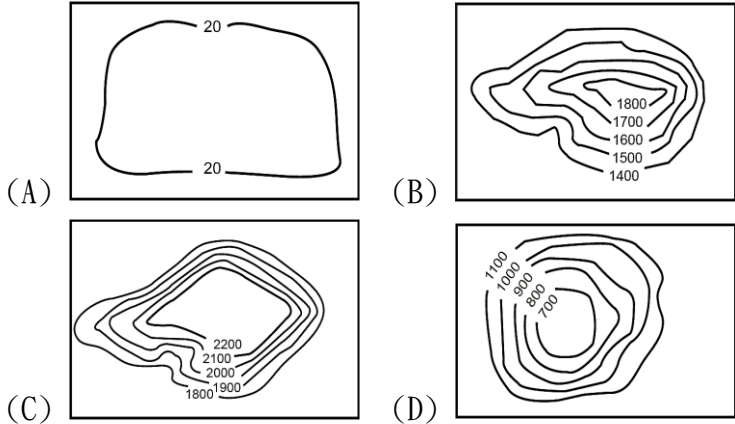
新北市立三多國民中學 111 學年度第 2 學期第 2 次定期評量 八年級社會科試題

【請依規定以 2B 鉛筆在答案卡劃記作答】

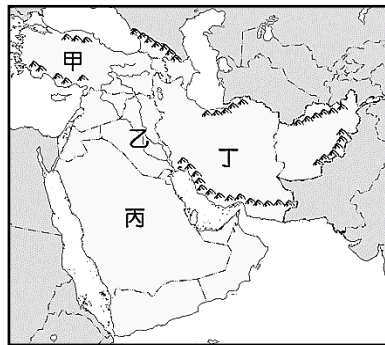
班級： 座號： 姓名：

選擇題：每題 2 分(1-16 題為地理；17-33 題為歷史；34 至 50 題為公民)

( ) 1. 位居歐、亞、非三洲接觸帶的西亞地區，其地形主體以□□為主。請問：下列哪一幅等高線地形圖最能代表西亞地區的□□地形？



( ) 2. 「伊拉克的首都巴格達位於底格里斯河與幼發拉底河流域中游的沖積平原區，地理位置十分理想，在長達數世紀的歷史中，曾經是阿拉伯帝國的首都，也是西亞地區經濟、貿易、文化、交通的中心」。請問：巴格達位在附圖中哪一個地區？(A)甲 (B)乙 (C)丙 (D)丁。

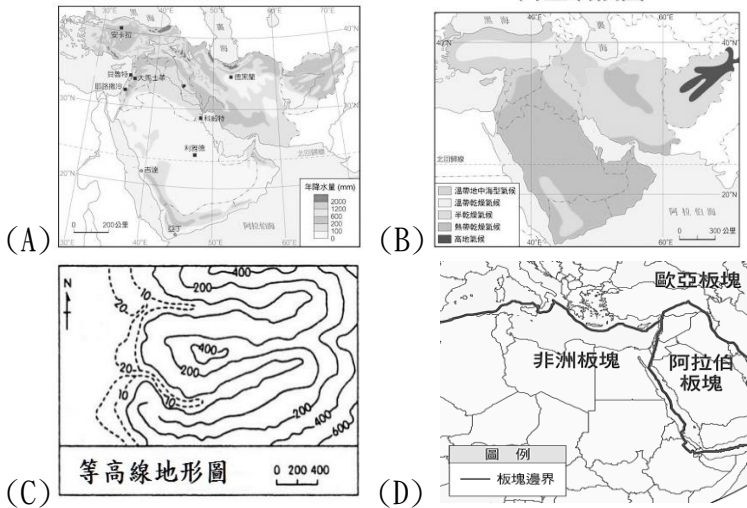


【請回答 3-4 題】

2023 年 2 月 6 日凌晨 4:17 在土耳其南部接壤敘利亞邊境發生強烈地震，震央如附圖所示。



( ) 3. 若想探究此次地震成因，應參考下列哪一張圖？



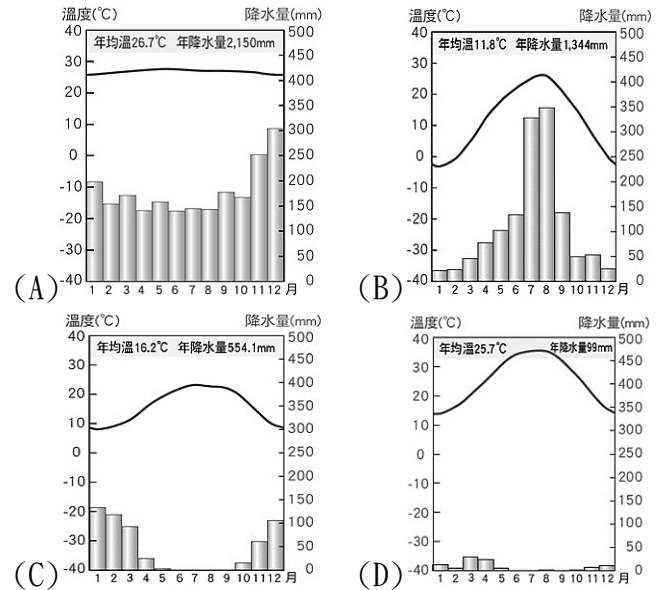
( ) 4. 為了響應救災，若想捐助方便易食的泡麵送往災區，則應顧及當地主要宗教信仰，下列何種泡麵較不適合運往土耳其災區？(A)蕃茄豬肉麵 (B)海鮮風味湯麵 (C)香菇素食麵 (D)味增湯麵。

【請回答 5-6 題】

2020 年 8 月黎巴嫩的首都貝魯特發生大爆炸，起因是港口的倉庫存放了大量的硝酸銨。爆炸地點三公里內都遭受波及，造成多人死傷。

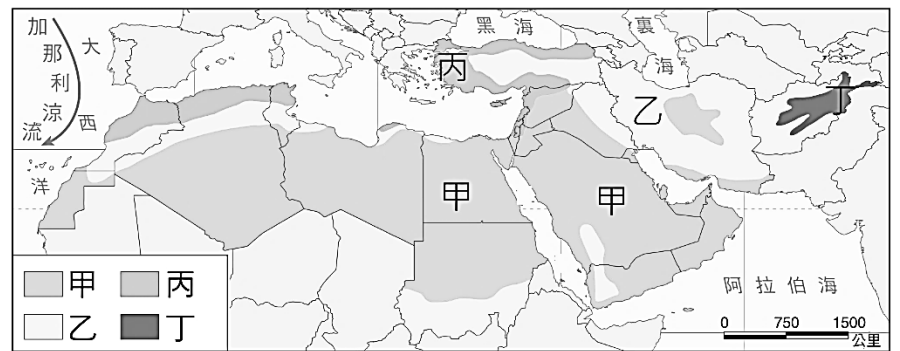


( ) 5. 貝魯特港口瀕臨下列哪一個水域？(A)黑海 (B)紅海 (C)波斯灣 (D)地中海。  
( ) 6. 事件發生的月分，當地氣候正值炎熱乾燥，請問：此地的氣候圖最可能為下列何者？

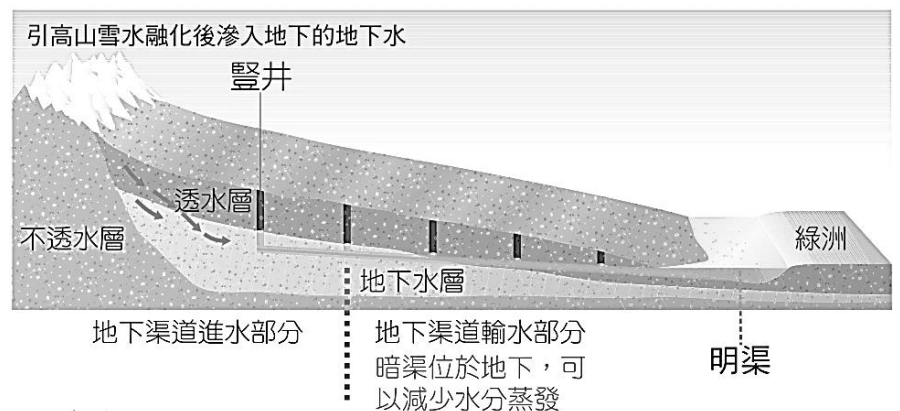


【請回答 7-8 題】

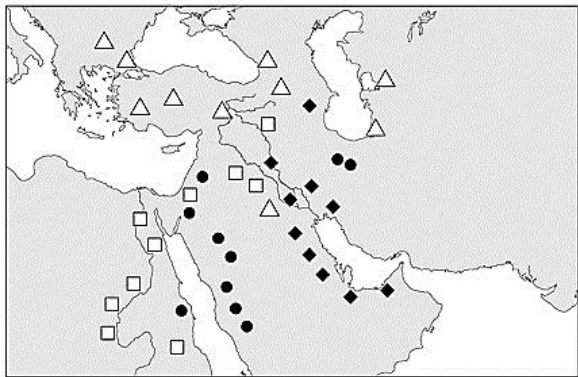
附圖為西亞與北非的氣候類型分布圖，其中甲氣候類型為全年雨量稀少的熱帶沙漠氣候，農業發展仰賴河水及地下水灌溉，主要農作物以椰棗、小麥和瓜果為主，呈現高低分層的作物分布。



( ) 7. 影響甲氣候類型的主要成因與下列何項敘述關係最為密切？(A)位居大範圍海陸交會區 (B)受副熱帶高氣壓籠罩 (C)周邊地勢高聳多山 (D)深居內陸距海遙遠。  
( ) 8. 根據甲氣候類型區的農業特色說明，此區農業發展具有下列何項特徵？(A)農業集約度高 (B)農業以商業性為主 (C)生產高度機械化 (D)發展熱帶栽培業。  
( ) 9. 附圖為坎井示意圖，是一種乾燥地區的特殊灌溉方式，這種水源利用方式最可能出現於下列何處？(A)尼羅河沿岸 (B)伊朗高原 (C)約旦河沿岸 (D)阿拉伯高原。

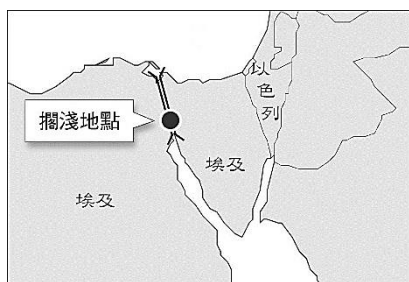


- ( )10. 二十世紀初，在西亞發現大量石油，也改變了此區的經濟命脈。請依附圖判斷，何種符號較能代表西亞地區主要油田的分布區？(A)△ (B)● (C)◆ (D)□。



- ( )11. 新聞一：「約旦河西岸住宅失火 巴勒斯坦控『猶太恐怖份子』犯行」。  
新聞二：「約旦河西岸衝突不斷 2名以色列士兵遭槍擊負傷」。  
新聞三：「以色列與巴勒斯坦近日衝突逐漸升溫，巴勒斯坦伊斯蘭聖戰組織領導人絕食 86天餓死於以色列監獄，隨後組織向以色列境內發射火箭砲」。  
以色列自1947年立國以來，與巴勒斯坦及周邊阿拉伯國家衝突不斷，關於此區矛盾與衝突的原因，下列何者為非？(A)宗教矛盾 (B)土地爭奪 (C)民族差異 (D)石油利益。

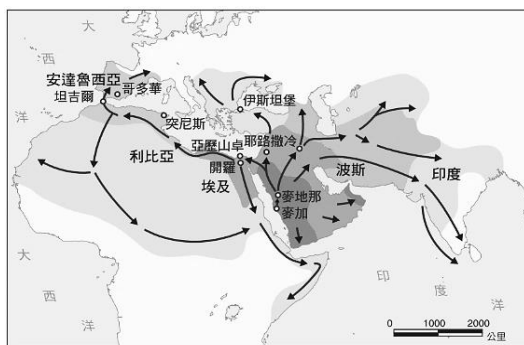
- ( )12. 2021年3月23日，400公尺長的長榮海運貨櫃船「長賜輪」在埃及蘇伊士運河因強風吹襲而偏離航道擱淺打橫，完全阻塞運河，使得其他船隻無法繞行，如附圖所示，後續影響超過300艘以上船隻排隊等候。請問：此次事件造成哪兩大洲的海上航運大亂？(A)歐洲—亞洲 (B)歐洲—北非 (C)北美洲—亞洲 (D)北美洲—歐洲。



- ( )13. 第22屆世界盃足球賽，於2022年11月20日至12月18日在卡達舉行，這是第一次在北半球冬季進行的世界盃比賽，主要原因是避免當地炎熱高溫的氣候環境，更在沙漠中從零打造出8座場館。卡達商人則以當地傳統服飾為基礎，製作出印有參賽國國旗配色的服飾，賣給世界各地蜂擁而至的球迷。此一傳統服飾除宗教因素，更與當地的自然環境息息相關，請問：此服飾具有何項功能？(A)沙漠地防滑倒 (B)防日曬擋風沙 (C)夜間禦寒保暖 (D)吸溼氣排汗水。



- ( )14. 附圖為□□教的向外傳播示意圖，於西元七世紀初由先知穆罕默德在阿拉伯半島上的麥加創立，信徒遵從經典○○所規範的教義，並奉行「五功」--念、禮、齋、課、朝。請問：□□及○○分別代表下列何者？(A)猶太、聖經 (B)基督、聖經 (C)基督、古蘭經 (D)伊斯蘭、古蘭經。



傳播方向 西亞北非傳播年代  
 → 穆罕默德時期 632~644年 645~661年  
 662~750年 751~1700年

- ( )15. 石油輸出國家組織 (OPEC) 於1960年成立，藉以抗衡歐美的石油公司。關於OPEC的敘述，下列何者正確？(A)成員國皆可自行制定石油出口價格 (B)成員國間避免關稅及有共通的貨幣 (C)由主要產油國組成，主導國際間的石油利益 (D)保障成員國的珍貴古文明文化資產不被破壞。
- ( )16. 位於阿拉伯聯合大公國的杜拜，不僅擁有世界最高的哈里發塔、造型特殊的帆船飯店，更創造了棕櫚人工島，「土豪城市」的形象深入人心，杜拜政府透過石油獲利後，轉型多元投資，進而展現快速的經濟發展。請問：杜拜藉由投資經營各項觀光事業，主要是為了避免經濟發展陷入下列哪一個困境？(A)過度依賴石油出口 (B)歐美文化產業入侵 (C)勞動人口外流 (D)外國企業控制。
- ( )17. 每週一的朝會都要唱國歌，無奈願意開口大聲唱的同學並不多，其實國歌的作詞者是國父孫中山，是他在黃埔軍校的開學典禮上所演講的訓詞，請問以下相關敘述，何者完全正確？(A)此校創建得到蘇聯協助 (B)創校地點於南京 (C)第一任校長是孫中山 (D)訓詞勉勵師生共同抵抗日本。
- ( )18. 政治發展中，只要利益相同，即便是敵人也能成為合作無間的戰友。一直處在競爭立場的中國國民黨及中國共產黨也曾因共同目標而促成兩次的合作關係。試問：國、共首次合作的目標為何？(A)推翻袁世凱稱帝，恢復共和 (B)聯合蘇聯，牽制日本 (C)戡亂清黨，結束內戰 (D)打倒軍閥，完成中國統一。
- ( )19. 羅家倫曾說過：「二十歲以前不信共產黨的人沒有心肝；二十歲以後還相信共產主義的人是沒有腦袋。」關於中國共產黨的敘述，何者敘述錯誤？(A)共產主義為新文化運動期間，西方所輸入的新思潮之一 (B)在孫中山「聯俄容共」政策之下，中國共產黨在民國10年成立 (C)蘇聯在中共擴大勢力的過程中貢獻良多 (D)蔣中正在北伐的過程中，曾下令清除黨內的共產黨分子，導致兩黨分裂。
- ( )20. 北伐統一後，面對日本的進逼，國民政府知道要跟日本對抗，很有可能被擊敗。依當時的國際情勢來看，中國太弱，日本太強，所以中國採取什麼戰略，來因應此種情勢？(A)停止內戰，聯共抗日 (B)在東北成立滿洲國 (C)攘外必先安內 (D)速戰速決。
- ( )21. 「苦不苦，想想紅軍二萬五；累不累，想想革命老前輩」，這二句的「順口溜」，是形容中國歷史上的某一個時期，人群從南到北，在行進的過程中，飢寒交迫的情景，中共用來勉勵後人做事時要吃苦耐勞，以上描述的應該是哪一個時期？(A)國民革命軍的北伐 (B)國共內戰的衝突 (C)中共的長征 (D)八年抗戰的艱辛。
- ( )22. 張學良被軟禁長達50多年，於民國90年以101歲的高齡去世；他對中國的歷史發展影響深遠，已故作家柏楊曾經說過：「沒有一個非國家元首級的人物，能發揮出這麼大扭轉歷史的爆破力量。」下列哪些史事的發展中，張學良扮演著舉足輕重的角色？(甲)清黨 (乙)北伐完成 (丙)西安事變 (丁)雅爾達會議。(A)甲、乙 (B)乙、丙 (C)甲、丁 (D)丙、丁。

請翻至第3頁繼續作答

- ( ) 23. 習爺爺收藏的舊紙幣中，有一張面額 60 億的紙鈔，習爺爺說這在當時發行時也只能買到 77 顆米粒而已，請問這段敘述可推知當時的經濟情形如何？(A)軍閥亂政時期貨幣混亂 (B)北伐時期貨幣貶值 (C)十年建設時期發行法幣，統一幣制 (D)國共內戰激化導致通貨膨脹。
- ( ) 24. 中國在十年建設時期，某位政治人物大聲呼籲：「全國各黨派要放棄歧見，停止內戰，團結一致，共同抵禦外敵。」由上述的內容判斷，下列何者正確？(A)「停止內戰」是指停止軍閥混戰 (B)某位政治人物指的是蔣中正 (C)九一八事變後，由「安內」轉而「攘外」 (D)「共同抵禦外敵」是指共同抗日。
- ( ) 25. 「我無法諒解少帥（張學良）為何不奮力抵抗。『刺刀、狼狗、太陽旗』成為我和妹妹在兒時最深刻的記憶。後來，我和同學們早上固定要升旗、背天皇詔書、唱日本國歌；課本裡突然多了『中日親善』的內容，但在當時教科書從不談『中國』，我們只會說『滿洲國』。老人家總說今年是『民國多少年』，大家就趕緊糾正，要改口為『康德多少年』，『康德』是滿洲國皇帝的年號。」請問：上文提到的「皇帝」是誰？(A)溥儀 (B)袁世凱 (C)張作霖 (D)日本天皇。
- ( ) 26. 承上題，文章中提到「我無法諒解張學良為何不奮力抵抗。……」請問：面對日本入侵，張學良沒有奮力抵抗應該指的是哪一個事件？(A)九一八事變 (B)西安事變 (C)一二八事變 (D)七七事變。
- ( ) 27. 在歷史課上，小安因為前一天晚上讀書太認真，導致課堂上打起瞌睡，下課只看到了老師在黑板上寫著「重慶」成為中華民國的首都，卻不知道是哪些事情導致而成，請你幫助小安補足這段「歷史的空缺」，應該是以下何者？(A)七七盧溝橋事變後，首都由北京遷移至重慶 (B)日軍進攻上海時，為阻止日軍「三月七華」，決定遷都重慶 (C)珍珠港事變後，採「以時間換取空間」戰術遷都重慶 (D)國共內戰中，南京失守，導致遷都至重慶。
- ( ) 28. 小銘在課本看到一篇文章，此文章指出：「這段期間，平均每天有 50 至 60 架飛機在臺灣和中國大陸之間飛行，運輸燃料和彈藥，並有國軍 26 艘海軍艦被派往臺灣。中國人民解放軍幾乎控制了中國大陸所有地區。」文章所述情景最可能出現在哪一時期？(A)剿共時期，共產黨不敵，展開長征 (B)中日戰爭爆發，臺灣成為南進基地 (C)珍珠港事變後，美國以臺灣作為反攻基地 (D)國共內戰末期，國民黨軍隊全面潰敗。
- ( ) 29. 第二次世界大戰時，中國損傷慘重，但國際地位也獲得提升。下列哪些外交事件可說明中國國際地位提升？(甲)開羅會議的召開 (乙)雅爾達會議的召開 (丙)簽訂平等新約 (A)甲、乙 (B)乙、丙 (C)甲、丙 (D)甲、乙、丙。
- ( ) 30. 孫中山在《建國大綱》中制定一個理想的建國流程。關於建國流程，下列哪個描述正確？(A)軍政時期是以黨領政 (B)北伐統一後進入訓政時期 (C)原本預計展開的憲政工作因中日戰爭爆發而延遲到 34 年底才實施 (D)憲政時期最容易產生一黨獨大壟斷的情形。



- ( ) 31. 民國 37 年，國民大會通過《動員戡亂時期臨時條款》，並宣布：「我國基於緊急危難的發生，故而決定宣布『動員戡亂』，並擴大總統職權，使總統能夠帶領國家渡過危局……。」當時政府面對的危機應該是下列何者？(A)軍閥勢力坐大 (B)日本步步侵逼 (C)全世界的經濟危機 (D)共產黨勢力坐大。

【請回答 32-33 題】

……鑑於日本在 1941 年 12 月 7 日星期日這天對我國無故進行卑鄙的攻擊，我要求國會宣布，我國與大日本帝國之間已經處於戰爭狀態……。(某國領袖於國會的演說)

- ( ) 32. 請問，要求國會對日本宣戰的會是哪位領袖？(A)美國總統羅斯福 (B)蘇聯領導史達林 (C)英國首相邱吉爾 (D)國民政府主席蔣中正。
- ( ) 33. 該領袖演說所提到的日本進行卑鄙攻擊的是指哪件事？(A)日本終止美國煤礦進口，引發商業貿易衝突 (B)日軍攻入南京，殘殺軍民行為缺乏正義 (C)日本攻擊珍珠港，破壞太平洋地區和平 (D)日本成功占領臺灣，阻礙美國勢力擴張。
- ( ) 34. 死刑存廢的議題至今在臺灣仍具爭議性，然而根據調查，多數人對於「死刑的嚇阻作用有待驗證」表示認同，請問：這代表死刑似乎無法達到哪一項刑罰目的？(A)處罰罪犯 (B)預防犯罪 (C)讓罪犯改過向善 (D)伸張正義。
- ( ) 35. 在我國的刑事訴訟中，有幾位人員扮演重要的角色與任務，小彥在上完公民課後作了以下的筆記，請問：哪一個角色的描述有錯誤？(A)書記官-法庭的紀錄者 (B)法官-刑案的偵查者 (C)檢察官-正義的起訴者 (D)律師-人權的捍衛者。
- ( ) 36. 小綺在法庭劇中看到以下的法庭配置，請問：此片段的劇情一定不是在審理哪一類的案件？(A)民事案件 (B)自訴案件 (C)告訴乃論案件 (D)公訴案件。



【請閱讀文本，回答 37-40 題】

學校的心情留言板最近有一篇新貼文：

我是小花，我的同班同學小雯(15 歲)在網路上發表貼文，說我多次在公民課考試作弊，是個不誠實的人。那篇文章被同校同學瘋狂轉發與討論，我覺得好困擾，想要告他誹謗罪，但我又不太確定應該要怎麼進行……

- ( ) 37. 請問：小雯的行為，主要傷害了何種法益？(A)個人法益 (B)社會法益 (C)國家法益 (D)不公法益
- ( ) 38. 有四位同學對小花提出了建議，請問：下列哪一項不正確？(A)可以向警察提出告訴 (B)可以委任律師向法院提起訴訟 (C)訴訟成立後就不可以撤回 (D)可以向檢察署按鈴申告。

- ( ) 39. 請問：根據公民課的所學，四位同學正在分析小雯可能會面臨的法律責任，請問：哪一項有**錯誤**？(A)刑事責任，且父母要負起連帶賠償 (B)要賠償其名譽所受之損害 (C)要負起刑事責任，但是可以調解 (D)可以道歉並刪除貼文，拜託小花撤回告訴。
- ( ) 40. 假設此案件進入訴訟程序，小雯的行為是否符合犯罪要件？(A)屬於無行為能力人，不罰 (B)屬於限制行為能力人，不處刑罰 (C)屬於限制責任能力人，得減刑 (D)屬於限制責任能力人，但心智成熟，負擔完全刑責。

【請根據以下的法庭配置圖，回答 41-44 題】



- ( ) 41. 請問：此法庭最可能正在審理何種案件？(A)銀行搶劫案件 (B)債務不履行案件 (C)損害賠償糾紛 (D)離婚監護權糾紛。
- ( ) 42. 接續上題，請問：關於此案件的背景敘述，何者正確？(A)此案件的偵查開端為被害人主動告發 (B)此案件出現檢察官，為告訴乃論 (C)此案件為告訴乃論，被害人不可以撤回告訴 (D)此案件出現檢察官，追訴方式為公訴。
- ( ) 43. 請問：本案的原告應為下列何者？(A)法官 (B)辯護律師 (C)被告 (D)檢察官。
- ( ) 44. 請問：此案件最**不可能**出現下列何種判決結果？(A)處以有期徒刑 (B)處以高額賠償 (C)宣告褫奪公權 (D)沒收犯罪所得。

【請閱讀文本，回答 45-50 題】

2022年底，李姓嫌疑犯酒駕超速撞死單親爸爸，被★★以「酒駕致死罪」起訴，而也成為北部第一起「國民法官案件」！但李姓嫌疑犯的律師團主張他已經認罪，整個事件過程的事證都已經外流，國民法官心證受到汙染，邀由國民參審並不公平。

對此檢察官則反駁，國民法官不會依照新聞內容，而是依照證據來做出決斷，且在被確定有罪之前，他都被視為清白之人，要求繼續由國民法官◎◎。

根據現行法律規定，因故意犯罪發生死亡結果的案件(如酒醉駕車致死)，就會有國民法官參與審判；而從115年起，最輕本刑10年以上有期徒刑之罪(如貪污罪)，也納入國民法官參與審判的範圍，但是排除少年刑事案件及違反毒品危害防治條例的案件。

- ( ) 45. 請問，★★在我國刑事訴訟的職權中，下列何者**不正確**？(A)調查證據 (B)作起訴書 (C)擔任法庭的原告 (D)判決有罪。

- ( ) 46. 請問，由★★提起的訴訟又稱為？(A)告訴 (B)自訴 (C)公訴 (D)告發。
- ( ) 47. 請問，◎◎應該是屬於犯罪追訴過程中的哪一階段？(A)偵查 (B)起訴 (C)審判 (D)執行。
- ( ) 48. 請問，文中畫底線的部分，是在講述哪一項原則？(A)罪刑法定原則 (B)無罪推定原則 (C)誠實信用原則 (D)契約自由原則。
- ( ) 49. 請問，根據文中的最後一段，需要國民法官審理的案件，主要應該是何種類型？(A)只能透過訴訟的非告訴乃論 (B)刑法規範中的告訴乃論之罪 (C)私人之間的財產或身分糾紛 (D)可透過調解或撤回告訴的罪。
- ( ) 50. 請問：在此刑事訴訟上，李姓嫌疑犯最不可能被判以何種制裁？(A)有期徒刑 (B)死刑 (C)褫奪公權終身 (D)賠償被害家屬。