

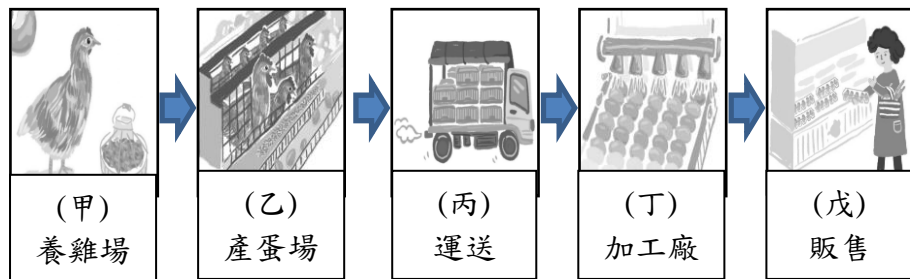
班級： 座號： 姓名：

**注意，請將各題答案以 2B 鉛筆畫於答案卡！**

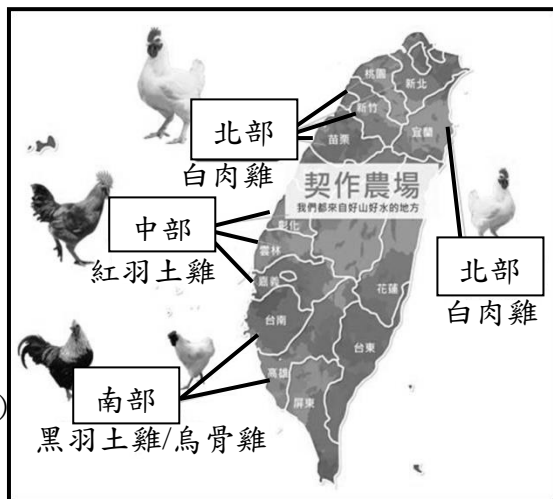
**選擇題：**每題 2 分(1-16 題為地理；17-33 題為歷史；34-50 題為公民)

※新聞一：「近兩年，臺灣雞蛋供應不足問題反覆在國內上演，這是雞蛋產業結構長期以來的問題，蛋價長期過低、蛋農多為年紀較大的小農、蛋雞籠舍設備老舊等，都是極需改善的部分。」  
新聞二：「農委會表示，除了缺蛋以外，國產白肉雞也拉警報，白肉雞特定部位雞肉今年3月底會有缺口，會盡快進口替代補足供應。」請回答1-7題：

- ( ) 1. 下圖為雞蛋產業生產的過程示意圖，請問：圖中的甲~戊，依序為三級產業中哪幾級產業？  
(A) 1、2、2、2、3 (B) 1、1、3、3、3  
(C) 1、2、3、2、3 (D) 1、1、3、2、3。



- ( ) 2. 雖然白肉雞特定部位雞肉有缺，但是某知名老店「雞肉招牌菜」未受影響，因為該店採用的雞肉品種，為當地飼養的黑羽土雞(分布如右圖)，另外再加上平地種植的經濟作物烹調而成。請問：下列哪一道菜色最可能為知名老店的「雞肉招牌菜」？  
(A) 糯米雞 (B) 小麥雞 (C) 茶燻雞 (D) 甘蔗雞。

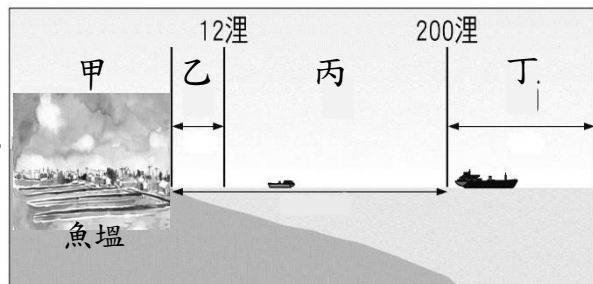


- ( ) 3. 臺灣盛產熱帶水果、溫帶水果等各種新鮮水果，是餐飲界公認發展水果菜餚的有利條件，例如苦瓜鳳梨雞湯、澄汁雞、木瓜煮雞等，這些菜餚因為也可以使用其他雞肉部位或其他品種替代，因此未受「新聞二」事件影響。請問：臺灣有如此多元的水果品項，是因為下列哪一項原因？(A) 交通革新，運輸便利 (B) 平原廣大，果園眾多 (C) 位處低緯，高山眾多 (D) 季風氣候，雨量豐沛。
- ( ) 4. 臺灣目前有 9 成的蛋雞是飼養在格子籠中，也就是俗稱的「籠飼」，蛋農將 2~4 隻母雞飼養在只有 A4 紙張大小的籠子裡，雞籠彼此相連如一個個的格子，母雞無法跑跳、展翅梳理羽毛，更常常因互相踩踏、打鬥而死亡，使母雞身心不健康，增加食安風險，故近年來政府鼓勵蛋農轉型成友善生產系統。請問臺灣多採「籠飼」方式養雞，跟下列哪項原因有關？  
(A) 氣候濕潤 (B) 地狹人稠  
(C) 畜牧業不發達 (D) 人口老化、人力不足。
- ( ) 5. 根據「新聞一」內容，下列關於現今蛋雞產業的相關敘述，何者較為正確？(A) 臺灣蛋雞產業屬於酪農業的一種 (B) 蛋雞產業較沒有人口老化的問題 (C) 蛋雞產業以欄牧的方式來飼養雞隻 (D) 蛋雞產業因為氣候溼熱，無法採用專業化與商業化經營。

- ( ) 6. 在養雞場附近可看見一大片綠油油的稻田，當地的種田阿伯說到：「我所種植的範圍不大，但為了能提高稻米的產量，聘請很多人來耕作，希望今年有不錯的收成。」根據上述內容判斷，臺灣的農業具有下列哪一項特色？  
(A) 農作物總產量高 (B) 單位面積產量高  
(C) 只種植糧食作物 (D) 投入勞力程度低。
- ( ) 7. 「養雞場利用雞糞與其他廢棄物進行沼氣發電，同時還可向附近的農民提供液態的肥料，除了減少自己的用電成本，還可創造更多其他收入。」請問：關於以上畜牧業轉型的案例，與下列哪一個畜牧業轉型的敘述最為類似？(A) 將畜牧業結合其他產業，如結合生態教學與經營休閒農場 (B) 結合產、官、學資源，如民間業者和農委會共同培育出桂丁雞 (C) 利用新型態的方式管理畜牧業，如電腦控溫、自動給料等 (D) 為保護臺灣畜牧業，積極管控相關威脅，如防範非洲豬瘟侵臺。

※附圖為漁業類型示意圖，請根據附圖回答 8~9 題：

- ( ) 8. 網路特別報導：「臺灣過度發展陸上魚塢養殖，是造成西部沿海地區地層下陷原因之一，因此發展海上箱網養殖成為改善地層下陷情況、再創產業榮景，進而永續經營的途徑之一。此外，箱網養殖兼具聚集魚群的效果，對目前沿岸漁業資源枯竭，漁船閒置，漁村經濟蕭條的現象，提供正面助力……。」請問：根據上述內容判斷，箱網養殖聚集魚群的效果，可提供附圖中何處漁業正面助力？  
(A) 甲 (B) 乙 (C) 丙 (D) 丁。
- ( ) 9. 「戰浪」是由公共電視製作的紀錄片，片中紀錄：「臺東縣成功鎮的一群近海漁業漁民，堅持使用傳統鏢旗魚漁法，當旗魚浮到海面上層，漁船上鏢槍手抓準時機下鏢捕魚，那是驚險又刺激的一刻！」請問：該漁業主要分布於附圖中何處？(A) 甲 (B) 乙 (C) 丙 (D) 丁。



- ※自 2023 年 5 月 1 日起，「嚴重特殊傳染性肺炎 (COVID-19)」將調整為第四類傳染病。回顧疫情爆發初期，中央政府率領地方產業成立防疫民生用品「口罩國家隊」，從「一罩難求」到供需無虞，最終還有餘力進行「口罩外交」。隨後各種防疫國家隊也開始組建，例如：與醫療科技相關、投入大量研發資金的「防護衣國家隊」，與生醫科技相關、技術門檻較高的「疫苗國家隊」等，同時中央政府運用相關經驗，視其他產業特色與規模，也開始組建各種產業國家隊，例如：2021 年組建投資規模大以及需大型機具的「興建離岸風電國家隊」、2023 年壯大「太空國家隊」等。此外也持續鼓勵老舊荒廢的工廠轉型，例如：「台灣鋁業」的煉鋁工廠。請根據上述內容，回答 10~14 題：
- ( ) 10. 下列哪一個國家隊屬於重工業類型？  
(A) 口罩國家隊 (B) 疫苗國家隊  
(C) 防護衣國家隊 (D) 興建離岸風電國家隊。
- ( ) 11. 國家太空中心總部位於新竹科學園區內、國立陽明交通大學旁，除了和該大學進行產教合作、人才培育壯大國家隊外，中央政府也預計 10 年內投入 251 億元並在該園區設置研發廠，也給予民間企業降低稅金等優惠，邀請各大企業攜手合作，共同打造強韌的「太空產業國家隊」。該問：該研發廠設廠所考量的工業區位條件為何？(A) 政策、交通 (B) 交通、勞力 (C) 勞力、政策 (D) 原料、勞力。

- ( ) 12. 政府鼓勵老舊荒廢的工廠轉型，像「台灣鋁業」的煉鋁工廠，現在的經營者便將其轉型為兼具書屋、影城、菜市場和美食餐飲的「MLD 台鋁生活廣場」。請問：「台灣鋁業」產業類型如何轉變？
- (A)由第一級產業為主轉變為第二級產業  
(B)由第一級產業為主轉變為第三級產業  
(C)由第二級產業為主轉變為第一級產業  
(D)由第二級產業為主轉變為第三級產業。
- ( ) 13. 鋁被稱為「萬能金屬」，電解爐是提煉初鋁的重要設備。某位煉鋁廠員工提到：「那年颱風來襲，台電的變電鐵塔被吹倒一百多座，無法供電，沒有電，爐子無法運轉使爐溫下降，爐裡的鋁湯會漸漸凝固，那麼多爐子就報廢了。」根據上文判斷，煉鋁工廠的設置最先考量的是哪一項工業區位條件？
- (A)動力 (B)勞力 (C)原料 (D)市場。
- ( ) 14. 煉鋁業製品在生活周遭的應用非常多，小到鋁罐、鋁箔紙，大到輪船構件、造船廠帷幕牆、隔音牆，都可以看見其實用性，因此鋁製品在不同的工業發展歷程皆扮演著重要角色。下列附圖依臺灣工業發展歷程，從早期到近期時間排列順序為何？(A)甲→乙→丙 (B)乙→丙→甲 (C)丙→甲→乙 (D)乙→甲→丙。



※附圖為臺灣 2023 年 3 月工業進出口貿易總額及部分工業產品、製品進出口貿易額。請依據附圖資料回答 15~16 題：

2023年03月出口總額		2023年03月進口總額	
352.0億美元		309.8億美元	
47.7 億美元 資通與資訊產品	24.9 億美元 基本金屬製品	20.6 億美元 資通與資訊產品	22.3 億美元 基本金屬製品
12.1 億美元 礦產品	17.9 億美元 塑橡膠製品	48.6 億美元 礦產品	7.9 億美元 塑橡膠製品

- ( ) 15. 2023 年 3 月哪一項工業產品、製品貿易結果呈現「入超」？(A)礦產品 (B)塑橡膠製品 (C)基本金屬製品 (D)資通與資訊產品。
- ( ) 16. 根據附圖資料判斷，下列有關 2023 年 3 月貿易結果敘述何者正確？(A)臺灣自然資產缺乏，故進口礦產品較多 (B)因為國內市場有限，產品、製品仰賴出口，該月以出口塑橡膠製品最多 (C)該月進出口貿易總額最高為礦產品 (D)國際貿易進出口總額占國內生產毛額 94 % 以上。
- ( ) 17. 以下是台灣歷史上某位人物事蹟，根據內容推論，下列何者亦為此人的相關事蹟？

- 一、成立台中中學校(台中一中前身)
- 二、發起台灣議會設置請願運動
- 三、擔任台灣文化協會總理
- 四、成立台灣地方自治聯盟

以上是 (A)創辦《美麗島雜誌》 (B)擔任《台灣民報》社長 (C)創辦《自由中國》雜誌 (D)擔任台北帝國大學校長。

- ( ) 18. 台灣某時期將學童教育分為小學校、公學校、蕃人公學校，主要的原因是？(A)貫徹差別待遇隔離政策 (B)推動皇民化運動 (C)實施六年義務教育 (D)提升台灣文化之向上。
- ( ) 19. 台灣日治時期恰逢世界劇變，工業革命帶來嶄新的生活樣貌，日本政府將新的文化習慣帶來台灣，關於台灣清領與日治的文化社會變遷敘述，何者錯誤？

	清領	日治
(A)習慣	放足斷髮	薙髮留辮
(B)火車	基隆到新竹	縱貫、宜蘭、台東縣
(C)司法	衙門	法院
(D)醫院	全台第一間西醫院	西醫院林立，漸取代中醫

- ( ) 20. 日治時期的台灣漢人放棄武裝抗日，開始熱衷於參與政治社會運動，興起的背景與何敘述最無關？(A)西來庵事件死傷慘重 (B)一戰後美國總統提出民族自決 (C)日本政府實施內地延長政策 (D)改派武官總督鎮壓台人。
- ( ) 21. 有關《戒嚴令》的敘述，何者錯誤？(A)防止共產思想滲透 (B)總統因此得以連選連任 (C)限制人民的言論、出版、集會、結社等自由 (D)直至民國76年才被廢除。
- ( ) 22. 「沈鎮南是留美製糖專家，戰後他奉政府命令來台接收糖業，擔任台灣糖業公司第一任總經理。民國40年，他被指控聯繫、資助中國共產黨而遭到槍決。後來於民國91年獲得平反，恢復名譽。」此段文章應該與何事最相關？(A)天下第一愁，種甘蔗給會社磅 (B)白色恐怖 (C)美麗島事件 (D)黨外運動。
- ( ) 23. 多多整理「台灣民主大事記」，哪個選項錯了？(A)台灣第一次選舉是民國39年實施地方自治開始 (B)蔣中正總統時發生雷震事件 (C)蔣經國總統時解除戒嚴 (D)李登輝總統當選第一任人民直選總統。
- ( ) 24. 這個時期，台灣省行政長官用中、日文字發布文告，其目的在於「確保治安」。內容提及：「私藏武器而不交的，自然是亂黨叛徒，一經查出，即將嚴厲制裁」；而看到「惡人」，必須「立即檢舉、密報」，「若敢窩藏亂黨叛徒，匿而不報」，經查證「即與亂黨叛徒同罪」。此文告發布的背景與下列何事件有關？(A)皇民化運動 (B)霧社事件 (C)二二八事件 (D)美麗島事件。
- ( ) 25. 政府因應「戰爭」的發展，陸續調整台灣的教育政策：
  - 台灣開始與日本國內同步，採行以培育皇民為目標的《國民學校令》，學校一律改稱「國民學校」。
  - 總督府啟動六年義務教育，屆齡學童強制接受義務教育。
 上文中的「戰爭」指的是下列何者？(A)甲午戰爭 (B)一次大戰 (C)中日戰爭 (D)國共內戰。
- ( ) 26. 「抵達後已經 11 點多了。到菊元百貨店，由升降機上四層樓食堂，來這裡吃午餐的人，無分貴賤男女。鄰桌有幾位帝國大學的師生，在談論學校的趣事。又登六層樓上，俯視市街雖廣廈，層樓都成小山丘，即總督之官邸亦不見其崇高矣。……」上述內容應是描述哪個時期的情景？(A)1880 年代的台北 (B)1910 年代的台南 (C)1930 年代的台北 (D)1950 年代的台南。

第 2 頁，尚有試題

- ( ) 27. 1990年3月，來自全台各地的大學生在中正紀念堂廣場聚集、靜坐，表達對現行政治體制的不滿。這是中華民國政府遷台後發生的大規模學生抗議運動，這場社會運動展現了學生對於政治的影響力，也是台灣民主政治發展過程一個重要的里程碑。當時學生提出的訴求是？(A)廢除《戒嚴令》(B)要求成立台灣議會 (C)爭取地方自治權 (D)廢除《動員戡亂時期臨時條款》。
- ( ) 28. 林獻堂與蔣渭水這兩位歷史人物有什麼共同點？(A)建立台灣民主國，對抗日本政府 (B)合法組織政黨，參選台灣總督 (C)參加二二八事件處理委員會，安撫民心 (D)參與政治運動，爭取人民的權益。
- ( ) 29. 台灣在民國40、50年代時在街上隨處可見標語「保密防諜人人有責」「小心匪諜就在你身邊」「發現匪諜，馬上檢舉」。請問：此處的匪諜指的是？(A)土匪與間諜 (B)共產黨的間諜 (C)日本留在臺灣的間諜 (D)反政府的黨外間諜。
- ( ) 30. 下表為日治時期某一年台灣的教育狀況，從表中可看出當時的教育情形為何？

項目	基礎教育		中等學校學生數	專門學校學生數	高等教育學生數
	學生數	學齡兒童就學率			
日本人	23,711人	98.2%	477人	6,856人	220人
臺灣人	210,727人	28.4%	251人	4,642人	28人

(A)台人基礎教育較日人更為普及 (B)政府鼓勵學生升學以中等學校優先 (C)除基礎教育外，日人人數皆多於台人，明顯數據錯誤 (D)台人基礎教育就學率低且升學不易。

根據表格與文章回答 31~33 題：

年分	生產量	年分	生產量
1937	1402414	1945	638828
1938	1307391	1946	894021
1939	1128784	1947	999012
1940	1199006	1948	1068421
1941	1171182	1949	1214523
1942	1125804	1950	1421486
1943	1068121	單位:公噸	

上表為 1938~1950 年全台稻米生產量的統計，從 1945 年起，政府為解決糧荒的問題而擬定多項措施，其中以 1946~1950 年的「五年糧食增產計畫」最具成果。然而 1946 年，△△陳儀實施「糧食徵調政策」，將糧食輸送至中國，引起台灣物價飆漲、民眾恐慌。林獻堂甚至預言「若不及早設法，恐有暴動之虞」，這些亂象直到 1949 年□□陳誠以島內供應為優先考量，才獲得解決。

- ( ) 31. 根據表中的資料分析，1945年以前稻米生產量的變化最可能與下列何者有關？(A)受到中日戰爭衝擊，人力物力短缺 (B)因國共內戰的影響，糧食供應戰地使用 (C)嘉南大圳完工，灌溉工程發揮增產作用 (D)茶葉外銷成功，農民轉種經濟作物。

- ( ) 32. 根據上文，關於「糧食徵調政策」的實施，下列何者正確？(A)與政府大力推行皇民化運動有關 (B)台灣稻米大量供應日本當地需求 (C)該政策為二二八事件發生背景之一 (D)該政策推行時國民政府已遷至台灣。
- ( ) 33. △△與□□應填入何官職？(A)台灣省行政長官公署、台灣省主席 (B)台灣省巡撫、台灣總督 (C)台灣總督、台灣省行政長官公署 (D)台灣省主席、台灣省巡撫。
- ( ) 34. 阿發這學期轉到新學校，成為(甲)多多國中 715 班的一員。阿發和新同學相處得很融洽，(乙)假日常一起出去玩。最近他還代表班上參加(丙)班際排球比賽得到第三名。之後要段考了，同學們也邀請阿發加入(丁)讀書會，利用放學時間一起複習、準備考試。請問：上述粗體雙底線中有幾個是「團體」？(A)1 個 (B)2 個 (C)3 個 (D)4 個。
- ( ) 35. 近來不斷傳出非法集團招攬國人至柬埔寨等國家，從事性剝削、勞力剝削、詐欺，甚至是摘除器官的事件，因此我國政府打算修改某條法律，希望加強處罰密度，抑制非法集團擴張勢力，同時加重處罰和增加沒收的範圍，藉此徹底剝奪非法集團不法所得。請問：上述某條法律指的是下列何者？(A)《組織犯罪防制條例》(B)《集會遊行法》(C)《中華民國憲法》(D)《人民團體法》。

- ( ) 36. 下表是近 4 個月 多多市施政滿意度的民意調查結果。請問：此份民意調查結果可以突顯公共意見有何項特性？(A)公開性 (B)影響性 (C)差異性 (D)不穩定性。

時間	滿意度
2023年1月	60%
2023年2月	40%
2023年3月	50%
2023年4月	75%

- ( ) 37. 在我國社會人民可以依據個人意願自由加入志願團體，請問：右方的選項中有哪些是「志願團體」？(A)甲乙 (B)甲丙 (C)乙丙 (D)乙丁。



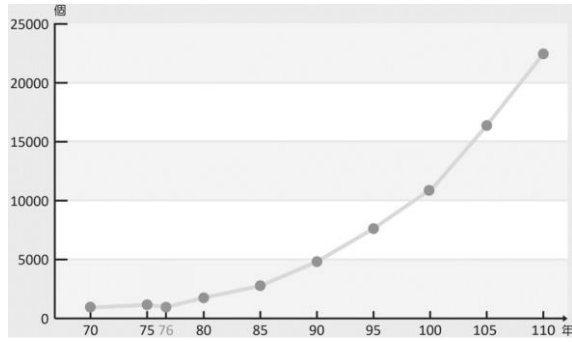
- ( ) 38. 現今社會中，傳播媒體的形式越來越多元，而接收傳播媒體提供訊息的對象稱為閱聽人。請問：下列選項中有幾位是閱聽人？

甲、在房間用手機看 Youtube 旅遊影片的 千佳  
乙、在民眾抗議現場播報最新情形的記者 來順  
丙、閱讀報紙頭版了解今日國內外大事的 博文  
丁、利用假日悠閒的午後時光收看韓劇的 阿春

- (A)1 位 (B)2 位 (C)3 位 (D)4 位。
- ( ) 39. 民主、法治的社會中民眾可以自由地公開表達公共意見，但仍應秉持和平、理性、非暴力的方式。請問：以下 4 位國中生表達公共意見的方式，何者較符合上述原則且適合國中生？(A)歡歡：馬路凹凸不停，我要寫信到市府信箱投訴 (B)爆哥：物價一直漲，真氣人，我要開車撞行政院 (C)瑜瑜：市長那麼爛，我要求他下台，否則暗殺他 (D)雄仔：我打算參與明年的選舉，成為總統候選人。

( )40. 下圖是內政部統計我國歷年志願團體的數量。

請問：下列  
選項何者  
對此圖的  
說明完全  
正確？



- (A) 志願團體增加說明民眾集會自由受到保障
- (B) 民眾參與公共事務，展現公民社會的力量
- (C) 志願結社能蓬勃發展是因為政府實施戒嚴
- (D) 民眾的結社自由受到政府越來越多的限制。

( )41. 計程車司機遭到乘客毆打、恐嚇辱罵的案件層出不窮，日前中華民國計程車駕駛員工會全國聯合會與其他5個工會團體共同召開「拒絕暴力威脅，還我職場安全」記者會，他們提出修法讓司機裝壓克力防護板且由政府補助、簡化報案流程、事後協助求償及法務諮詢……等訴求，希望政府單位能給計程車司機更多協助。請問：下列選項對上文中團體的說明，何者正確？

- (A) 本次行動是要凝聚成員間感情
- (B) 團體中的成員主要由資方組成
- (C) 希望藉此行動改善勞工的權益
- (D) 透過上街遊行表達成員的意見。

( )42. 羅慧夫顱顏基金會是長期關注唇顎裂、小耳症……等其他先天顱顏缺陷患者權益的民間團體，除了提供先天顱顏缺陷患者醫療資訊、費用補助，以及心理輔導等服務，也透過到學校說故事、戲劇巡演讓各界認識唇顎裂、小耳症。基金會在網站上也設有捐款贊助和微笑小舖義賣專區，希望可以幫助更多先天顱顏缺陷患者。請問：上文中該團體的經費來源及運用方式可以突顯該團體具備何項特性？

- (A) 非營利性 (B) 自主性 (C) 民間性 (D) 組織性。

( )43. 2021年獨立媒體報導者揭露彰化的中州科技大學爆發烏干達血汗學工醜聞之後，除了有檢調單位調查是否涉及人口販運、強迫勞動，同時也引起教育部及民眾關注各級學校是否也有招募外籍生卻罔顧受教權益的事情發生。請問：上文中的媒體正是發揮何項功能？

- (A) 提供休閒娛樂 (B) 匯集民眾意見
- (C) 傳遞刻板印象 (D) 監督政府施政。

( )44. 老師上完「團體與志願結社」後，班上的同學們正在討論上課的內容。請問：以下是4位國中生發表的想法，哪一位的想法與老師上課的內容較符合？

- (A) 淵哥：必須有公民身分才能參加志願團體
- (B) 阿儒：走上街頭遊行也是參加團體的方式
- (C) 小羽：我可以現在就加入政黨，成為黨員
- (D) 靜靜：在團體中，可以學習與不同人合作。

#### 【請回答45-46題】

三立台灣台及三立戲劇台111年3月28日播出「一家團圓」的戲劇節目雖標示「普遍級」，但內容卻反覆出現言語及肢體暴力、性侵未遂、羞辱凌虐和妨礙行動自由……等情節。而且節目中具體描述施虐的手法，容易造成兒童及少年模仿，甚至形塑錯誤的價值觀，錯認可以使用暴力解決糾紛。因此某單位以妨害兒少身心健康及違反節目分級為由，對兩頻道各罰60萬元。

( )45. 請問：上文中的某單位是指下列何者？

- (A) 台灣事實查核中心 (B) 台灣媒體觀察教育基金會
- (C) 國家通訊傳播委員會 (D) 公共政策網路參與平台。

( )46. 請問：下列選項中，何者較能說明上文的內容？

- (A) 閱聽人可以自行製播節目
- (B) 閱聽人具備媒體識讀能力
- (C) 媒體未善盡事實查證義務
- (D) 戲劇節目未發揮媒體自律。

#### 【請回答47-48題】

日前時代雜誌(TIME)公布2023年百大最具影響力人物名單(TIME 100)，其中「四通橋勇士」彭立發也上榜。

2022年10月網名「彭載舟」的彭立發在中共二十大舉行前夕將寫有「罷課罷工罷免獨裁國賊習近平」和「不要核酸要吃飯、不要封控要自由、不要謊言要尊嚴、不要文革要改革、不要領袖要選票、不做奴才做公民」的布條掛在北京的四通橋並用擴音器播放口號，藉此批評中國政府以及對2019年Covid-19疫情以來施行「動態清零」政策的不滿。

據傳彭立發後來被中國政府逮捕，目前下落不明。中國政府雖然利用網路審查將相關內容下架、封鎖民眾社群平台帳號，但彭立發孤身一人發起的行動仍引起廣大迴響，甚至2022年11月引發擴及全中國及海外的「白紙運動」。而中國政府最終也在同年12月停止「清零政策」。

( )47. 請問：根據上文，彭立發主要是透過下列何種方式表達公共意見？

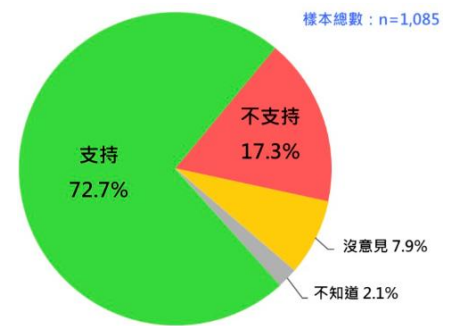
- (A) 開記者會 (B) 上街抗議
- (C) 組成政黨 (D) 民意調查。

( )48. 下列選項分別說明上文中彭立發的行為，請問：何者的說明完全正確？

- (A) 透過參加團體擴大個人的影響力
- (B) 以暴力表達公共意見、傷及無辜
- (C) 希望藉此影響與監督政府的施政
- (D) 吸引群眾目光、增加自身的財富。

#### 【請回答49-50題】

日前政府宣布自2024年起，年滿18歲、民國94年次以後出生的役男，義務役期將從4個月恢復為1年。台灣民意基金會在2023年1月以「近三年來，中共武力犯台受到國內外關切。兩個禮拜前(2022/12/27)蔡英文總統宣布將兵役延長為一年。請問您支不支持此項政策？」為題進行民意調查，調查結果如右圖。



( )49. 請問：下列選項何者對上述調查結果的說明正確？

- (A) 全國所有民眾都支持兵役延長
- (B) 大約有7成3民眾反對兵役延長
- (C) 多數民眾對兵役延長沒有意見
- (D) 僅極少數民眾不知道兵役延長。

( )50. 請問：上文及附圖可以突顯公共意見具有何項特性？

- (A) 差異性 (B) 公開性 (C) 不穩定性 (D) 影響性。

第 4 頁，試題結束！