

**注意，請將各題答案以 2B 鉛筆畫於答案卡！**

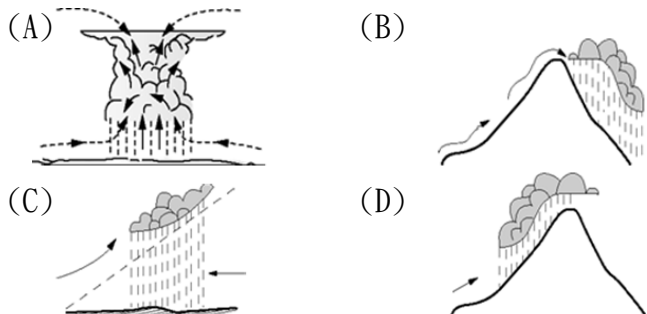
選擇題：每題 2 分(1-17 題為地理；18-33 題為歷史；34 至 50 題為公民)

( ) 1. 某網路新聞台播報一則與自然災害相關的新聞時，在播報過程中還附上了該自然災害的形成原因示意圖(如右圖)。請問：該網路新聞台最可能在播報下列哪一則新聞？



(A) 位於印尼的默拉皮火山，2010 年猛烈噴發，造成數百人死亡，數萬名當地村民流離失所 (B) 印尼森林大火燒不停，估計有超過數十萬人受到霾害影響 (C) 超級颱風「雷伊」直撲菲律賓南部，當地有將近 10 萬人緊急撤離 (D) 南亞居民在乾燥地區過度開發，導致土壤鹽鹼化，使得作物、植物難以生長。

( ) 2. 某旅遊雜誌介紹：「東印度群島的降雨是很特別的，來得突然，去得也突然。這種大驟雨配合著熱帶的強烈炎日，使各地植物欣欣向榮，密林遍布，一片翠綠；然而當驟雨來臨，土壤便迅速變成紅色，翠綠配上紅色，產生一種強烈對比的美，這也是東印度群島獨特的自然景觀之一。」請問：這種獨特的降水類型和下列何圖所示相符？



( ) 3. 由於地理位置的關係，東南亞自古即是不同文化接觸的地區，再加上受昔日殖民歷史影響，人文景觀呈現多元特色，附圖為旅行社所製作的特色介紹。請問：下列附圖中哪些是因為殖民的影響所形成的特色？

(A) 甲乙 (B) 乙丙 (C) 丙丁 (D) 乙丁。

東南亞文化特色介紹：

- (甲) 泰國茉莉香米獨特的斑蘭葉香味享譽世界，是世界上最大宗的出口大米品種之一。
- (乙) 官方語言為英語的菲律賓，目前正迅速成為世界上英語教育強國之一。
- (丙) 港埠型都市新加坡即將打造全球最大的自動化貨櫃碼頭，也成為港口競爭新指標。
- (丁) 馬來西亞人主要信奉伊斯蘭教，在齋戒月晚上最愛訂購食品外送，「食」力驚人。

( ) 4. 臺灣知名餐廳鼎泰豐開設某海外分店時，為了符合穆斯林不吃豬肉的飲食習慣及申請當地的清真食品認證，就把其招牌菜小籠包換成雞肉餡。請問：該海外分店最可能位在圖中何處？



鼎泰豐海外分店分布圖

( ) 5. 第一次世界大戰爆發後，有不少日本人前往東南亞的馬來半島(現屬馬來西亞)、婆羅洲和印尼，栽種橡膠、椰子等作物。請問日本人在東南亞經營的農園，主要所從事的農業類型，具有下列哪一項特徵？(A) 粗放式、機械化 (B) 價格易受國際市場波動影響 (C) 自給性大規模耕作 (D) 農園內糧食作物、經濟作物混合栽種。

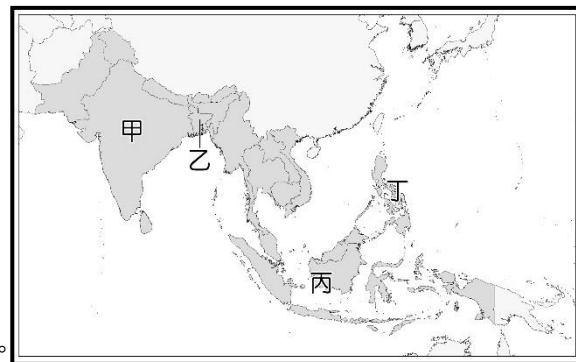
( ) 6. 全世界共有 8 個主權國家已經成功試爆核武器，其中五個擁有核武器的國家：美國、俄羅斯、英國、法國、中國已簽定《不擴散核武器條約》，但印度、巴基斯坦、北韓則拒絕簽定，其中印度、巴基斯坦因為彼此衝突激烈拒絕簽定。請問：印度、巴基斯坦衝突的原因，下列哪一項最正確？(A) 兩國在種姓制度的階級不同 (B) 兩國在喀什米爾有主權糾紛 (C) 主要信仰分別為印度教、佛教 (D) 兩國爭奪恆河水資源。

( ) 7. 政府推動「新南向政策」，第一波將菲律賓、越南、印尼、馬來西亞、泰國、印度等六國列為重點國家，若行政部門想製作新南向六國皆具備的「共通點」宣傳圖供臺商參考，內容包括各國基本概況、發展優勢、產業動向等資料。請問：下列哪一張宣傳圖內容最符合？

- |   |  |
|---|--|
| (A) * 六國經濟高度發展<br>* 全球金融產業發展中心<br>* 老年人口眾多，銀髮服務商機廣大     | (B) * 基礎建設充足完善<br>* 高科技人才充沛，研發能力卓越<br>* 地處大西洋、太平洋交會，位置優越 |
| (C) * 充足且相對便宜的勞工<br>* 當地政府提供多項優惠政策<br>* 人口總數多，內需市場廣大具潛力 | (D) * 文化與臺灣相近，溝通零障礙<br>* 皆屬東南亞國協的會員國<br>* 油氣資源豐富，工業動力充沛  |

◎【請回答 8-10 題】

自然災害風險指數為聯合國提出可衡量各國遭受地震等自然災害的狀況，若指數在 0~7 之間表示風險較小，超過 7 則為自然災害高風險地區。2016 年，東南亞和南亞自然災害風險指數最高的國家，分別是孟加拉的 19 和菲律賓的 27。



- ( ) 8. 上述兩個國家位於圖中何處？(A) 甲乙 (B) 丙丁 (C) 甲丙 (D) 乙丁。
- ( ) 9. 孟加拉的自然災害風險指數高，主要來自於水災頻仍，其易產生水患的原因為何？(甲) 四周環海 (乙) 地勢低平 (丙) 西南季風夾帶豐富水氣 (丁) 東北季風形成大量地形雨 (A) 甲乙 (B) 乙丙 (C) 丙丁 (D) 甲丁。
- ( ) 10. 承上題，孟加拉下游地區雨季期間的水患愈來愈嚴重，以往乾燥的農地被水淹沒，當地農民幾乎無法耕種，紛紛改用 200 多年前，在雨季期間的古老耕作法，把原本被視為雜草的布袋蓮，編織成漂浮農地，在水面上人工打造出可以種植蔬菜的「漂浮農場」。請問：「漂浮農場」最可能出現在下列哪一個月份？(A) 2 月 (B) 4 月 (C) 8 月 (D) 12 月。

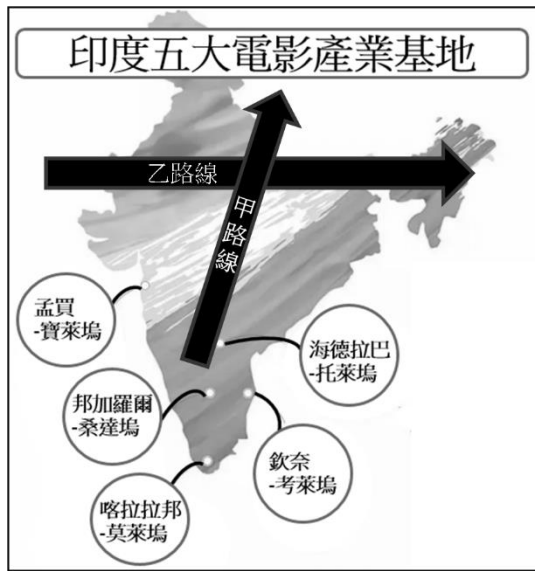
◎【請回答 11-14 題】

研究報告指出：「世界上超過1/4的海洋塑膠垃圾，可能只來自10條河流，而這其中有8條在亞洲，包括南亞的恆河、印度河和東南亞的湄公河等。」請依據上文回答下列問題：

- ( ) 11. 在1998年的一場水災，恆河三角洲將近2/3的土地泡在水裡近兩個月，而大水遲遲不退的原因就是水道塞滿了塑膠袋。於是在2001年底，當地政府宣布禁用市面上最常見的薄塑膠袋，並決定使用當地栽種生產的天然纖維，作為薄塑膠袋的替代品。請問：當地栽種生產的天然纖維，為下列哪一種經濟作物？  
(A)水稻 (B)茶葉 (C)棉花 (D)黃麻。
- ( ) 12. 中國在「某地」興建11座大壩攔截了中南半島湄公河上游的河水，引發下游國家遭逢缺水乾旱，更導致塑膠垃圾大量暴露在下流河床上，造成當地更嚴重的危害。請問：上文中「某地」指的是下列哪一個地形區？(A)雲貴高原 (B)青藏高原 (C)橫斷山脈 (D)喜馬拉雅山。
- ( ) 13. 承上題，中國興建11座大壩影響下游國家，下列哪一個國家是受害國家之一？  
(A)寮國 (B)印尼 (C)印度 (D)菲律賓。
- ( ) 14. 恆河、印度河和湄公河的塑膠垃圾非常多，最可能是下列哪一項共同原因所造成？(A)皆信仰印度教為主，進行相關祭祀活動所產生 (B)皆種植水稻為主，米類食品大量使用塑膠製品包裝所造成 (C)皆深受中國飲食文化影響，使用大量塑膠食品器具並隨意丟棄 (D)皆流經人口較多的地區，大量人類活動所導致而成。

◎【請回答 15-17 題】

天下雜誌：「生活中充滿戲劇感的場景，給了印度人拍電影特別多的啟發。」目前印度主要的電影產業基地有五個，其分布如右圖。請問：



- ( ) 15. 某印度電影沿著附圖的甲路線，按照當地地形地貌取景拍攝，並按照此拍攝路線，依先後順序將地形地貌放入電影場景中。請問：該部電影從頭到尾的地形場景變化下列何者正確？  
(A)高原→平原→山地 (B)山地→平原→高原  
(C)平原→高原→山地 (D)高原→山地→平原。
- ( ) 16. 某印度電影沿著附圖的乙路線，按照當地現實生活取景拍攝，電影前半段可發現居民以小麥、雜糧為主食，喜歡食用一種「恰巴提」的薄麵餅，到電影後半段居民則以米食為主，愛吃炒飯、手抓飯。請問：電影中印度各地不同的飲食習慣與下列哪一地理事實最相關？  
(A)南北地形的起伏 (B)各地氣溫的高低  
(C)宗教信仰的差異 (D)降水空間的分布。
- ( ) 17. 「在全球化的趨勢下，我知道有很多工作會被他國的便宜勞工給搶走，但從來沒想過連特效、動畫科技工程師也會被外包……面對『印度矽谷』電影產業基地的外包工程師競爭，我不知道自己的工作還可以持續多久。」以上是美國好萊塢某工程師的日記內容。請問：文中提到的外包工程師最可能來自於哪個電影產業基地？  
(A)寶萊塢 (B)桑達塢 (C)莫萊塢 (D)托萊塢。

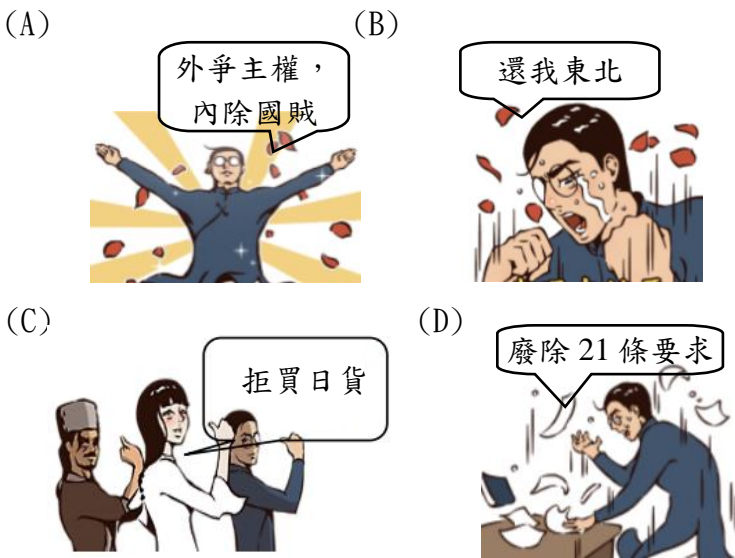
- ( ) 18. 民國成立以後，政治、社會仍舊動盪不安，新知識份子提出或引進各種學說，尋求解決辦法，他們認為自清代晚期到民國，經過了自強運動、戊戌變法、立憲、革命等等，還有一個重要的關鍵沒有改到，請問這個重要的關鍵是？(A)血統 (B)制度 (C)思想文化 (D)器物。
- ( ) 19. 民國初年，在日本以「帝國政府將執行必要之手段」脅迫下，政府只能同意日本提出的「二十一條要求」大部分條款，消息傳出，舉國震怒。上述事件被稱為？  
(A)保路運動 (B)五九國恥 (C)二次革命 (D)五四運動。
- ( ) 20. 當學生最期待的就是放假了，尤其是連續假期，許多節日的產生又與歷史事件息息相關，熟悉歷史便能知道節日的意義。下列有關青年節、國慶日與元旦的敘述，何者正確？  
(A)1/1 開國紀念日是指武昌起義終於推翻了清朝  
(B)3/29 青年節的由來是紀念武昌起義犧牲的年輕人  
(C)10/10國慶日是為紀念二次革命終於推翻專制政體  
(D)以上三大節日都和革命行動有關。
- ( ) 21. 3/12 是紀念孫中山逝世的植樹節，為了拉近與青年學生的距離，主辦單位推出孫中山的表情包與隨手拍等活動。請問下列何者與孫中山相關？(A)受日俄戰爭的刺激，決定展開革命運動 (B)是中華民國第一任臨時大總統 (C)與日本周旋談判後，接受「二十一條要求」 (D)不滿段祺瑞參加一次世界大戰，號召發起五四運動。
- ( ) 22. 民國4年，梁啟超在報紙發表文章，不滿當時的總統企圖變更國家體制，並力勸他不要做共和的破壞者。請問：當時梁啟超投書報紙的背景為何？  
(A)滿清退位，孫中山出任中華民國臨時大總統  
(B)袁世凱製造輿論，鼓吹恢復皇帝制度  
(C)國民黨人組織反袁世凱勢力，發起二次革命  
(D)段祺瑞不顧總統反對，堅持參加第一次世界大戰。
- ( ) 23. 阿倫在書上看到一段文字：「此時期中國各地皆有軍事將領掌控權力，不但依附列強勢力，還不斷擴大自身軍備，透過武力來解決政治紛爭。」請問，下列關於該時期政治局勢的描述何者正確？(A)保路運動造成各地革命勢力興起 (B)二次革命爆發引發政黨相互競爭 (C)混戰的主因是因孫中山去世，各地將領趁機擴張權勢 (D)軍閥常與列強合作，形成地方割據局面。
- ( ) 24. 袁世凱去世時，在告別式上有人送來一幅對聯形式的輓聯，上聯是「袁世凱」，下聯是「中華民國」；旁人問為何上下聯字數對不起來，那人只是冷冷的回答：「袁世凱本來就對不起中華民國」；袁世凱一生的功過極具爭議，請問下列敘述哪一個和袁世凱無關？  
(A)逼迫溥儀退位，清朝滅亡 (B)毀棄臨時約法，擴大總統權力 (C)民國建立後，創建國民黨 (D)推動洪憲帝制，建中華帝國。
- ( ) 25. 小彥在歷史資料看到「只有『德先生』和『賽先生』這兩位先生，可以救治中國政治上、道德上、學術上、思想上一切的黑暗……」的敘述，他不解其意。請問資料中提到的『德先生』與『賽先生』分別代表什麼？  
(A)三民主義與共產主義 (B)民主與專制 (C)文學與科學 (D)民主與科學。
- ( ) 26. 關於民初幾位重要人物及其事蹟配對，下列何者正確？  
(A)胡適—著有〈文學改良芻議〉，鼓勵以外國文創作  
(B)陳獨秀—創《新青年》，引進西方思潮  
(C)胡適—著有《差不多先生》，第一本白話文小說  
(D)陳獨秀—北京大學校長，提倡自由學風。

- ( )27. 中華民國雖然建立了，並未帶來和平與繁榮，反而帶來動盪不安。當時的新知識分子，紛紛鼓吹大量輸入西方文化作為改善的方法。請問下列敘述何者正確？  
 (A)新知識分子批評傳統的「男女授受不親」，學校、公司開始有女同學、女同事 (B)學童們為了改善國家積弱不振，努力進入私塾學習知識，以求「復興傳統」  
 (C)軍閥透過平時不斷武力衝突，提升中國對外國力和戰鬥力 (D)民主思想傳入，使得溥儀的政權更加穩固。
- ( )28. 魯迅在小說〈狂人日記〉中描寫一個患有迫害狂的精神病患的心理活動，將其對社會生活的清醒描寫和對狂人特有的內心感受揉雜在一起。小說中寫道：「……歪歪斜斜的每頁上寫著『仁義道德』幾個字。我橫豎睡不著，仔細看了半夜，才從字縫裡看出來，滿本都寫著兩個字是『吃人！』」請問從魯迅〈狂人日記〉中的「吃人」可知，魯迅對於當時的看法？ (A)對於新文化運動的反思 (B)對於西方文化思想的抵制 (C)對於中國傳統文化的批判 (D)對於精神病患的關懷。

**【請回答 29-30 題】**

現在日本在萬國和會要求併吞□□，管理□□一切權利就要成功了！他們的外交大勝利了，而我們的外交大失敗了！□□大勢一去，就是破壞中國的領土，中國的領土被破壞，中國就亡了！所以我們學界今天排隊到各公使館去要求各國出來維持公理，務望全國工商界，一律起來設法開國民大會……今與全國同胞立兩信條道：  
 中國的土地可以征服不可以斷送！  
 中國的人民可以殺戮不可以低頭！  
 國亡了，同胞起來啊！

- ( )29. 上文是民國初年，北京大學學生羅家倫所擬的《北京全體學界通告》，這是一份用來號召群眾集會遊行的宣傳單。關於這份宣傳單的內容分析，下列哪些正確？  
 【甲】萬國和會是指巴黎和會  
 【乙】「他們的外交大勝利了！」他們是指日本  
 【丙】「我們的外交大失敗了！」指的是北京政府接受日本的「二十一條要求」  
 【丁】這份宣傳單揭開了新文化運動的序幕。  
 (A)甲、乙 (B)乙、丁 (C)甲、丙 (D)丙、丁。
- ( )30. 學生受到這文章的鼓舞，紛紛高舉標語、熱情響應，站出來參加這場北京的街頭運動，請問：依照當時的社會氛圍，下列哪一個舉措標語、搞錯訴求了？



- ( )31. 「五四運動」對中國社會產生極大的影響，下列哪一個選項不是五四運動帶來的「結果」和「影響」？ (A)喚醒中國社會各階層的愛國意識 (B)政府還是被迫在巴黎和會上簽字，導致中國權利喪失 (C)擴大了新文化運動的影響 (D)事件後各地常出現不同訴求的學生運動。

**【請回答 32-33 題】**

孫中山奔走於革命運動，目的是要推翻專制滿清，建立民主共和國。民國初建，本應是落實民主政治的時候，但先有袁世凱的獨裁，後有軍閥的割據，種種亂象使得民主共和的理想受挫。請問：

- ( )32. 右圖是幅諷刺民國初年的政治漫畫，圖中手執大刀的「老猿」暗諷袁世凱「刀大殺人多」。他因被懷疑暗殺何人而成為國民黨發動「二次革命」的導火線？ (A)宋教仁 (B)孫中山 (C)段祺瑞 (D)黎元洪。



- ( )33. 右圖為中國某一時期南北分裂局勢圖，甲為北京，乙為廣州。請問：當時的背景為何？  
 (A)武昌起義後，中華民國臨時政府與滿清政府相抗衡 (B)日本趁一戰爆發，占領廣東 (C)袁世凱稱帝，引發段祺瑞領軍討伐 (D)段祺瑞破壞臨時約法，孫中山號召護法運動。



- ( )34. 如如平日喜歡和朋友一起逛夜市，她最喜歡買加熱滷味來吃，因為她可以依照自己的口味選擇喜歡吃的品項。請問：上述可突顯《民法》中訂立契約的何項原則？  
 (A)契約自由原則 (B)誠實信用原則  
 (C)消滅時效原則 (D)權利禁止濫用原則。
- ( )35. 民眾進行權利救濟的方式有很多種，但每種方式付出的時間成本和金錢成本各不相同，如下表。(●代表付出的成本，●越多代表要付出的成本越高) 請問：下表中的「丁」是何種權利救濟方式？

權利救濟方式	時間成本	金錢成本
甲	●	●
乙	●●●	●●●
丙	●●	●
丁	●●●●	●●●●

- ( )36. 段考前阿凱複習公民時，看到講義上有下列法律條文。  
 《民法》第345條第一項：「稱●●者，謂當事人約定一方移轉財產權於他方，他方支付價金之契約。」  
 講義上的污漬把部分的内容遮住了，阿凱只記得這條法律是介紹《民法》某項契約類型。請問：下列選項中，何者的契約類型與上文中的法律條文相同？  
 (A)阿福向停車場租停車位 (B)小威跟銀行貸款100萬  
 (C)鴻鴻在花店買一束玫瑰 (D)心儀送峰峰一支手錶。
- ( )37. 小城10歲生日當天在家裡舉辦一場生日派對，當天邀請許多朋友前來慶祝，同班同學國國準備了小城最喜歡的公仔當作生日禮物送他，小城收到以後很開心。請問：根據上述，下列何者從事法律行為的效力與國國相同？  
 (A)6歲的依依自己去早餐店買培根蛋餅  
 (B)14歲的棋棋自己去車行買了一輛機車  
 (C)16歲的家哥與經紀公司簽約成為藝人  
 (D)20歲的阿梅未經父母同意租一間套房。

請翻至第 4 頁繼續作答

- ( ) 38. 小毅是一名國中生，某一天他在騎腳踏車上學時，為了趕時間一不注意撞傷正在過馬路的兆哥。請問：根據上述，下列選項的說明何者完全正確？
- (A) 小毅不是故意撞傷兆哥，所以不用負起民事責任  
 (B) 小毅因為是不小心，所以由爸媽負連帶賠償責任  
 (C) 受傷的兆哥可以要求小毅負起債務不履行的責任  
 (D) 受傷的兆哥可以要求小毅損害賠償，負擔醫藥費。
- ( ) 39. 生活中難免與人發生糾紛，當和他人發生糾紛時我們可以透過法律途徑進行權利救濟。請問：下列選項對權利救濟的敘述，何者正確？
- (A) 訴訟外和解後，若對方違反和解契約可以提起訴訟  
 (B) 因為調解書不是由法官作出，所以沒有強制執行力  
 (C) 進行訴訟上和解時，法官會參與其中做出確定判決  
 (D) 私下和解後，若對方在事後反悔可以聲請強制執行
- ( ) 40. 《民法》規範私人間的權利義務關係，若違反相關規定須負起民事責任。請問：下列選項對民事責任的描述，何者正確？
- (A) 19歲的翔翔摔壞同學手機，法定代理人將負連帶賠償責任  
 (B) 范范超過半年沒有繳房租給房東，房東可以要求解除契約  
 (C) 曜曜撞壞租來的機車，他應該以賠錢為原則負起損害賠償  
 (D) 佳佳借了100萬元卻還不出來，債主可以要求她以身相許。

**【請回答 41-42 題】**

請依據下列四人說話的內容回答下列問題。

叡叡：「等到明年生日，我的年紀就可以和女朋友結婚了！」  
真真：「我剛剛和朋友討論明年總統大選，我們要投給誰。」  
小君：「我如果要買珍珠奶茶，必須要爸爸或媽媽幫我買。」  
阿雅：「我身為一名市議員，要為民喉舌、服務選民。」

- ( ) 41. 小蓮去年剛過完30歲生日，卻在今年因為一次意外造成腦部受傷、智力受損，後來被法院判為監護宣告。請問：上文中四人何者與小蓮屬於相同類型的行為能力人？  
 (A) 叡叡 (B) 真真 (C) 小君 (D) 阿雅
- ( ) 42. 根據上文的內容判斷。請問：四人的年齡「由大至小」依序可能為何？  
 (A) 叡叡、阿雅、真真、小君  
 (B) 真真、阿雅、叡叡、小君  
 (C) 小君、叡叡、真真、阿雅  
 (D) 阿雅、真真、小君、叡叡

**【請回答 43-44 題】**

以下是阿泰和小拉某一次電話中聊天的內容。

阿泰：「我們好久沒見面了，你最近在忙什麼啊？」  
小拉：「我打算開一家咖啡廳，預計年底會開幕。」  
阿泰：「恭喜你！到時候我一定會去捧場。」  
小拉：「謝啦！不過裝潢費用好貴，我目前還缺10萬元。」  
阿泰：「我可以借你啊！等你咖啡廳開了，每個月還2萬。」  
小拉：「那就這麼說定囉！到時候我一定會記得還錢的。」

- ( ) 43. 下列的選項是說明阿泰和小拉之間的身分和權利義務關係，請問：下列選項何者說明正確？  
 (A) 阿泰是債權人，他有取得還款的權利  
 (B) 阿泰是債務人，他有出借金錢的義務  
 (C) 小拉是債權人，他有清償債務的權利  
 (D) 小拉是債務人，他有取得借金的義務

- ( ) 44. 根據上文兩人對話的內容，請問：下列選項哪些正確？
- 甲、兩人只有口頭承諾，所以未發生「債」的關係  
 乙、如果小拉還不出錢就要負起債務不履行的責任  
 丙、若阿泰一直沒提醒小拉還錢，10年後可以不還  
 丁、兩人如果要簽書面契約，可以用蓋章代替簽名
- (A) 甲乙 (B) 甲丙 (C) 乙丁 (D) 丙丁

**【請回答 45-46 題】**

淨淨和小祐是一對情侶，為了慶祝兩人的28歲生日，他們決定週末一起去臺南玩。

一到臺南他們甲、先去車行租機車，接著去國華街吃美食，他們乙、買了許多在地小吃來品嚐，像是小卷米粉、碗粿、浮水魚羹……等等。

下午到民宿辦理入住時，丙、老闆熱情地送上一份紀念品。後來兩人到漁光島踏浪、看夕陽，在看海景時周圍突然跑出來兩人的親朋好友，小祐這才拿出準備好的鑽戒向淨淨求婚，在眾人的祝福下小祐求婚成功，丁、兩人未來將成為夫妻。

- ( ) 45. 《民法》的規定和人民的的生活息息相關，其內容大致可分為財產關係和身分關係。請問：上文中粗體雙底線的描述何者是身分關係？(A) 甲 (B) 乙 (C) 丙 (D) 丁。
- ( ) 46. 請問：根據《民法》的規定，淨淨和小祐必須符合下列哪些條件才能正式成為夫妻？
- 甲、訂定婚約                      乙、雙方法定代理人同意  
 丙、書面                              丁、2人以上證人之簽名  
 戊、舉辦公開婚禮                  己、親自至戶政機關登記
- (A) 甲丙丁己 (B) 乙丙丁己 (C) 丙丁戊己 (D) 丙丁己

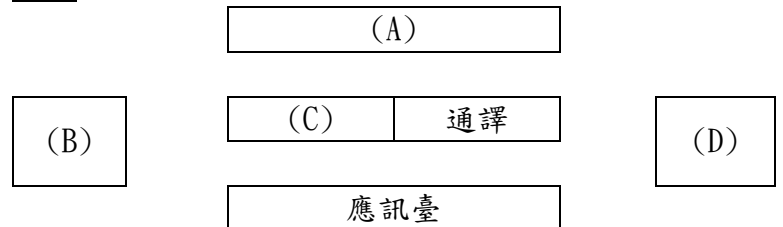
**【請回答 47-50 題】**

前陣子小光不小心把鄰居妮妮放在門口的花盆打破，兩人不僅撕破臉，還因此鬧上法庭。(如以下3則訊息)

甲、阿賢聽了雙方主張並參酌相關證據後做出公正的判決。  
 乙、妮妮決定要透過司法伸張正義，因此向法院提起訴訟。  
 丙、開庭時莎莎將妮妮和小光提出的主張仔細地記錄下來。

上方3則訊息是兩人處理此糾紛的片段，。

- ( ) 47. 請問：下列何者最有可能是文中3則訊息發生的順序？  
 (A) 乙→甲→丙 (B) 乙→丙→甲  
 (C) 丙→乙→甲 (D) 甲→丙→乙。
- ( ) 48. 根據文中訊息判斷莎莎的身分，請問：下列何者是莎莎在法庭上穿的法袍？  
 (A) 黑色法袍鑲藍邊 (B) 黑色法袍鑲黑邊  
 (C) 黑色法袍鑲白邊 (D) 黑色法袍鑲紫邊。
- ( ) 49. 下圖是民事訴訟庭配置簡圖，請問：依據上文的敘述，妮妮在開庭時應該在下圖中哪個位子？



- ( ) 50. 請問：下列選項對上文中各角色的敘述哪些正確？  
 (A) 甲乙                      甲、小光可能侵害妮妮權利是本案的原告  
 (B) 甲丙                      乙、妮妮可自行委託律師協助其進行訴訟  
 (C) 乙丁                      丙、為了追求公正，阿賢應主動蒐集證據  
 (D) 丙丁。                      丁、小光在訴訟中可隨時與妮妮進行和解