

選擇題：每題 2 分(1-17 題為地理；18-35 題為歷史；35 至 50 題為公民)，請將各題答案以 2B 鉛筆畫記於答案卡。

【請回答 1-9 題】

立志成為寶可夢大師的大智，偶然間得知了一則有趣的廣告訊息(如下圖所示)，於是計畫來一趟「尋寶之旅」。

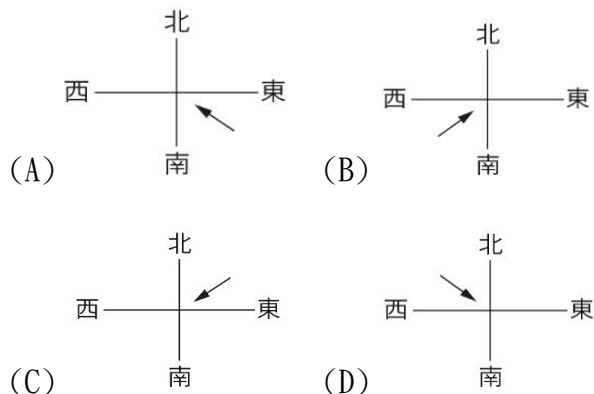
《寶可夢當地 Acts》
 日本全國各地接連發現畫有寶可夢圖案的人孔蓋—「寶可夢人孔蓋」。
 各地區的「寶可夢大使」歡迎人們造訪當地區尋找專屬人孔蓋，並將各地區特色與魅力傳播到日本國內外。

鹿兒島縣—伊布
 福岡縣—三地鼠
 香川縣—呆呆獸
 大阪府—雷公
 橫濱市—皮卡丘
 福島縣—吉利蛋
 岩手縣—小拳石
 新潟縣—鯉魚王
 —六尾

- () 1. 大智發現廣告訊息中，缺漏了六尾的代表地區，請問： 應為下列哪一地區？
 (A)本州 (B)四國 (C)九州 (D)北海道。
- () 2. 大智首站到了伊布的代表地區，在當地也見識到了仍然相當活躍的櫻島火山。請問：櫻島火山如此活躍，可能與哪一個因素最有關聯？(A)位於海陸交界帶 (B)氣候較溫暖 (C)位於板塊交界帶 (D)當地過度開發。
- () 3. 第二站到了呆呆獸的代表地區，大智發現當地年降水量比日本平均值少三分之一，且集中在夏季，當地雖然自然災害較少，但每到夏、秋季節，仍需提防 所帶來的致災性豪雨。請問： 可能為哪一種災害？
 (A)龍捲風 (B)颱風 (C)大陸冷高壓 (D)火山爆發。
- () 4. 接著大智轉往尋找三地鼠、雷公、皮卡丘時，觀察到了這三個沿海地區都有重要工業帶形成，請問：這種現象最可能與哪一個因素有關？(A)運輸較便利 (B)氣候較優良 (C)礦產較豐富 (D)技術較先進。
- () 5. 大智找到吉利蛋後，回想起一則與當地核電廠有關的新聞「福島核電廠廢水排入海工程預估 2023 年夏天完工，屆時核廢水排入海會隨甲洋流往東北方走，沿著北太平洋洋流，經過阿拉斯加，再到美國加州，最後隨北赤道洋流回到臺灣。」如附圖所示，請問：甲洋流為下列何者？
 (A)親潮 (B)中國沿岸流 (C)黑潮 (D)西太平洋洋流。



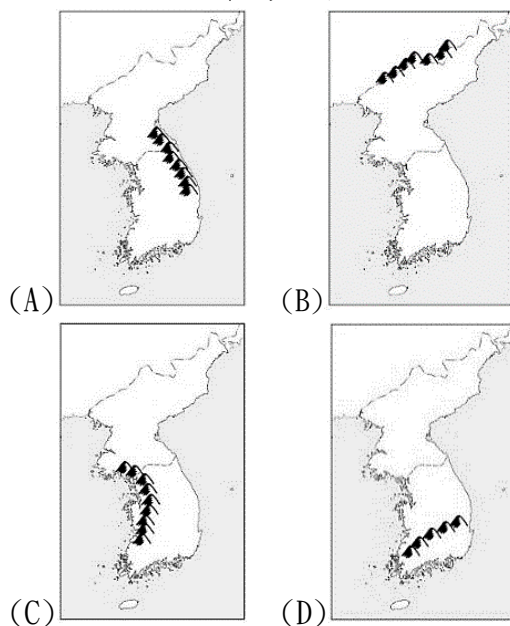
- () 6. 接著大智繼續尋找小拳石，因岩手縣外海是著名的漁場，大智看到許多漁船正在捕魚，大智不禁思索日本漁業興盛的原因。請問：下列何者為非？
 (A)四面環海 (B)從事漁業人口比例最高
 (C)海岸線曲折 (D)寒暖洋流交會。
- () 7. 大智於 12 月抵達鯉魚王的代表地區，不料竟遭遇當地降下破紀錄的大雪。請問：造成此一現象的原因，主要是由下列哪一個盛行風向帶來充足水氣進而引發大雪？



- () 8. 大智結束旅程後，覺得日本與臺灣在各方面很類似，於是整理了一張比較表，請問：需要修正的是哪一項？

	(A)	(B)	(C)	(D)
	地形特色	氣候特徵	經濟發展	農業特色
日本	山多平原少	季風亞洲	原料、能源自給自足	集約農業
臺灣	山多平原少	季風亞洲	原料、能源仰賴進口	集約農業

- () 9. 大智在反思這次旅程的收穫時，深深覺得日本在觀光行銷方面真的極具巧思，請問：依照這次活動的廣告訊息來看，是結合哪一項產業來推廣觀光？
 (A)生技產業 (B)文創產業 (C)傳統產業 (D)AI 產業。
- () 10. 附圖是朝鮮半島傳統韓屋中名為「溫突」的取暖設施，請問：朝鮮半島會出現此一建築特色的主要影響因素為何？(A)山地面積廣大 (B)位於海陸交界 (C)季風方向不同 (D)緯度高使冬季寒冷。
- () 11. 朝鮮半島的太白山脈的地位就如同臺灣的中央山脈，兩者都是重要的脊梁山脈，請問：下列哪一張圖所標示出的太白山脈位置最為正確？

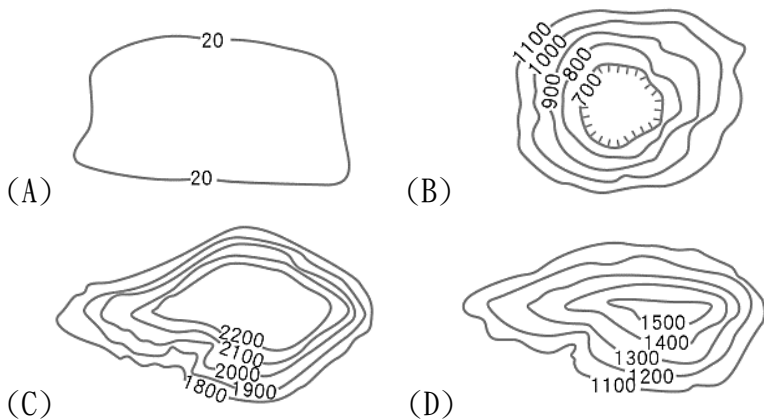


背面還有試題！

()12. 南韓與臺灣的工業發展歷程極為相似，早期都是先發展勞力密集型工業，接著再發展資本密集型工業，而後邁向技術密集型工業。請問：若以傳統工業分類來看，下列各時期的主要出口產品，何者較符合南韓工業發展歷程的順序？

- (A) 汽車→紡織品→半導體晶片
 (B) 半導體晶片→汽車→紡織品
 (C) 紡織品→半導體晶片→汽車
 (D) 紡織品→汽車→半導體晶片。

()13. 2022年10月8日凌晨2:54，北韓豐溪里核試驗場東北部地區發生芮氏規模2.5的地震。首爾和華府官員表示，相信北韓已經在豐溪里試驗場完成第7次核試的準備工作。請問：豐溪里核試驗場所在的地形區，與下列哪一張等高線地形圖表示的地形相似？



()14. 南韓與北韓雖分處朝鮮半島兩端，但在自然環境與產業發展方面有許多相同與不同之處。請問：下列南、北韓的比較表格中，哪一個欄位的資料**有錯誤**？

	(A)	(B)	(C)	(D)
	地形特徵	氣候特徵	農業收穫	主要工業
北韓	地勢較高	溫帶季風	年僅一穫	國防工業
南韓	地勢較低	熱帶季風	年可二穫	高科技業

()15. 「西元2018年北韓國民所得每人平均只有3.7萬臺幣，同年南韓國民平均約有81萬臺幣」。請問：北韓人民生活貧困的原因下列敘述何者正確？(甲)發展農業的自然條件較差 (乙)專制獨裁的統治政權 (丙)發展核武而遭到國際經濟制裁 (丁)重視民生工業，輕忽重工業發展
 (A) 甲乙丙 (B) 乙丙丁 (C) 甲乙丁 (D) 甲丙丁。

【請回答16-17題】

西元1971年，南韓政府決定發展重化工業，以做為提升經濟的政策主要方向。在此政策下，最重要的是扶植特定企業，政府除了對這些企業提供龐大資金之外，也給予壟斷性的特許產業，讓特定企業的規模能夠快速成長為大財閥，到後來終於讓南韓成為一個被這些大財閥深深影響的國家。

()16. 下列哪一項敘述最符合文中描述的南韓經濟發展現狀？
 (A) 觀光與時尚產業蓬勃發展 (B) 南韓流行文化席捲全亞洲 (C) 3C產品在全球市佔率高 (D) 三星集團整體營收占國內生產毛額 (GDP) 達20%以上。
 ()17. 文中提及的經濟發展現狀，有可能造成下列哪一影響？
 (A) 大企業若經營不善，將衝擊全國整體經濟發展
 (B) 縮小全國貧富差距 (C) 促進全國中小企業穩定發展
 (D) 社會漸趨公平正義。

()18. 英國為了打開中國閉關自守的局面，先採取較柔性的作法，派遣了使節前來中國想與皇帝溝通，但是都無疾而終，不歡而散，主要的原因是？
 (A) 中國不願贊助英國 (B) 貿易價錢不佳
 (C) 英國要求割讓土地 (D) 覬見禮儀的爭執。

()19. 西元十七世紀後，隨著歐洲人前來亞洲貿易，美洲的白銀被歐洲人用來買中國的絲綢、瓷器，白銀因而大量湧入中國，造成中國貨幣經濟的重大變化。直到下列什麼事發生之後，白銀大量流出中國？
 (A) 新航路發現後 (B) 鴉片大量進入中國後
 (C) 英法聯軍圓明園遭到掠奪 (D) 辛丑條約簽訂後。


()20. 上海在十九世紀中期後開始成為了西方人來到中國之後的重要港口，現代城市生活中不可或缺的各種文明設備，例如：新式銀行、西式街道、煤氣燈、電話、電力、自來水等等，都以極快的速度引進，請問導致上海成為中國當時最先進的都市的原因是什麼？
 (A) 唯一通商的主要港口
 (B) 南京條約後的開港通商
 (C) 英法聯軍戰敗後被迫割讓給外國
 (D) 自強運動推動西方器物改革。

()21. 晴子查閱清末的歷史資料，她發現在這個時期婦女地位逐漸提高。請問：下列何者**不會**是她所找到的相關資料內容？
 (A) 《申報》講述婦女謀求就業的機會增加
 (B) 上海創刊的《萬國公報》提倡女子接受新式教育的思潮
 (C) 《點石齋畫報》中呈現「父母之命，媒妁之言」的婚姻型態
 (D) 《中國女報》鼓勵女性放足與自由戀愛結婚。

()22. 廣播中，傳來陣陣動人的歌曲，櫻木上網查詢歌詞：「One night in 北京，我留下許多情，不管你愛與不愛，都是歷史的塵埃。……」請問：下列何事在北京留下了歷史的塵埃？
 (A) 鴉片戰爭 (B) 甲午戰爭
 (C) 英法聯軍 (D) 日俄戰爭。

()23. 臺灣開港通商後，沈葆楨到臺灣建設砲臺、電報線，劉銘傳在北部建設鐵路、推動郵政、新式學堂等建設，這些新政的執行，可能與清代發生的什麼事有關？
 (A) 鴉片戰爭 (B) 甲午戰爭
 (C) 自強運動 (D) 戊戌變法。

()24. 清末以來，中國沿海及工商業較為發達的城市，大都成為西方文明輸入的重要管道（見右圖），各國在中國通商口岸畫定區域，享有居住、經商、建屋和築路權，彷彿形成國中有國。請問，這樣的情形，主要和戰爭戰敗後外國人享有什麼特權有關？
 (A) 清朝為歡迎各個國家到中國進行貿易的建設 (B) 促進中國現代化，清朝邀請各國的工程隊來中國進行建設
 (C) 當時很多國家在通商口岸設立工廠做的基礎建設 (D) 當時各國在通商口岸設立租界。



()25. 秋瑾留學日本期間，積極參加革命活動，秋瑾也曾參與創辦《白話報》，這是強調用通俗的白話文書寫的報紙，其發行的目的最有可能是下列何者？
 (A) 提倡三從四德，強調倫理道德
 (B) 倡導思想解放，主張愛國和推翻清朝
 (C) 鼓吹扶清滅洋，打擊列強侵略
 (D) 主張成立內閣，建立君主立憲。

- () 26. 清朝末年以來，社會風氣逐漸轉變，不少婦女開始外出謀職。其中哪一項條約簽訂後，由於外商得以在中國設立工廠，也間接增加婦女就業的機會？
 (A)南京條約 (B)馬關條約
 (C)北京條約 (D)辛丑和約。
- () 27. 馬偕是來自加拿大的傳教士，他將畢生的精力都奉獻給臺灣，引進新式的西醫制度，也教育臺灣的女性同胞，馬偕的一生以「寧願燒盡，不願朽壞」而被讚賞，他的座右銘為「攬是為基督」。馬偕之所以可以前往臺灣，是受到下列哪場戰爭的影響？
 (A)甲午戰爭 (B)清法戰爭
 (C)鴉片戰爭 (D)英法聯軍。
- () 28. 巴菲特在1900年(光緒26年)以記者的身份，隨著攻入北京的八國聯軍來到中國，留下當時戰爭和對清帝國印象的珍貴記錄，請問：下列敘述是他報導中可能會出現的內容？
 (A)聯軍進入北京後，聯軍代表在北京覲見清帝國皇帝，商討如何解決問題
 (B)因為當時清帝國還沒有辦理外交的現代機構，聯軍在交涉時倍感困難
 (C)當時的中國民眾，對於實施多年的考試制度遭到廢除而議論紛紛
 (D)賠給各國的鉅額賠款，讓清朝原本困窘的財政更加雪上加霜。
- () 29. 右圖的漫畫是諷刺清末列強在中國的一場戰爭，兩國在中國的□□地區交戰，清朝政府卻被迫為這場戰爭專門畫出一塊交戰區，最後由○○獲得勝利。請問：上述的□□地區、○○國家，分別指的是？
 (A)山東、日本 (B)遼東、俄國
 (C)東北、日本 (D)廣東、英國。



【請回答30-32題】

班上同學們在做歷史課的報告，討論著關於晚清以來的戰爭與影響：

宮城：這場戰爭是因為中國排外與仇外情緒高漲，於是當政者借助著民意的力量對外國宣戰，希望將外國人趕出中國。

三井：這場戰爭的失敗及北洋艦隊的覆滅，使得中國的國際地位一落千丈，之後更使中國成為西方國家瓜分的對象。

木暮：這場戰爭，是中國首都的第一次淪陷，迫使中國開放更多的通商口岸，使外國勢力由沿海深入中國內地。

流川：這場戰爭，是西方國家對於中國的第一次大規模戰爭，這場戰爭之後，也打開了中國的大門，打破中國的閉關自守。

- () 30. 中國和日本在歷經西方列強船堅砲利的洗禮後，陸續開始自身的改革運動，請問：哪位同學報告的戰爭可以說是中國和日本改革的期末測驗，證明了日本明治維新是成功的？
 (A)宮城 (B)三井 (C)木暮 (D)流川。
- () 31. 香港過去有「東方明珠」和亞洲四小龍之美稱，香港成為英國殖民地，逐步走向世界舞臺，是在哪位同學所說明的戰爭之後？
 (A)宮城 (B)三井 (C)木暮 (D)流川。
- () 32. 請將這四位同學介紹的戰爭，根據發生的先後順序排列，應為下列何者？
 (A)流川→木暮→宮城→三井
 (B)木暮→流川→宮城→三井
 (C)木暮→流川→三井→宮城
 (D)流川→木暮→三井→宮城。

【請回答33-34題】

◎清代中後期受到外力的入侵，國勢岌岌可危，朝野開始為了國家的發展找尋出路，於是有一連串改革運動的推行：
 (甲)庚子後新政 (乙)自強運動 (丙)戊戌變法 (丁)立憲運動

- () 33. 各項改革與發起的原因的配對，下列何者錯誤？
 (A)八國聯軍→甲 (B)鴉片戰爭→乙
 (C)甲午戰爭→丙 (D)日俄戰爭→丁。
- () 34. 關於這些改革下列敘述哪一個才是正確的？
 (A)(甲)廢除了千餘年的科舉制度並設立了京師大學堂
 (B)(乙)設立了類似於今日經濟部的總理各國事務衙門
 (C)(丙)遭保守派發動戊戌政變推翻，慈禧太后被囚禁
 (D)(丁)之後，改革派失望之餘，轉而支持革命。
- () 35. 古希臘哲學家柏拉圖曾經說過：「對政治冷漠的下場就是被糟糕的人統治。」所以參與政治不只是政治人物的事，更是全體國民的事。請問：國中生可以透過下列哪些方法參與政治？

甲、投票日當天親自去投票 乙、加入政黨成為一位黨員
 丙、與家人一起看政論節目 丁、參加候選人的造勢晚會

- (A)甲乙 (B)甲丁 (C)乙丙 (D)丙丁。
- () 36. 各個國家中央政府與地方政府的分權方式都不太一樣，我國是採用孫中山先生提出的均權制度，他認為凡事務有□□□□之性質者，畫歸中央；有△△△△之性質者，畫歸地方。請問：下列事務哪些有△△△△之性質者？

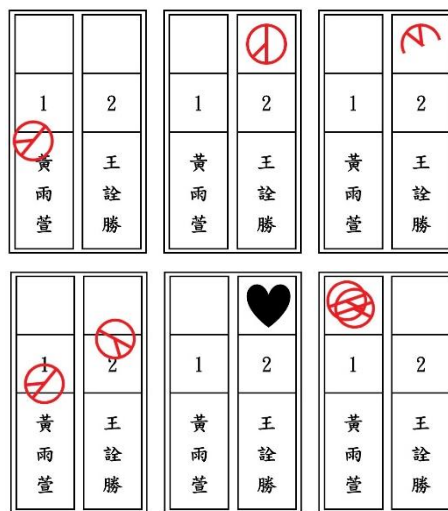
甲、辦理公務人員高普考 乙、審核縣府編列之預算
 丙、發放中低收入戶補助 丁、副總統出訪友邦帛琉

- (A)甲乙 (B)甲丁 (C)乙丙 (D)丙丁。
- () 37. 2022年11月19日一早在社群媒體上有多位馬來西亞藝人秀出「藍手指」，呼籲民眾趕緊出門去投票。原來當天是馬來西亞第15屆全國大選投票日，為了防止一人多投的舞弊行為發生，民眾在投票時會被要求將食指沾上藍紫色的墨水，代表已完成投票，如果想要洗乾淨至少要等兩天。請問：上述「藍手指」的作法是為了符合下列何項投票原則？
 (A)普通原則 (B)平等原則
 (C)直接原則 (D)無記名原則。

- () 38. 鳳南里在日前舉行里長選舉，其選票認定的方式與我國法律的規定相同

。請問：右方6張選票中，總共有幾張是「無效票」？

- (A)2張
 (B)3張
 (C)4張
 (D)5張。

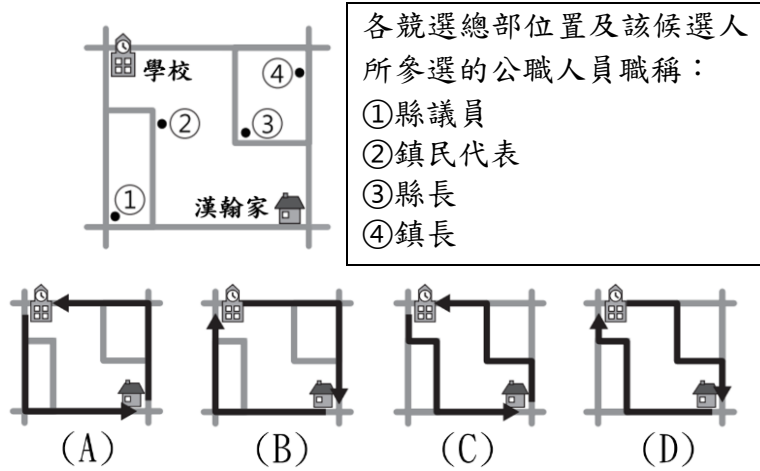


- () 39. 下方表格是毛毛對我國「地方自治團體」的立法機關和行政機關所作的筆記，但筆記中有許多的錯誤。請問：在毛毛的筆記中只有哪一項是正確的？
 (A)甲 (B)乙
 (C)丙 (D)丁

	立法機關	行政機關
甲	臺北市府	臺北市議會
乙	花蓮縣議會	花蓮縣公所
丙	宜蘭市民代表會	宜蘭市公所
丁	樹林區民代表會	樹林區公所

背面還有試題！

() 40. 漢翰在上學途中，路過某位候選人的競選總部，他看到「爭取3連任，懇請支持」的標語；放學回家時，他經過另一位候選人的競選總部，掛著「27歲青年，力拼最年輕的行政首長」的旗幟。下圖是漢翰家周邊環境示意圖，根據圖中內容判斷，請問：下列何者最有可能是漢翰上學、放學的路線？



【請回答 41-42 題】

小光和淨淨在我國同一個行政區內分別任職於某地方政府，以下是某場會議中兩人的對話：
 小光：鄉內人口老化嚴重，民眾時常反應鄉內的長照設施嚴重不足，我們已經編列預算要興建日間照護中心，並預計招募長照人才解決相關問題，懇請貴會通過經費。
 淨淨：本席也時常收到鄉親陳情關於長照的問題，對於長照政策本席絕對大力支持。但本席身為民意代表對於任何的經費運用都會嚴格把關，人民納稅錢絕對要花在刀口上，我們會仔細審議後再決定是否通過。

() 41. 請問：依據上文兩人對話的內容判斷，下列哪些選項的敘述正確？

- (A) 甲丙
 (B) 甲丁
 (C) 乙丙
 (D) 丙丁。
- 甲、小光所在的行政區可能位於南投縣境內
 乙、文中會議的地點有可能是在新竹市議會
 丙、小光是行政首長負責推動地方自治工作
 丁、淨淨是立法委員負責議決地方自治條例

() 42. 請問：文中兩人討論的經費，主要是用於推動下列何項地方自治事項？

- (A) 社會福利 (B) 教育文化
 (C) 經濟發展 (D) 安全衛生。

【請回答 43-44 題】

今年民主國有3個全國性公民投票案，本次的投票權人一共有800萬人。右表是民主國本次公民投票的投票結果。		同意票	不同意票
	第7案	192萬	188萬
	第8案	250萬	258萬
	第9案	204萬	200萬

() 43. 若民主國公民投票規定與我國相同，請問：本次民主國有哪幾個公民投票案通過？

- (A) 第7案、第8案、第9案 (B) 第7案、第9案
 (C) 第8案、第9案 (D) 只有第9案。

() 44. 若民主國公民投票規定與我國相同，依據下表4位民主國國民的資料判斷，請問：總共有幾個人有權參與本次的投票？

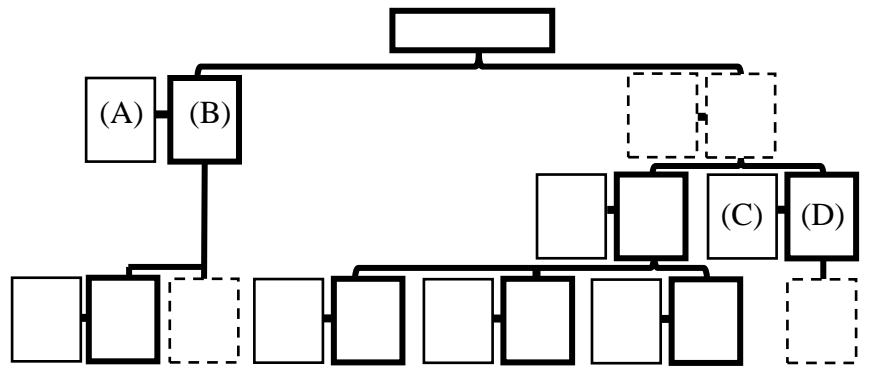
姓名	年齡	設籍時間	是否受監護宣告	是否受褫奪公權
小莫	19歲	9個月	否	否
韻如	24歲	7個月	是	否
子維	27歲	8個月	否	是
思源	30歲	5個月	否	否

- (A) 4個人 (B) 3個人 (C) 2個人 (D) 1個人。

【請回答 45-46 題】

原定2022年11月26日選出新一任的嘉義市市長，但由於選前不到一個月傳出有候選人過世，因此依法停止該項選舉，並定期重行選舉。經主管機關討論後投票日延至12月18日，最終結果由現任市長黃敏惠以5萬9874票，得票率63.82%連任成功。

() 45. 下方是我國地方政府組織的架構圖，請問：文中的當選者未來主要會在下方架構圖中哪個位置辦公？

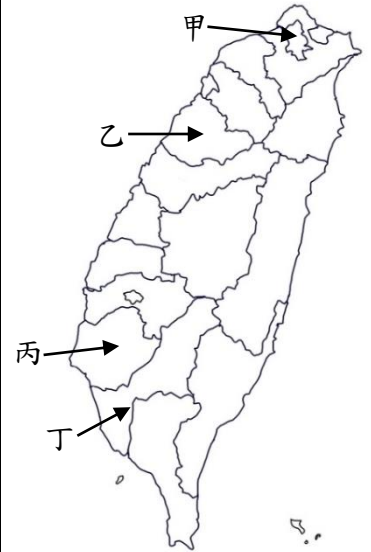


() 46. 請問：下列何者可能是文中當選者上任後的工作內容？
 (A) 到市議會接受質詢 (B) 購買國防軍事武器
 (C) 認真監督民意代表 (D) 審查地方自治條例。

【請回答 47-50 題】

2022年是我國●年一度的「九合一地方選舉」，長期關注基隆發展的阿麟也有登記參選、參與本次的選戰。他希望能有機會為基隆民眾服務、改善基隆的生活品質。

平時在彰化工作的洋洋得知兒時玩伴阿麟要角逐里長，除了在臉書幫忙分享貼文，也在投票日當天搭火車回到基隆投票，決定用實際的行動支持阿麟。可惜最終阿麟輸給現任里長，沒能打贏這場選戰。



() 47. 上圖為我國行政區圖，依我國現行《地方制度法》規定，我國地方政府分為三個層級。請問：上圖中的「甲」、「乙」、「丙」、「丁」4個箭頭分別所指的行政區何者與阿麟參選的行政區屬於同一個層級？
 (A) 甲 (B) 乙 (C) 丙 (D) 丁。

() 48. 根據上文的敘述，請問：下列選項哪些是正確的？

- (A) 甲乙
 (B) 甲丙
 (C) 乙丙
 (D) 甲乙丙。

甲、文中提到的●年一度是四年一度
 乙、本次投票是依據《公民投票法》
 丙、阿麟可以用無黨籍身分登記參選

() 49. 上文提及洋洋為了投票返鄉，請問：洋洋在火車上沿路會經過幾個直轄市？
 (A) 1個 (B) 2個 (C) 3個 (D) 4個。

() 50. 請問：根據上文的敘述，在投票日當天洋洋最多會拿到幾張選票？
 (A) 9張 (B) 5張 (C) 3張 (D) 2張。

試題到此結束！