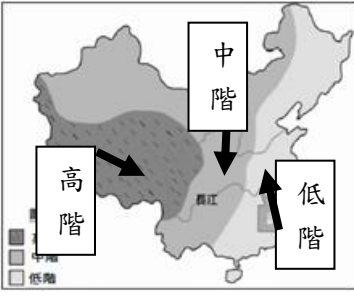
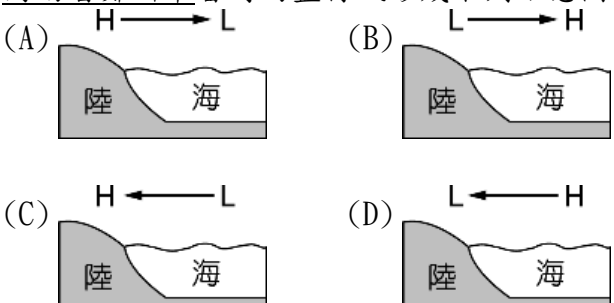
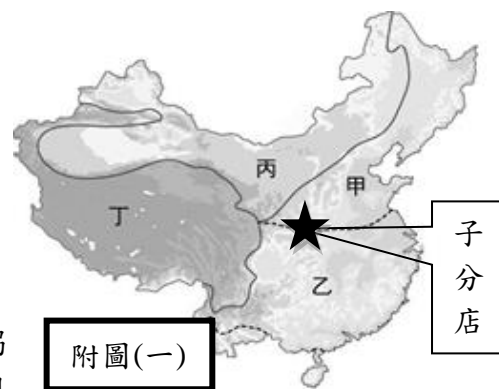




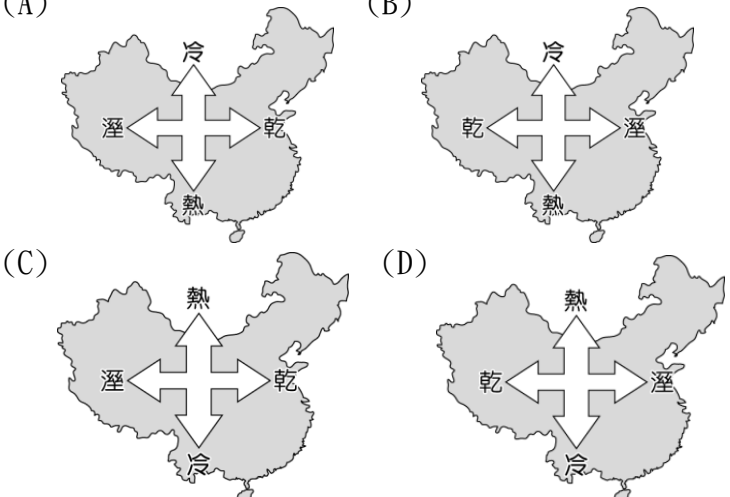
選擇題：每題 2 分(1-17 題為地理；18-33 題為歷史；34-50 題為公民)

- () 1. 中國電視連續劇為了讓觀眾能更融入故事劇情，掀起了實地取景拍攝的風潮。請問：下列哪一部戲劇的該集劇情是在右圖低階地區所實地拍攝的？(A)三生三世十里桃花：「女主角白淺從小生活於青丘(位於雲貴高原)，景色絕美，有水上田園、峰林水鄉、岩溶溼地等。」(B)雪域雄鷹：「一群年輕人集結，以青春和熱血挑戰喜馬拉雅山、挑戰自我，目標成為特種兵。」(C)射鵰英雄傳：「郭靖從小與母親生活在蒙古草原，因為立功無數，再加上公主喜歡郭靖，所以鐵木真敕封郭靖為金刀駙馬。」(D)蘭陵王：「北周軍隊攻擊洛陽地區金墉城(位於華北平原)，蘭陵王高長恭率領500名騎兵打敗北周10萬軍隊解圍。」
- 
- () 2. 中國山東省濰坊市被各國推崇為「世界風箏之都」，國際風箏聯合會的總部也設在濰坊風箏博物館。若 2022 年濰坊風箏節的主辦單位規畫的飛行方向，想依賴季風讓風箏朝西北方飛行。請問：根據上文敘述，此活動最可能在哪一個季節舉辦？(A)春季 (B)夏季 (C)秋季 (D)冬季。
- () 3. 2021 年 7 月 20 日，中國河南省鄭州市盛行風帶來豐沛水氣形成暴雨釀成巨災，中國氣象局官方微博曾稱鄭州暴雨「超千年一遇」。河南省水利廳官網更稱暴雨是「5000 年一遇」，引來不少質疑與嘲諷。有專家解釋，所謂「千年一遇」並不是「千年才能遇到一次」，而是指「同規模的降雨量每年有千分之一的機率發生」。根據上述內容，河南省鄭州市當時的盛行風形成下列示意圖何者正確？
- 
- () 4. 中國西安古城牆已有數百年歷史，近年來因為酸雨嚴重，而使得城牆上出現多處嚴重的裂隙，進行維修工程時若下大雨將導致古城毀損更加嚴重，因此雨季時就要全面停止維修工程。依據中國的降雨情形判斷，維修人員「最不可能」在哪一個時間進行維修？(A)春季 (B)夏季 (C)秋季 (D)冬季。
- () 5. 中國前國務院總理在接受採訪時說到：「任何很小的數字，只要乘上 14 億，就會變得很大；任何很大的數字，除以 14 億，也可以變得很小。」由此可知中國總人口多具有下列哪些影響？(A)農村經濟蕭條、農民收入少 (B)都市人口增加、鄉村人口減少 (C)勞動力日增、耕地面積日減 (D)消費市場大、公共設施不足。
- () 6. 中國第十三個五年計畫時期(2016 至 2020 年)中提到全面落實「二胎政策」，因為中國已經為一胎化政策付出了巨大的社會成本。請問：「一胎化政策」被淘汰是因為該政策產生哪一種「負面」現象？(A)死亡率上升、老年人口比例降低 (B)性別比小於 100、性別比例嚴重失衡 (C)壯年人口比例變低、扶養比變高 (D)都市人口比例上升、鄉村人口比例下降。

◎【請回答 7-14 題】

中國 KFC 連鎖餐飲集團，標榜「立足中國，融入生活」、「菜單在地化」。請根據右圖回答下列問題：



- () 7. 中國 KFC 連鎖餐飲集團近幾年陸續推出香菇雞肉粥、海鮮蛋花粥、肉鬆油條握飯糰、巧手麻婆雞肉飯、K 記飯桶、原味螺螄(米)粉等米食系列的新品，是為了中國以米食文化為主的地區進行的中式口味改良創新。請問：上文所敘述的地區位於圖中何地？(A)甲 (B)乙 (C)丙 (D)丁。
- () 8. 中國四川地區夏天流行吃麻辣食物以解決悶熱天氣所帶來的食慾不振，中國 KFC 集團也為此推出川辣嫩牛五方、川辣泡椒雞塊飯、川香燃辣擻串桶等新品販售，而青藏地區此時卻成為旅客的避暑聖地，該地區分店則是推出各式熱食。請問：此兩地氣候上的差異主要是受到哪一項因素影響？(A)地勢高低 (B)距海遠近 (C)緯度高低 (D)季風強弱。
- 
- () 9. 氣候條件影響著食材成本與配送方式。若中國 KFC 連鎖餐飲集團想了解甲區氣候條件、交通方式以製作和配送更多符合甲區的在地化菜單(如右圖)。請問：下列相關資訊何者正確？
- 
- (A)年雨量 < 500mm (B)七月月均溫 < 18℃
(C)一月月均溫 < 0℃ (D)配送以水運及陸運為主。
- () 10. 中國 KFC 各分店如果想推出較符合在地氣候條件的新品，可參考下列哪一張圖的資訊最為正確？
- 
- () 11. 中國 KFC 集團「子分店」因為剛好開設在重要的氣候界線上，因此便以該界線作為分店名稱。根據上述判斷，下列何者為「子分店」的分店名？(A)KFC 南嶺服務區分店 (B) KFC 秦嶺服務區分店 (C) KFC 太行山服務區分店 (D)KFC 喜馬拉雅山服務區分店。
- () 12. 中國 KFC 連鎖餐飲集團近幾年以平均推出 20 多種新品的速度服務著中國眾多人口，獲取因為眾多人口而來的龐大商機。請問：該集團積極推出新品是因為中國何項人口特色？(A)人口性別比失衡 (B)眾多廉價的勞工 (C)廣大的消費市場 (D)邁入高齡化社會。

() 13. 下列為中國 KFC 集團因應在地自然環境所開設的特色分店，請問：何者會出現於附圖(一)中的丙區？



蒙古包式 KFC



江南岳陽樓式 KFC



騎樓式 KFC



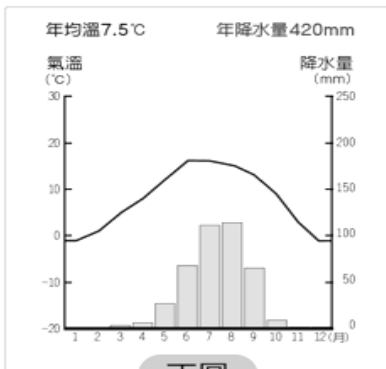
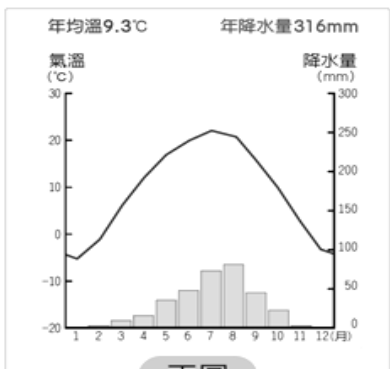
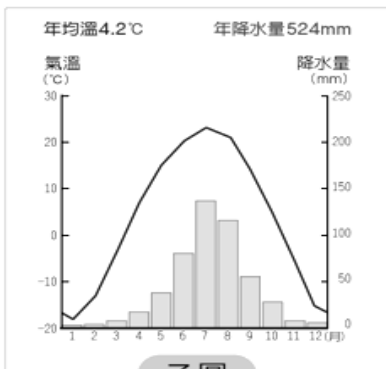
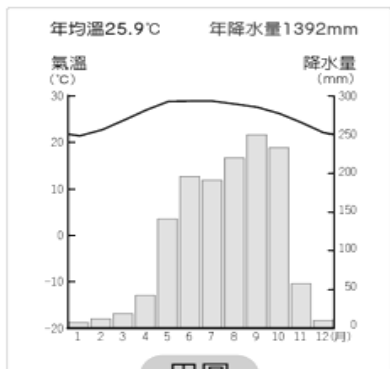
西藏碉樓式 KFC

() 14. 中國 KFC 集團從 2002 年開始，便以每年開設幾百家新分店的快速擴張，該階段擴張方向與中國人口大遷移時代移民遷移方向非常相似，當時大遷移時代的移民大多為逃避戰亂的流民，他們由戰亂最劇烈的黃河中下游地區遷出，大部分向南遷至長江流域。長達一兩個世紀的動亂中，黃河流域慘遭蹂躪，進而促發了一次又一次向南方移民紮根。根據上文判斷，下列何者是中國 KFC 該階段擴張方向？

(A) 甲→乙 (B) 丙→乙 (C) 丙→丁 (D) 乙→丁。

◎【請回答 15-17 題】

中國豐富的氣候景觀常被中國電影、連續劇作為實地拍攝場景。請根據下列附圖回答下列問題：



() 15. 2016 年中國票房最高的電影《美人魚》，影片中出現的涓涓小溪、茂密森林、大海礁石及懸崖瀑布等位在中國熱帶季風氣候區的場景，令觀眾印象深刻。請問：上述哪一個為該場景的氣候圖資料？

(A) 甲 (B) 乙 (C) 丙 (D) 丁。

() 16. 中國電影《尋龍訣》，該片草原部分的拍攝地點就在內蒙古呼倫貝爾大草原，藍藍天空、迷人的大草原、風吹草地及奔馳的牛羊隨處可見，堪稱中國最美麗的草原。請問：上述哪一個為該拍攝地點的氣候圖資料？

(A) 甲 (B) 乙 (C) 丙 (D) 丁。

() 17. 中國連續劇《盜墓筆記》主要拍攝地點為北京、西藏，其中因為西藏地區平均海拔高度 4000 公尺，空氣稀薄，讓劇中演員在拍攝武打動作鏡頭時備感辛苦。請問：上述哪一個為西藏地區的氣候圖資料？

(A) 甲 (B) 乙 (C) 丙 (D) 丁。

() 18. 在著名的青銅器「毛公鼎」上記載著周天子冊封他的叔叔毛公時的叮嚀：「希望你在掌理政務，要好好的治理領地，要對王室忠心。」他們形成如此關係的原因為何？

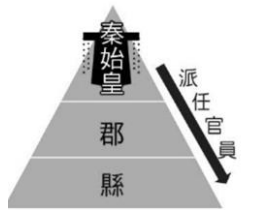


(A) 封建體制 (B) 察舉孝廉 (C) 九品任官 (D) 郡縣制度。

() 19. 戰國時代，秦孝公重用商鞅變法，新制度讓秦國有效掌握全國人口數量，進而擴大徵兵的規模，最終統一六國，請問該制度相當於今天的何種制度？

(A) 司法制度 (B) 戶籍制度 (C) 地方自治制度 (D) 中央集權制度。

() 20. 右圖是秦代政治制度的示意圖，請問下列敘述何者正確？



(A) 此與封建制度相似，郡縣長官可以世襲

(B) 郡縣官吏稱為諸侯，與皇帝有血緣關係

(C) 此制度展現秦朝高度中央集權的特色

(D) 此制度實施後，造成秦國各地往來統治上的不便。

() 21. 老師在講解某個主題時，在黑板上放了一張東西交流路線圖，如下圖。從圖中內容判斷，這個主題最有可能是下列何者？



(A) 秦始皇修築長城抵禦游牧民族入侵

(B) 張騫出使西域後，開啟絲綢之路

(C) 唐太宗滅東突厥，被西域各族尊稱天可汗

(D) 唐朝在恒羅斯之役戰敗，造紙術因而西傳。

() 22. 丁丁是中國歷史上某一時期的才子，擁有一身才華，卻因為並非出身官宦大家族，所以只能被中正官評定為一個小縣官的等級，依據上述內容，可以知道丁丁所處的時代出現哪一種社會現象？

(A) 布衣卿相，平民崛起

(B) 貴族身份世代相襲

(C) 上品無寒門，下品無世族

(D) 萬般皆下品，唯有讀書高。

() 23. 圖書館新進書籍中的《漫畫中國史》，其中一個中國某時期的文字演變表，如下圖。請問：下面四個選項何者是有關「乙時期」的描述？

(A) 秦始皇統一文字，便於國家統治

(B) 漢武帝罷黜百家，儒家思想成為中國文化主流

(C) 實施科舉考試，擴大選才

(D) 中國文化向外傳播，影響了日文的文字。



() 24. 迪麗娜遠從阿拉伯來到長安城做生意，欽佩長安這座帝國首都，是東西文明的交會中心，這裡隨處可見西域人、大食人、新羅人、日本人等，充滿異國風情的多元風貌。請問：關於迪麗娜的時代，應與下列何者較為相關？

(A) 唐太宗對外族態度開放，兼容並蓄

(B) 秦始皇增築長城減少戰爭

(C) 張騫成功開通絲路 促進交流

(D) 北魏孝文帝漢化政策，促進外族漢化。

- () 25. 秦始皇與漢武帝都是史上有名的強勢君主。請問：兩人各自創立哪一種不同的制度？(A)封建制度、郡縣制度 (B)察舉制度、中央集權 (C)皇帝制度、察舉孝廉制度 (D)設立科舉、皇帝制度。

【請回答26-29題】

- ◎正所謂「讀萬卷書不如行萬里路」，疫情讓大家不能任意出國，只好跟著行腳節目「食尚玩家」的介紹，出國過過癮囉！
- () 26. 到了西藏旅遊，導遊說一定要品嚐當地的酥油茶與甜茶，西藏人甚至到了「寧可三日無油鹽。不可一日無茶」的程度。請問：藏人喝茶的歷史淵源，可以追溯自唐代何人的影響？(A)張騫 (B)漢武帝 (C)玄奘 (D)文成公主。
- () 27. 雲岡、龍門和莫高窟並稱中國三大石窟，興建於魏晉南北朝時期，以壁畫、雕刻聞名全世界。請問：這些藝術反映出哪一項史實？(A)大唐文化的外傳 (B)伊斯蘭教的傳播 (C)佛教在中國盛行 (D)玄奘自印度引入佛教。
- () 28. 到了南京旅遊參觀中國科舉博物館，主持人走在長達130公尺的坡道，體驗當年科舉路途的艱辛，並在參觀的過程中，了解到科舉制度對社會造成下列何種影響？(A)使貴族入仕當官的機會增加 (B)提升社會階層的流動性 (C)封建制度日漸盛行 (D)納稅的民眾增加。
- () 29. 節目前往日本，到了京都、奈良，發現京都與唐代長安城設計相似、奈良的東大寺都有唐代建築的特色，原因可能是？(A)絲路的開通，促使東西方間貿易活絡 (B)北魏孝文帝推動漢化政策也影響了日本 (C)胡商將西域的各類文化直接傳入日本 (D)日本派遣使者、學生到唐朝學習文化。

【請回答30-31題】

◎為方便學生閱讀，以下是歷史老師針對某皇帝頒發的聖旨做出的白話重點節錄：

一.我們發源於北方，後來到了平城
 二.平城只適合打仗，很難進一步發展文教
 三.崤山函谷關的長安、黃河的洛陽是歷代的帝都，若要坐穩江山，需要定都於此。

- () 30. 根據上文內容推斷，最有可能是哪一位皇帝所頒布的？(A)北魏孝文帝 (B)漢武帝 (C)秦始皇 (D)唐太宗。
- () 31. 上文這道聖旨的內容與下列哪一個選項關係最為密切？(A)和親貿易 (B)唐化運動 (C)漢化政策 (D)選才任官。

【請回答32-33題】

◎最近市面上出了一款主打回到中國古代成為人生勝利者的手遊，君君下載遊戲，進入遊戲畫面後，發現遊戲一開始有四個角色可以選擇，角色資料如下：

角色	個性特質	特殊技能	家世背景
姬康	溫文儒雅，謹守禮樂	識字、受過教育	天子的親戚
張甯	十分孝順，具有正義感	熟讀儒家經典、一向有孝子之名	先祖當過大官
王甫	驕傲又自負	打扮自己	地方世族
李傑	循規蹈矩，認真學習	善吟詩作賦	平民

- () 32. 這個手遊的新手教學模式規定玩家從漢代玩起，任務目標是成為漢代的官吏。請問：君君應該選擇哪個角色比較容易達成遊戲任務？(A)姬康 (B)張甯 (C)王甫 (D)李傑。
- () 33. 當君君完成新手教學後，遊戲開放了自由選擇朝代的功

能，而且多了一個固定的每日任務：當官。如果君君想要用李傑這個角色進行遊戲，請問她應該選擇哪個朝代，比較容易達成每日任務的要求？(A)西周 (B)漢代 (C)魏晉 (D)唐代。

- () 34. 下圖是國際特赦組織台灣分會在臉書發的一則貼文。請問：這則貼文可以展現國家存在的何項目的？(A)保衛國家安全 (B)保障基本人權 (C)維持社會秩序 (D)發展社會福利



國際特赦組織台灣分會 Amnesty International Taiwan

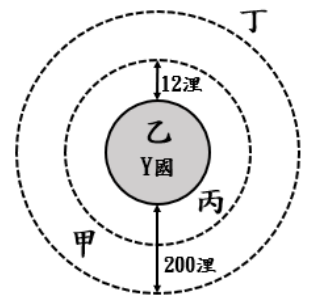
好消息！#古巴 通過同性婚姻合法化！

9月25日，古巴舉辦公投，全國三分之二的民眾投票通過新的《家庭法》(Family Code)，成為第9個同婚合法的拉丁美洲國家：

- ✓ #同性婚姻 合法化
- ✓ #同性伴侶收養子女 合法化
- ✓ #非商業性的代理孕母 合法化
- ✓ 婚姻定義由 #一男一女 改為 #兩人

- () 35. 「國人到柬埔寨求職卻遭詐騙受困」的事件頻傳，2022年7月達到高峰共258件，8月下降到58件，9月只發生了1件。而在各方的努力下也已救援至少285名受害國人返國。請問：上述主要是討論哪個國家組成要素？(A)人民 (B)領土 (C)政府 (D)主權。

- () 36. Y國是一個小島國，下圖灰底圈圈內是Y國的土地範圍。請問：甲、乙、丙、丁所在的位置，有幾個是在Y國的「經濟海域」上？



- (A)4個 (B)3個 (C)2個 (D)1個。
- () 37. 《大憲章》起初在制定時並非出於民主發展的理想，而是為了限制王「權」，以維護當時貴族的利益。但也影響了許多後代憲法的制定。請問：下列選項中的「權」，何者與上述的「權」意涵相同？(A)餐廳業者有「權」自行決定餐廳營業的時間 (B)經濟困難的家庭有「權」向社會局申請補助 (C)民眾有「權」在社群平台發表對時事的看法 (D)若將車輛違規停在紅線，警察有「權」開罰。
- () 38. 現今的社會大致分為法治社會與人治社會，下表是海海整理的5個重點，請問：下表的重點有幾個是正確的？(A)5個 (B)4個 (C)3個 (D)2個。

	法治社會	人治社會
(1)法律是如何制定的？	所有公民共同參與制定	由統治者或少數官員制定
(2)法律存在的目的是什麼？	保障人民權力	保障統治者權利
(3)執法是否有明確的依據？	是	否
(4)統治者是否受法律約束？	是	否
(5)人民是否要遵守法律？	是	是

- () 39. 義大利國會大選9月25日落幕，由義大利兄弟黨、義大利力量黨、聯盟黨和我們溫和黨組成的聯盟在參眾兩院皆取得過半席次，而贏得最多席次的義大利兄弟黨的黨主席梅洛尼可望出任總理，也將成為義大利史上首位女總理，在新的執政團隊帶領下義大利的未來會如何呢？各界拭目以待。請問：下列何者最能說明上述的內容？(A)政府是國家的組成要素之一 (B)國家的功能由政府具體實現 (C)政府是短暫、可改變的組織 (D)換政府代表原有的國家滅亡。

()40. 選舉的投票年齡各國不一，但以18歲為最大宗。為增加我國青年參與政治的權利，同時符合世界潮流，各界紛紛發出投票年齡下修的聲音。但我國憲法修改過程繁複，雖然經過甲提議，乙機關也已決議，但仍然要等到今年11月26日修憲公投通過，投票年齡才能下修。請問：根據上述，下列選項何者正確？

- (A)上文中提到的甲是指立法院委員
- (B)上文中提到的乙機關是指司法院
- (C)今年修憲公投的投票年齡是18歲
- (D)上文的敘述可呈現憲法的最高性。

【請回答 41-43 題】

《警械使用條例》修改聲浪早在2019年發生鐵路警察遇刺案時就出現，行政院也已於2020年提出修正草案，但卻遲遲沒有進展。直到日前發生震驚各界的臺南殺警案後才再次受到關注，當時內政部部长徐國勇更鼓勵員警「大膽用槍」。由於社會大眾的重視也加速了該法的修法速度。

其中最受關注的修改內容是「4種警員得使用槍械逕行射擊的情境」，包含嫌犯以致命性武器、危險物品或交通工具等攻擊、傷害、挾持、脅迫警員或他人時；有事實足認嫌犯持有致命性武器或危險物品意圖攻擊警員或他人時；嫌犯罪圖奪取警員配槍或其他可能致人傷亡之裝備時；其他危害警員或他人生命或身體，情況急迫時。

歷經朝野協商後，2022年9月30日該法終於順利修法成功，希望本次修法能讓警察執勤遇到自身生命受威脅時，能有更多使用槍枝的彈性空間和保障。

- ()41. 請問：上文中的法律是由哪個單位修改通過？
 (A)行政院 (B)立法院 (C)司法院 (D)內政部。
- ()42. 請問：下列選項中有幾項與上文中提到的法律屬於同一個法律位階？
 (A)1項 (B)2項 (C)3項 (D)4項。

- 甲、《中華民國憲法》
- 乙、《駐外機構組織通則》
- 丙、《藥物優良製造準則》
- 丁、《商業登記申請辦法》

- ()43. 請問：下列對文中修改的法律條文的敘述哪些正確？
 (A)甲乙
 (B)甲丙
 (C)乙丙
 (D)乙丁。

- 甲、為保障警察權益修正通過應立即生效
- 乙、如果有違憲疑慮將由大法官負責審理
- 丙、上文中所提到的法律屬於狹義的法律
- 丁、必須要公民投票複決通過後才可實施

【請回答 44-45 題】

前日本首相安倍晉三2022年7月在奈良發表選舉演說時遭民眾槍殺身亡，享年67歲。為了感念這位日本連續在位時間最長的首相對日本的貢獻，9月27日於東京的日本武道館舉行國葬典禮。當天各國政要紛紛前來弔唁，「日本政府因此動員超過2萬名警力進行最嚴格的交通與人流安全管制」。

當天場館外雖有上萬名民眾前來向安倍獻花致意，但也有不少示威民眾集結，抗議政府全額負擔本次國葬預算的決定沒有經過國會表決同意，而且自民黨內部與安倍刺殺案中相關的統一教會仍糾纏不清，日本媒體NHK公布最新民調也顯示57%民眾反對安倍國葬。縱使如此，當天的國葬典禮仍在莊嚴肅穆中順利落幕，安倍晉三也正式走下人生的舞台。

- ()44. 請問：上文中「」內的敘述所展現出國家的功能與下列選項何者相同？
 (A)臺中捷運通車後，希望可以帶動沿線經濟
 (B)政府加強取締酒後駕車，盼減少車禍發生
 (C)臺灣自主研發、建造的玉山軍艦公開亮相
 (D)臺北市舉辦白晝之夜，多項藝文活動登場。

()45. 請問：上文中，國葬典禮場外的景象正是展現民主政治的何項特色？

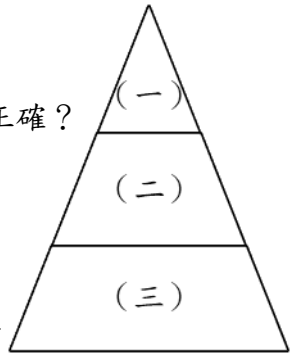
- (A)民意政治 (B)責任政治
- (C)政黨政治 (D)法治政治。

【請回答 46-47 題】

右圖是我國法律位階圖。

()46. 請問：下列選項對右圖的敘述哪些正確？

- 甲、(一)的敘述通常是最詳細的
- 乙、(二)是我國「廣義的法律」
- 丙、(二)不可以違反(三)
- 丁、(三)的修改過程最簡單。



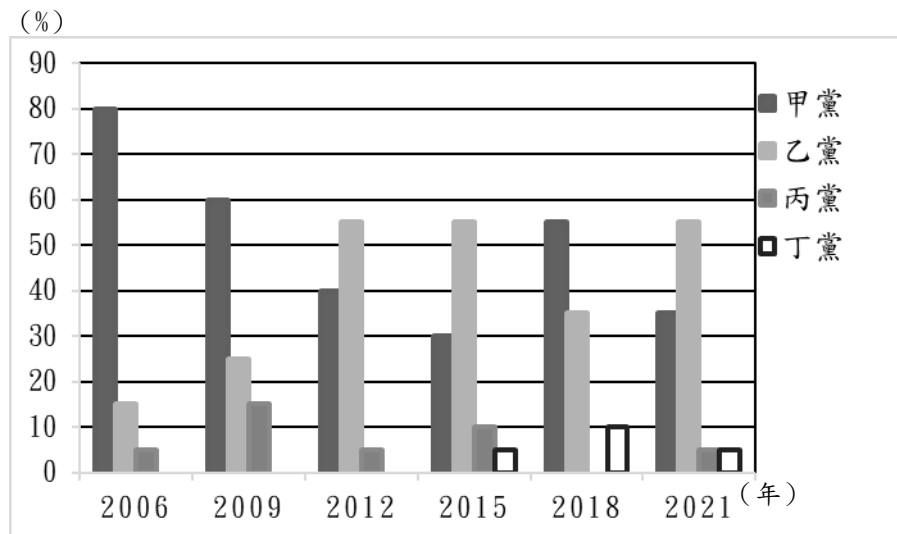
- (A)甲丙 (B)甲丁 (C)乙丙 (D)乙丁

()47. 請問：如果依據法律效力「由小至大」排列，下列何者的排列順序正確？

- (A) (一) → (二) → (三)
- (B) (一) → (三) → (二)
- (C) (三) → (一) → (二)
- (D) (三) → (二) → (一)

【請回答 48-50 題】

多多國是一個民主國家，每3年舉行一次總統選舉，各個政黨都能推派候選人參與選戰、爭取民眾支持，藉此獲得執政權。下圖是2006年至2021年間多多國總統選舉中各個政黨候選人的得票率。



()48. 請問：根據上圖2010年至2020年間多多國一共經歷幾次政黨輪替？(A)2次 (B)3次 (C)4次 (D)5次。

()49. 請問：下列選項對多多國2018年總統選舉的描述何者正確？

- (A)甲黨在選舉中獲勝成為在野黨
- (B)乙黨負責組織政府、執行政策
- (C)丙黨掌握政治權力可能會濫權
- (D)丁黨扮演監督政府施政的角色。

()50. 請問：上文和上圖所展現出的民主政治特色與下列何者相同？

- (A)公民團體可以上街頭抗議遊行
- (B)在野黨批評執政黨的政策失敗
- (C)政府依法開罰排放汙水的工廠
- (D)官員為不當的發言向民眾道歉。