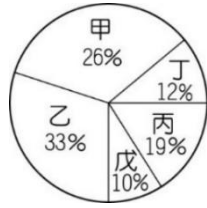


新北市立三多國民中學 112 學年度第 1 學期第 1 次定期評量 八年級社會科試題

【請依規定以 2B 鉛筆在答案卡劃記作答】

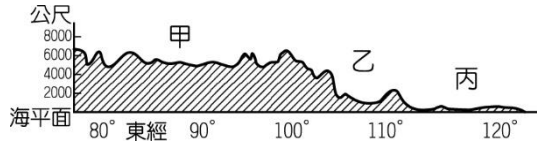
選擇題：每題 2 分(1-16 題為地理；17-33 題為歷史；34 至 50 題為公民)

() 1.右圖為中國五大地形面積比例圖，圖中「乙」所占面積比例最大，指的是下列哪一種地形？



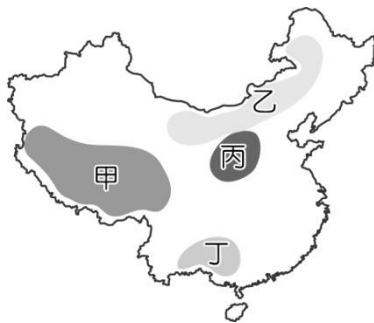
(A)山地 (B)高原 (C)平原 (D)丘陵

() 2.中國地勢依地形高度，分為高、中、低三階，下圖為中國地勢三階梯的地形剖面圖，請問下列敘述何者正確？



(A)由甲到丙的方向為由東向西
(B)塔里木盆地位於「甲」階梯
(C)四川盆地位於「乙」階梯
(D)「丙」階梯主要地形為平原、盆地。

() 3.中國某地形區的南部位於農牧過渡地帶，因氣候乾燥少雨、生態環境脆弱、水土流失嚴重及自然災害頻繁，被聯合國認為是最不適宜人類生存的地區之一，因此 2011 年當地政府對人民實施搬遷計畫。上述地形區應是右圖中何者？(A)甲 (B)乙 (C)丙 (D)丁。

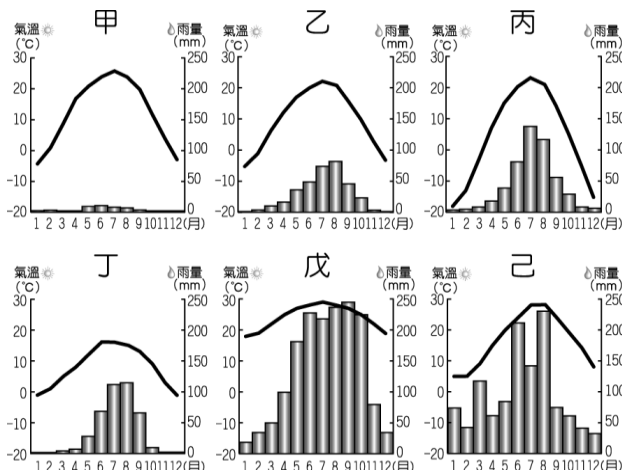


() 4.中國為了方便南北交通往來，開闢直通黑龍江省與海南省的列車，連結中國最南與最北的省分，故有「天南海北第一車」之稱，許多民眾選擇在冬季搭乘，一路從嚴寒的冰天雪地到溫暖的海南島過冬。請問：影響該路線氣溫高低的主要因素為何？(A)緯度 (B)地形 (C)季風 (D)距海遠近。

() 5.中國的氣候受緯度、地形、季風、距海遠近等因素影響，而有空間上的差異，右圖中沿著箭頭所指的路線從甲地至乙地，某一數據會「遞增」。上述所指的數據資料應為何者？(A)一月月均溫 (B)年溫差 (C)年降水量 (D)雨季長短。



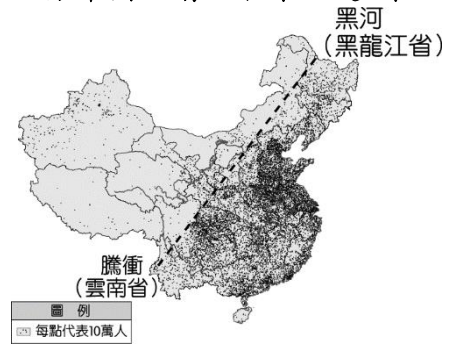
() 6.中國面積廣大，形成多樣性的氣候分布特色。下圖為中國境內某六個行政區的氣候圖。請問：下列行政區與氣候圖的配對，何者正確？



(A)西藏自治區：乙
(B)上海市：丙
(C)新疆維吾爾自治區：丁
(D)香港特別行政區：戊。

班級： 座號： 姓名：

◎下圖為中國人口分布圖，請回答第 7 題~第 8 題：



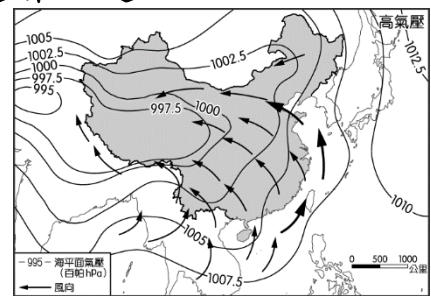
() 7.有關黑河-騰衝連線的東西部特色比較，何者正確？

特色	西半部地區	東半部地區
(A)人口	多	少
(B)面積	大	小
(C)地形	平原、丘陵為主	高原、盆地為主
(D)氣候	溫和濕潤	乾燥少雨

() 8.圖中黑河-騰衝連線是中國重要的分界線，與下列哪個分界線的位置大致相符？

(A)地勢中階梯與低階梯的分界線
(B)農業區水田與旱田的分界線
(C)一月月均溫 0°C 等溫線
(D)年降水量 500mm 等雨量線。

◎下圖為中國某個季節的氣壓分布與風向圖，請根據圖中資訊回答下列第 9 題~第 12 題：



() 9.由圖中資料判斷，這是中國哪一季節的氣壓與風向？

(A)春季 (B)夏季 (C)秋季 (D)冬季。

() 10.中國季風的形成主要受到何種因素的影響？

(A)地勢高低起伏 (B)年溫差變化
(C)海陸性質差異 (D)緯度分布位置。

() 11.依圖中資訊判斷，中國首都在這個季節裡，經常吹哪一個方向的風？

(A)東南風 (B)西南風 (C)東北風 (D)西北風。

() 12.由圖中資料判斷，下列對於當時氣候特徵的敘述，何者正確？

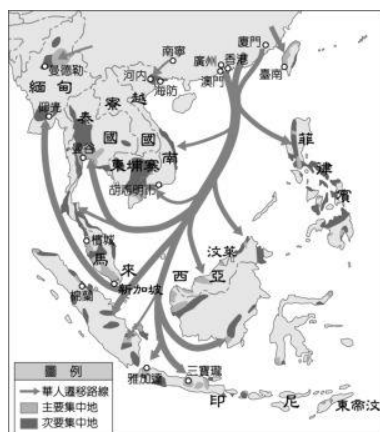
(A)中國主要的降雨季節
(B)陸地受到高氣壓籠罩
(C)青藏高原月均溫達 30°C 以上
(D)北部地區可看到美麗的雪景。

◎中國歷史上經歷過許多次人口大量遷移，請回答第 13 題~第 15 題：

() 13.「早期中國文化重心在北方，但因(甲)饑荒或戰亂等因素，部分人民向南遷移。因(乙)南方氣候較適宜農耕，且移民帶來農耕技術，農田開墾面積日增，糧食生產增加，南方人口也逐漸增多。到了明清時期，東南沿海地區(丙)人口急速增加，且因(丁)多山地形，謀生不易，部分居民遠渡重洋移居東南亞或渡海來臺灣開墾。」人口遷移的原因可分為「拉力」和「推力」，請判斷上文中的甲~丁分別屬於哪一種，何者與其它不同？

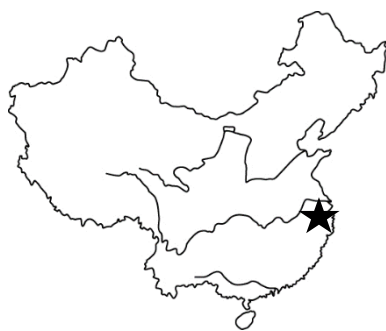
(A)甲 (B)乙 (C)丙 (D)丁。

- ()14.右圖為明清時期華人的遷徙路線圖，由於當時船隻多依賴風力前進，依據遷徙的路線判斷，這些華人移民最可能是利用哪一個季節前往移居地區？
(A)春 (B)夏
(C)秋 (D)冬。



- ()15.文化擴散指人口發生國內或國外移動，使移民者將原鄉文化帶到移居地。明清時期，遠渡重洋移居東南亞或渡海來臺開墾的華人原鄉多來自中國東南沿海，有關於其原鄉文化的敘述，何者正確？(A)麵、饅頭、包子、大餅都是餐桌上常見的食物 (B)部分地區缺乏建材，利用黃土不易崩塌的特性，挖鑿窯洞居住 (C)因潮濕多雨、地形崎嶇複雜，過去多興建可配合崎嶇地形且利於防潮之干欄式建築 (D)氣候炎熱，夏季利用融化的雪水發展農業，種出好吃的瓜果與葡萄。

- ()16. 2023 杭州亞運於 9 月 23 日至 10 月 8 日舉行，杭州位於右圖中的「★」記號的位置。請問：下表中哪一個選項的資料最有可能為杭州的氣候資料？

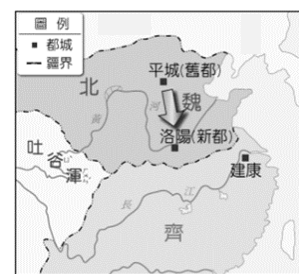


	一月均溫(°C)	七月均溫(°C)	年降水量(mm)
(A)	-18	22	518
(B)	-15	29	20
(C)	19	30	1689
(D)	4	28	1110

- ()17.商鞅變法使秦國富國強兵，下列何者是他變法的內容？
(A)以皇帝為君王的新稱號 (B)廢郡縣行封建 (C)獎勵軍功 (D)統一度量衡。
- ()18.郝艾九搭乘火車前往西藏觀光，沿途景觀美的讓他捨不得眨眼。到了西藏，他發現有不少人信奉佛教，導遊說這是因為某人當年帶來佛教，西藏人才開始信仰佛教。請問：某人指的是下列哪位？
(A)北魏孝文帝 (B)文成公主 (C)玄奘 (D)張騫。
- ()19.季幸又對於記人名很有障礙，不僅常搞錯同學姓名，歷史課本上的人物更讓她頭昏眼花。某天歷史考卷上有一題「曾被西北各族尊稱為天可汗，為東亞地區的盟主」，她又答錯了，請你協助她訂正。請問：應該填下列哪個答案？
(A)秦始皇 (B)漢武帝 (C)北魏孝文帝 (D)唐太宗。
- ()20.承上題，當時被尊稱為天可汗，主要的原因為何？
(A)建造長城阻絕外族入侵 (B)派遣使節前往西域各國傳授文化 (C)擊敗強大勢力東突厥穩定秩序 (D)將西北各族納入版圖。
- ()21.今日說別人有「封建思想」，是指對方思想陳舊保守，不易接受新觀念、新事物。但封建制度一開始與思想無關，而是統治者透過許多規範來維護與諸侯之間的關係。請問：下列何者與封建制度沒有關係？(A)階級嚴明 (B)禮樂措施 (C)宗法血緣 (D)編列戶籍。
- ()22.«孟姜女哭倒長城»是中國傳統民間故事。敘述孟姜女的丈夫被政府徵召去築長城，孟姜女千里尋夫不得，最

終哭倒長城終於發現先生的屍骨。以歷史分析觀點來看，這則故事也反映當時政府濫用民力，造成人民不滿，最終導致滅亡。請問：此故事最可能發生在哪個朝代？
(A)秦朝 (B)漢朝 (C)魏晉南北朝 (D)唐朝。

- ()23.以唐代為背景的傳奇故事《枕中記》，描述一位盧姓書生，娶了名門之女，連連升官成為位高權重的宰相，享受榮華富貴，最後高齡含笑離世。此時，書生醒了過來，發現自己在旅店中睡了短暫的午覺，旅店老闆在他睡前開始蒸煮的黃粱飯都還沒煮熟呢！其實在現實中，盧姓書生只是位想當官卻不可得的落魄書生。上述為成語「黃粱一夢」的由來，比喻榮華富貴如夢般短暫而虛幻，且終歸泡影。請問：下列何者最可能是盧姓書生想當官卻不可得的原因？(A)家世背景清寒，無法與世家大族競爭 (B)考不上科舉無法當官 (C)為平民階級，官職被封建貴族壟斷 (D)皇室有胡人血統，歧視像盧姓書生這樣的漢人。
- ()24.魏晉南北朝時代經濟重心逐漸南移。請問：主要的原因為下列何者？(A)受周邊地區的影響，形成東亞文化圈 (B)與西域交流頻繁，刺激經濟成長 (C)漢人南遷，帶來農耕技術和充沛的人力 (D)黃河流域水質改變，農業生產量低，農業移至南方。
- ()25.右圖是北魏都城的遷移路線，關於這項遷都計畫，下列說明何者正確？(A)遷都目的是防範北方的匈奴侵略 (B)配合遷都計畫，北魏提倡胡服、胡語，以延續傳統文化 (C)遷都使鮮卑族提高漢化程度 (D)遷都後將人民分階級，加強對人民的控制。

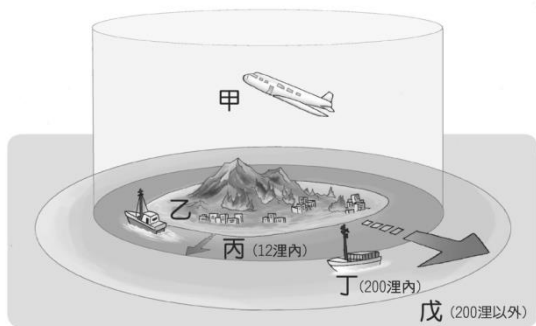


- ()26.佛教剛傳入中國時，信仰的民眾並沒有很多，但到了魏晉南北朝卻大為流行，其原因不包括下列何者？(A)從日本、朝鮮傳入許多佛教經典 (B)佛經翻譯 (C)許多國君大力提倡 (D)戰亂多，人民需精神寄託。
- ()27.艾傳虔是唐朝出生於長安的商人，下列何者最可能是他日常生活會遇到的事？(A)政府下令禁止崇拜伊斯蘭教 (B)工作結束後，喝著葡萄酒觀賞胡旋舞表演 (C)和胡商討論造紙術傳入中國的軼事 (D)關心政府與君子國大戰於恒羅斯的戰爭狀況。
- ()28.匈奴的起源很早，不同時期對匈奴採取的策略也不相同。請問：從東周、秦始皇到漢武帝對匈奴所採行的策略，何者正確？(A)築長城→築長城→戰爭攻打 (B)戰爭攻打→戰爭攻打→築長城 (C)築長城→嫁公主→戰爭攻打 (D)築長城→戰爭攻打→嫁公主。
- ()29.陳小潔想透過短片介紹西周至東周的社會變化，下列哪個場景最可能出現在她的影片中？(A)沒有戰爭的太平盛世，人民富足 (B)平民受階級限制，一生只能以務農為業 (C)各國商人貿易，因貨幣統一暢行無阻 (D)某個貴族流落民間，以授課講學維生。
- ()30.甄賢能是生活在漢朝，如果他想要到朝廷擔任官員，請問：他該如何做呢？(A)熟讀法家經典便可任官 (B)入太學就讀，保持成績優異可任官 (C)可透過九品官人之法當官 (C)考上科舉取得擔任官員的資格。
- ()31.絲綢之路是指從長安出發，經甘肅、新疆，到中亞、西亞，最遠可到達歐洲，雖然從字面上來看，絲路只是一條貿易路線，但在歷史上有其重大貢獻，因此在 2014 年 6 月正式被聯合國教科文組織列為世界遺產。請問：下列有關絲路的敘述何者正確？(A)促進東西之間的文化交流 (B)漢朝時最遠可達大食帝國 (C)路線包含全部「東亞文化圈」的國家 (D)為草原文化與農耕文化的分界線。

◎請參考下圖，回答第 32~33 題：



- () 32. 關於圖中的箭頭標示，請問：下列何種解讀較為正確？
 (A) 是唐朝對外擴張的路線 (B) 是唐朝人口遷移的路徑
 (C) 是唐朝商人的貿易區域 (D) 是唐朝文化傳播的方向
- () 33. 請問：當時的情況對日本造成什麼影響？ (A) 臣服於唐朝，納入唐朝版圖 (B) 展開改革使國力強盛，大量僧侶、留學生移居日本 (C) 玄奘前往日本傳教，使佛教在日本進一步發展 (D) 展開「大化革新」改革運動。
- () 34. 八年級公民任課教師 Mr. Floyd 在上第一章課程時有提到人民、國民和公民的關係，請問以下哪位同學說法最為正確？
 (A) 小婷：人民是國家的組成分子，為最基本要素
 (B) 阿霆：居住在同一國家或地區的人群稱為國民
 (C) 小岑：具有本國國籍的人民一定是該國的公民
 (D) 阿睿：在我國，具有公民權的法定年齡為 18 歲
- () 35. 一個國家統治權所能支配的地理區域包含下圖中哪些部分？



- (A) 甲乙丙 (B) 乙丙丁 (C) 甲乙戊 (D) 丙丁戊
- () 36. 新聞報導：喬治亞在今年 9 月 11 日宣布從即日起給予中國公民免簽待遇，但拒絕持有中華民國護照者入境，被外交部列為「對我不友善國家」。根據上述內容判斷，為我國何種國家組成要素沒有受到該國的承認？
 (A) 人民 (B) 領土 (C) 政府 (D) 主權
- () 37. 2022 年 2 月 24 日，俄羅斯開始對烏克蘭進行「特別軍事行動」，發動侵略戰爭。原本俄方預估只要花 96 小時就能結束戰事，但烏克蘭軍民奮力抵抗，以致目前戰爭已打了一年多。請問對於這場戰事，哪位同學的說法最為正確？
 (A) 小樺：對於烏克蘭軍民來說，被誰統治都沒關係，不關他們的事
 (B) 阿杰：烏克蘭奮勇抵抗的原因是當主權喪失時，也意味國家滅亡
 (C) 小家：目前世界各國大多是支持俄羅斯這邊，烏克蘭沒幾國協助
 (D) 阿宇：中國和西方各國的態度一樣，都選擇站在支持烏克蘭這方
- () 38. 鄰近樹林高中的原樹林酒廠，後因遷移的關係，原址改設為大同科技園區，希望能藉此以提升國家的競爭力，請問這樣的作法最符合國家存在具有的哪一項功能？
 (A) 人權 (B) 秩序 (C) 經濟 (D) 文化

- () 39. 日前新聞報導：第一艘由我國自行製造的潛艦—海鯤號，於今年 9 月 28 日，由蔡英文總統主持「命名暨下水典禮」。請問「潛艦國造」最能夠符合國家存在具有的哪一項功能？
 (A) 人權 (B) 文化 (C) 安全 (D) 福利
- () 40. 小湄剛升上三多國中八年級，上週收到老師發的註冊繳費單。她發現學校有部分同學因家境經濟因素，符合資格可減免註冊的相關費用。請問這樣的作法最符合國家存在具有的哪一項功能？
 (A) 安全 (B) 秩序 (C) 經濟 (D) 福利
- () 41. 日前新聞報導：因近期國內產生缺蛋狀況，故政府向海外訂購雞蛋來因應。卻發生有效標示不符的情況，引起民眾的恐慌，種種爭議引發農業部長及中央畜產會董事長辭職下台。請問這兩位政府官員請辭以示負責的狀況最符合民主政治的哪項特色？
 (A) 民意政治 (B) 責任政治 (C) 政黨政治 (D) 法治政治
- () 42. 三多國中在設立之初，曾於附近的住宅社區以及學區三所國小分別舉辦設校公聽會，在會中說明校舍設計規劃的相關內容，同時聽取參與民眾、家長，甚至同學們的意見以供參考。請問這樣的作法最符合民主政治的哪項特色？
 (A) 民意政治 (B) 責任政治 (C) 政黨政治 (D) 法治政治
- () 43. 阿承在社群網站詢問網友以下問題，請問哪位網友的回應最為正確？

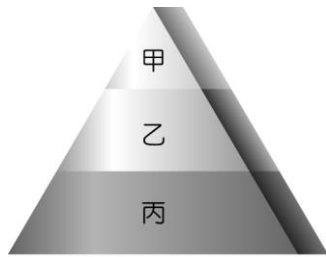
動態分享

明年又要進行總統大選了，一大堆訊息充斥，有人說「政黨輪替」才能讓國家更進步，到底什麼是「政黨輪替」？

- (A) 小扉：國家在政黨輪替時解散，新政府成立後重組
 (B) 阿閔：我國未發生過政黨輪替，因此國內政局穩定
 (C) 小芳：政府施政不符民意，人民改為支持其他政黨
 (D) 阿耀：政黨輪替表示民眾支持原本的政府繼續執政
- () 44. Mr. Floyd 上公民第二章時課程時提到人治社會和法治社會的區別，下課後幾位同學進行討論並提出自己的說法。請問哪位同學的敘述內容最為正確？
 (A) 小芊：人治社會是以人民意見為依歸，保障人民的權利
 (B) 阿安：在人治社會中，統治者也要遵守自己意思的法律
 (C) 小馨：法治社會中，政府權力受法律限制，須依法行政
 (D) 阿歲：在法治社會，人民須嚴格遵守統治者制定的法律
- () 45. 「權利」是指人民依法享有的各種利益，且不受國家非法侵犯，請問下列何者是「基本權利」的展現？
 (A) 段考結束的周末假期，同學相約至秀泰影城看電影
 (B) 以色列總理近日向哈瑪斯組織宣戰，進軍迦薩走廊
 (C) 因應雙十國慶活動周邊道路交通管制，車輛需繞道
 (D) 樹林區警方執行暑假青春專案，於轄區內擴大臨檢
- () 46. 日前中度颱風小犬侵襲臺灣，因北北基桃區域因未達「天然災害停止上班及上課作業辦法」內容的停班停課標準，故 10 月 5 日仍維持上班上課。請問上述內容的「辦法」，在法的層級中應屬何種位階？
 (A) 憲法 (B) 法律 (C) 命令 (D) 以上皆非

背面尚有試題！

- ()47.下圖為我國法律位階金字塔圖，請問：圖中法律位階與其法令的配對，何者正確？



- (A)甲—《道路交通管理處罰條例》
(B)乙—《地方立法機關組織準則》
(C)乙—《中華民國憲法增修條文》
(D)丙—《原住民族教育法施行細則》
- ()48.關於我國《憲法》的修正程序，下列敘述何者錯誤？
(A)由總統提議
(B)立法院議決提出憲法修正案
(C)選舉人投票複決
(D)有效同意票超過選舉人總額之半數
- ()49.阿台利用假期複習即將來臨的第一次段考公民內容，有關他複習到憲法的相關內容，下列敘述何項正確？
(A)法令抵觸《憲法》時無效，因《憲法》具有固定性
(B)憲法的位階最高，法律與命令制定須合乎憲法精神
(C)《憲法》是原則性規範，鉅細靡遺，不用另行補充
(D)憲法因保障人民權利，所以很容易修改以方便調整
- ()50.關於我國各種法律的制定、修正方式，以下哪位同學的說法，最為正確？
(A)小心：《憲法增修條文》：由人民修正
(B)阿銓：法律：由立法院制定、修正
(C)小安：命令：由立法院制定、修正
(D)阿甬：《中華民國憲法》：由總統制定